



POLÍCIA MILITAR DO ESTADO DE SÃO PAULO
DIRETORIA DE PESSOAL

Concurso Público

001. PROVA OBJETIVA – PARTE I

Soldado PM de 2ª Classe

- ◆ Você recebeu sua folha de respostas, este caderno, contendo 60 questões objetivas e um tema de redação a ser desenvolvido, e a folha de redação para transcrição do texto definitivo.
- ◆ Confira seus dados impressos na capa deste caderno e nas folhas de respostas e de redação.
- ◆ Quando for permitido abrir o caderno, verifique se está completo ou se apresenta imperfeições. Caso haja algum problema, informe ao fiscal da sala.
- ◆ A folha de redação deverá ser assinada apenas no local indicado; qualquer identificação ou marca feita pelo candidato no verso da folha de redação, que possa permitir sua identificação, acarretará a atribuição de nota zero à redação.
- ◆ Redija o texto definitivo e preencha a folha de respostas com caneta de tinta azul ou preta. Os rascunhos não serão considerados na correção. A ilegibilidade da letra acarretará prejuízo à nota do candidato.
- ◆ A duração das provas objetiva e de redação é de 4 horas, já incluído o tempo para o preenchimento da folha de respostas e para a transcrição do texto definitivo.
- ◆ Só será permitida a saída definitiva da sala e do prédio após transcorridos 75% do tempo de duração das provas.
- ◆ Deverão permanecer em cada uma das salas de prova os 3 últimos candidatos, até que o último deles entregue sua prova, assinando termo respectivo.
- ◆ Ao sair, você entregará ao fiscal a folha de redação, a folha de respostas e este caderno, podendo levar apenas o rascunho de gabarito, localizado em sua carteira, para futura conferência.
- ◆ Até que você saia do prédio, todas as proibições e orientações continuam válidas.

Nome do candidato _____

RG _____

Inscrição _____

Prédio _____

Sala _____

Carteira _____

AGUARDE A ORDEM DO FISCAL PARA ABRIR ESTE CADERNO.

Leia a charge para responder às questões de números 01 a 04.



(Chargista Duke. <https://www.otempo.com.br>)

01. As informações da charge permitem concluir corretamente que

- (A) o cenário econômico opõe-se à condição de miséria da personagem.
- (B) a situação de miséria da personagem passa despercebida por todos.
- (C) o desinteresse da personagem por um emprego levou-a à miséria.
- (D) a personagem ficou miserável em decorrência da falta de emprego.
- (E) a mudança na conjuntura econômica ajudou a vida da personagem.

02. No contexto em que está empregada, a locução verbal “Vai trabalhar” equivale a

- (A) uma solicitação, no modo verbal indicativo, permeada de sentido de sarcasmo.
- (B) um conselho, no modo verbal subjuntivo, permeada de sentido de orientação.
- (C) uma recomendação, no modo verbal imperativo, permeada de sentido de hostilidade.
- (D) uma advertência, no modo verbal subjuntivo, permeada de sentido de humor.
- (E) uma ordem, no modo verbal imperativo, permeada de sentido de cortesia.

03. Em conformidade com a norma-padrão, a ideia contida nas placas está corretamente expressa em:

- (A) Acabou as vagas.
- (B) Não tem-se vagas.
- (C) Não existem vagas.
- (D) Falta vagas.
- (E) Vivem-se a falta de vagas.

Leia o texto para responder às questões de números **04 a 10**.

Uso de inteligência artificial pode aumentar desemprego no Brasil, diz FGV

Responsável por reduzir burocracias, automatizar processos e aumentar a eficiência, o uso de inteligência artificial (IA) pode aumentar o desemprego no País em quase 4 pontos percentuais nos próximos 15 anos. Os dados são de um estudo desenvolvido pelo professor Felipe Serigatti, da Fundação Getúlio Vargas (FGV), em parceria com a Microsoft.

Para simular o impacto da adoção de IA na economia brasileira, a pesquisa estipulou três cenários: um conservador, no qual a taxa de crescimento da adoção de IA pelo mercado brasileiro é de 5%, durante 15 anos. Nesse panorama, a economia também cresce menos do que o estimado para os próximos anos. No cenário intermediário, o número é de 10%, com crescimento estável. Já no mais agressivo, em um mundo em que a economia tem projeção otimista de crescimento, a adoção de IA subiria 26% no período – é nesse último que o desemprego pode aumentar em 3,87 pontos percentuais, no saldo geral da população.

No mais severo dos cenários, os mais afetados serão os trabalhadores menos qualificados, que poderão ver o desemprego aumentar em 5,14 pontos percentuais; já o número de vagas qualificadas pode subir com a adoção massiva de inteligência artificial, em até 1,56 ponto percentual. “A inteligência artificial aumentará a desigualdade”, alertou Serigatti, que é professor de Economia da FGV.

A pesquisa analisou seis segmentos diferentes da economia: agricultura, pecuária, óleo e gás, mineração e extração, transporte e comércio e setor público (educação, saúde, defesa e administração pública). Os trabalhadores mais afetados no cenário mais agressivo são os mais qualificados dos setores de óleo e gás e de agricultura, dois dos principais pilares da economia brasileira. O primeiro tem redução nos empregos de 23,57%, e o segundo, de 21,55%.

(Bruno Romani, “Uso de inteligência artificial pode aumentar desemprego no Brasil, diz FGV”. <https://link.estadao.com.br>. Adaptado)

04. A leitura comparativa entre a charge de Duke e o texto do *Estadão* permite afirmar que

- (A) o desemprego tende a se manter estável nos próximos anos, já que existe uma projeção otimista de crescimento.
- (B) o cenário desolador do desemprego no Brasil será plenamente revertido em até 15 anos, graças ao crescimento econômico.
- (C) a redução do desemprego é uma realidade remota que privilegiará eventualmente os trabalhadores menos qualificados.
- (D) a piora na economia continuará a tirar com mais vigor postos de trabalho, já que nenhuma projeção prevê crescimento econômico.
- (E) o recrudescimento do desemprego vivido no presente do país é uma realidade que tende a se estender pelos próximos anos.

05. As informações textuais deixam evidente que

- (A) o impacto do desemprego gerado pela adoção da inteligência artificial é igual nos seis segmentos diferentes da economia, de acordo com a pesquisa da FGV.
- (B) a pesquisa mostra que o desemprego será o mesmo nos próximos 15 anos, independentemente da forma como a inteligência artificial seja adotada.
- (C) o melhor cenário para a economia brasileira é o mais agressivo, no qual não haverá impactos negativos com redução de postos de trabalhos.
- (D) a inteligência artificial aumentará a desigualdade social, principalmente em um cenário agressivo com projeção otimista de crescimento econômico.
- (E) a adoção da inteligência artificial na economia poderá trazer desemprego, mas, paradoxalmente, trará crescimento financeiro à população em geral.

06. Assinale a alternativa em que a informação apresentada é coerente com o exposto no texto.

- (A) No cenário intermediário, o número é de 10%, com crescimento inconstante. Já no mais ofensivo, em um mundo em que a economia tem projeção limitada de crescimento, a adoção de IA subiria 26% no período.
- (B) No mais rigoroso dos cenários, os mais afetados serão aqueles trabalhadores com menos qualificação, já o número de vagas qualificadas poderá subir com a adoção intensiva de inteligência artificial.
- (C) Para simular o efeito da adoção de IA na economia brasileira, a pesquisa estabeleceu três cenários: um deles é reacionário, no qual a taxa de crescimento da adoção de IA pelo mercado brasileiro é de 5%, durante 15 anos.
- (D) A inteligência artificial, cuja responsabilidade é diminuir burocracias, automatizar processos e intensificar a eficiência, promete reduzir a falta de emprego no País em 4 pontos percentuais nos próximos 15 anos.
- (E) A pesquisa da FGV aponta que os trabalhadores mais privilegiados no cenário mais agressivo são os mais qualificados dos setores de óleo e gás e de agricultura, dois dos pilares menos influentes da economia brasileira.

07. Assinale a alternativa em que a colocação pronominal atende à norma-padrão.

- (A) No cenário mais agressivo da adoção da IA, tem projetado-se aumento de desemprego de 3,87%.
- (B) Geralmente afetam-se os trabalhadores menos qualificados, no mais severo dos cenários de adoção da IA.
- (C) A pesquisa da FGV indica que se afetará o emprego dos trabalhadores no Brasil com a adoção da IA.
- (D) Se definiram três cenários na pesquisa, para simular o impacto da adoção de IA na economia brasileira.
- (E) Caso adote-se a IA em um cenário conservador, a economia crescerá menos do que o estimado.

08. Considere as passagens do texto:

- **Para** simular o impacto da adoção de IA na economia brasileira, a pesquisa estipulou três cenários... (2º parágrafo)
- No mais severo dos cenários, os mais afetados serão os trabalhadores menos qualificados, **que** poderão ver o desemprego aumentar em 5,14 pontos percentuais... (3º parágrafo)

Os termos destacados são responsáveis por articular os enunciados do texto, estabelecendo entre eles, respectivamente, relações de sentido de

- (A) finalidade e explicação.
- (B) consequência e causa.
- (C) causa e consequência.
- (D) finalidade e adição.
- (E) causa e explicação.

09. De acordo com a norma-padrão, o título do texto está corretamente reescrito e pontuado em:

- (A) FGV diz que, uso de inteligência artificial pode aumentar desemprego no Brasil.
- (B) “FGV diz” – uso no Brasil de inteligência artificial pode aumentar desemprego.
- (C) Diz FGV, uso de inteligência artificial no Brasil pode aumentar desemprego.
- (D) “No Brasil, uso de inteligência artificial pode aumentar desemprego”, diz FGV.
- (E) No Brasil uso de inteligência artificial pode aumentar desemprego diz FGV.

10. Assinale a alternativa em que a forma verbal destacada expressa sentido de projeção futura.

- (A) ... os mais afetados **serão** os trabalhadores menos qualificados... (3º parágrafo)
- (B) O primeiro **tem** redução nos empregos de 23,57%... (4º parágrafo)
- (C) ... a pesquisa **estipulou** três cenários... (2º parágrafo)
- (D) ... alertou Serigatti, que **é** professor de Economia da FGV. (3º parágrafo)
- (E) Os dados **são** de um estudo desenvolvido pelo professor Felipe Serigatti... (1º parágrafo)



(<http://chargeonline.com.br>)

11. As informações da charge permitem concluir que

- (A) a imprecisão dos pedidos ao gênio faz com que ele desista de realizá-los.
- (B) a capacidade de realizar os pedidos existe, mas o gênio não quer atendê-los.
- (C) o gênio se declara incapaz de resolver a situação de desemprego, que também o afeta.
- (D) o homem faz pedidos comuns e parecidos ao gênio, o que o deixa bem irritado.
- (E) o gênio é mais um na estatística do desemprego e, por isso, quer ajudar o homem.

12. Sem prejuízo à norma-padrão e ao sentido do texto, a frase do gênio está devidamente reescrita em:

- (A) E você acha que, desde que eu posso arrumar todos esses empregos, eu estou aqui fazendo bico de gênio?
- (B) E você acha que, como eu posso arrumar todos esses empregos, eu estarei aqui fazendo bico de gênio?
- (C) E você acha que, quando eu pude arrumar todos esses empregos, eu estaria aqui fazendo bico de gênio?
- (D) E você acha que, caso eu pudesse arrumar todos esses empregos, eu estaria aqui fazendo bico de gênio?
- (E) E você acha que, ainda que eu posso arrumar todos esses empregos, eu estarei aqui fazendo bico de gênio?

Leia o texto para responder às questões de números **13 a 20**.

Mais ócio, por favor

Quando o sociólogo italiano Domenico De Masi lançou o conceito de “ócio criativo”, em seu livro homônimo de 2000, foi alçado à condição de pensador revolucionário e à lista dos mais vendidos.

O sucesso se deveu à explicação do espírito daquele tempo, ao apontar que tão essencial ao crescimento profissional quanto o estudo e o trabalho eram os momentos de desconexão com a labuta que abririam as portas para a criatividade e para “pensar fora da caixinha”. A intenção era alcançar uma fusão entre estudo, trabalho e lazer para aprimorar o conhecimento, vivenciar diferentes experiências e instigar a criatividade.

Com o lançamento de “Uma Simples Revolução”, um best-seller, o sociólogo prega uma nova guinada no pensamento empresarial.

Ao analisar as taxas de desemprego e de desocupação, para De Masi, a única saída é reduzir a carga de trabalho individual e abrir novas vagas. “Se as regras do jogo não mudarem, o desemprego – aberto ou oculto – está destinado a crescer em dimensão patológica”, escreve.

O Brasil é um dos países que vivem essa realidade, com um desemprego de mais de 13 milhões de pessoas, segundo dados mais recentes do IBGE (Instituto Brasileiro de Geografia e Estatística). Mais de 5 milhões de pessoas procuram trabalho no país há um ano ou mais, o que representa quase 40% desse total.

A lógica do mercado não ajuda a melhorar esses números. As empresas tentam reduzir suas folhas de pagamento, mesmo que isso signifique mais horas extras.

Só que, de acordo com o sociólogo, quanto mais horas um indivíduo trabalha, mais ele contribui para a taxa de desocupação. “Na Alemanha, onde todos trabalham, em média, 1400 horas, o desemprego está em 3,8% e o emprego está em 79%. Já na Itália, onde um italiano trabalha em média 1800 horas, o desemprego está em 11% e o emprego está em 58%”, detalha.

“Para eliminar o desemprego, o único remédio válido é reduzir as horas de trabalho, mantendo o salário e aumentando o número de vagas”, diz, em entrevista ao UOL.

(Lúcia Valentim Rodrigues, “Mais ócio, por favor”.
<https://noticias.uol.com.br>. Adaptado)

13. As informações do texto, fundamentadas no pensamento de Domenico De Masi, evidenciam que

- (A) o pensamento revolucionário sugere que as pessoas trabalhem mais horas diárias, mesmo em um cenário social marcado pelo desemprego.
- (B) o aumento de horas extras laborais elimina as possibilidades do ócio criativo, mas, por outro lado, é a chave para a criação de postos de trabalho.
- (C) o aumento do desemprego precisa ser combatido com redução da carga horária dos trabalhadores, acompanhada da diminuição de seus salários.
- (D) a situação de emprego na Alemanha é melhor do que na Itália porque naquele país o trabalho está acima da média mundial, o que aumenta a produtividade.
- (E) a saúde do sistema produtivo com garantia de empregabilidade depende da redução da carga de trabalho individual, o que garantiria a abertura de novas vagas.

14. De acordo com Domenico De Masi, uma ação que tem efeito negativo no sistema produtivo das empresas é

- (A) a oferta de mais vagas de trabalhos para os cidadãos.
- (B) a busca pela redução das folhas de pagamento.
- (C) a tentativa de fundir estudo, trabalho e lazer.
- (D) o aperfeiçoamento profissional por meio do ócio.
- (E) a alteração da lógica do mercado vigente.

15. Considere as passagens:

- Quando o sociólogo italiano Domenico De Masi lançou o conceito de “ócio criativo” [...], foi **alçado** à condição de pensador revolucionário... (1º parágrafo)
- A intenção era alcançar uma fusão entre estudo, trabalho e lazer para aprimorar o conhecimento, vivenciar diferentes experiências e **instigar** a criatividade. (2º parágrafo)
- “Se as regras do jogo não mudarem, o desemprego – aberto ou oculto – está destinado a crescer em dimensão **patológica**”, escreve. (4º parágrafo)

No contexto em que estão empregados, os termos significam, correta e respectivamente:

- (A) elevado; estimular; doentia.
- (B) conduzido; coibir; mórbida.
- (C) rebaixado; promover; promissora.
- (D) promovido; restringir; limitada.
- (E) assemelhado; induzir; esperançosa.

16. Assinale a alternativa em que se transcreve uma passagem do texto na qual o termo destacado é empregado em sentido figurado.

- (A) O **sucesso** se deveu à explicação do espírito daquele tempo... (2º parágrafo)
- (B) As **empresas** tentam reduzir suas folhas de pagamento... (6º parágrafo)
- (C) ... o sociólogo prega uma nova guinada no pensamento **empresarial**. (3º parágrafo)
- (D) ... mais ele contribui para a **taxa** de desocupação. (7º parágrafo)
- (E) ... que abririam as **portas** para a criatividade ... (2º parágrafo)

17. Coube ____ Domenico De Masi ____ criação do conceito de ócio criativo, referindo-se ____ desconexão necessária com a labuta como caminho para se chegar ____ experiências criativas do ser humano.

Em conformidade com a norma-padrão, as lacunas do enunciado devem ser preenchidas, correta e respectivamente, com:

- (A) a ... à ... a ... a
- (B) à ... a ... à ... às
- (C) a ... a ... à ... às
- (D) à ... a ... a ... à
- (E) à ... à ... à ... as

18. De acordo com a norma-padrão, as passagens “os momentos de desconexão com a labuta que abririam as portas para a criatividade” (2º parágrafo), “para De Masi, a única saída é reduzir a carga de trabalho individual” (3º parágrafo) e “A lógica do mercado não ajuda a melhorar esses números.” (6º parágrafo) estão corretamente reescritas em:

- (A) os momentos de desconexão com a labuta seriam favoráveis com as portas abertas para a criatividade / De Masi concorda com a redução da carga de trabalho individual / A lógica do mercado não colabora pela melhoria desses números.
- (B) os momentos de desconexão com a labuta seriam favoráveis às portas abertas para a criatividade / De Masi concorda com a redução da carga de trabalho individual / A lógica do mercado não colabora com a melhoria desses números.
- (C) os momentos de desconexão com a labuta seriam favoráveis em portas abertas para a criatividade / De Masi concorda da redução da carga de trabalho individual / A lógica do mercado não colabora na melhoria a esses números.
- (D) os momentos de desconexão com a labuta seriam favoráveis para as portas abertas para a criatividade / De Masi concorda na redução da carga de trabalho individual / A lógica do mercado não colabora à melhoria desses números.
- (E) os momentos de desconexão com a labuta seriam favoráveis de portas abertas para a criatividade / De Masi concorda pela redução da carga de trabalho individual / A lógica do mercado não colabora diante a melhoria nesses números.

19. De acordo com a norma-padrão, a concordância nominal está plenamente atendida em:

- (A) Reduzindo a carga de trabalho para 1400 horas, o Brasil estaria quites em relação aos números internacionais.
- (B) A situação do Brasil está meia complicada, com o desemprego de 13 milhões de pessoas.
- (C) No Brasil, há bastante pessoas que procuram emprego há um ano ou mais, segundo o IBGE.
- (D) Os altos índices de desemprego e a falta de novas vagas criam um clima social de desalento.
- (E) De acordo com Domenico De Masi, é necessário a diminuição da taxa de desocupação.

20. Sem prejuízo de sentido ao texto, o trecho – As empresas tentam reduzir suas folhas de pagamento, mesmo que isso signifique mais horas extras. (5º parágrafo) – está corretamente reescrito em:

- (A) As empresas tentam reduzir suas folhas de pagamento, apesar de isso significar mais horas extras.
- (B) As empresas tentam reduzir suas folhas de pagamento, quando isso significa mais horas extras.
- (C) As empresas tentam reduzir suas folhas de pagamento, se isso significar mais horas extras.
- (D) As empresas tentam reduzir suas folhas de pagamento, tanto que isso significa mais horas extras.
- (E) As empresas tentam reduzir suas folhas de pagamento, porque isso significa mais horas extras.

21. Em determinado período de tempo, na conta corrente de Carlos, ocorreram apenas 3 saques e 2 depósitos, sendo os saques de R\$ 120,00; R\$ 375,00 e R\$ 420,00, e os depósitos de R\$ 500,00 e R\$ 650,00. Se, após essas movimentações, o saldo da conta corrente de Carlos ficou negativo em R\$ 213,00, o saldo, antes dessas movimentações, era
- (A) negativo de R\$ 448,00.
(B) negativo de R\$ 122,00.
(C) positivo de R\$ 22,00.
(D) negativo de R\$ 22,00.
(E) positivo de R\$ 122,00.
22. Do último salário que recebeu, no valor líquido de R\$ 2.748,00, Ana utilizou $\frac{2}{3}$ com os pagamentos das obrigações mensais, e metade do que sobrou ela depositou em uma aplicação que tem. Sabendo que uma das obrigações mensais que Ana pagou foi a conta de energia elétrica, que correspondeu a $\frac{1}{4}$ do valor que ela depositou na aplicação, o valor dessa conta de energia foi de
- (A) R\$ 149,25.
(B) R\$ 114,50.
(C) R\$ 107,25.
(D) R\$ 121,75.
(E) R\$ 132,00.
23. No dia 28.11.2017, o site da Fundação Nacional da Saúde, do Ministério da Saúde, publicou a fala do então ministro daquela pasta em um congresso internacional. De acordo com essa fala, pode-se concluir que, a cada R\$ 50,00 investidos em saneamento, R\$ 450,00 são economizados em saúde. Considerando-se essa informação, para uma economia de R\$ 2,88 milhões em saúde, é necessário um investimento em saneamento de
- (A) R\$ 290.000,00.
(B) R\$ 300.000,00.
(C) R\$ 310.000,00.
(D) R\$ 330.000,00.
(E) R\$ 320.000,00.

24. Em um cofre, há o total de R\$ 21,00, apenas em moedas de R\$ 0,50, R\$ 0,25 e R\$ 0,10. Se o número de moedas de R\$ 0,50 é 4 unidades maior que o dobro do número de moedas de R\$ 0,10, e o número de moedas de R\$ 0,25 é 5 unidades menor que o número de moedas de R\$ 0,10, então o valor em moedas de R\$ 0,50 contidas nesse cofre é
- (A) R\$ 16,00.
(B) R\$ 16,50.
(C) R\$ 17,00.
(D) R\$ 17,50.
(E) R\$ 15,50.
25. Marcelo e Débora trabalham em regime de escala. A cada 4 dias sucessivamente trabalhados, Débora folga somente no dia seguinte, e a cada 6 dias sucessivamente trabalhados, Marcelo também folga somente no dia seguinte. No dia 26.07.2019, ambos estavam de folga. Sabendo que o mês de julho tem 31 dias, e que Marcelo e Débora trabalham independentemente de os dias serem sábados, domingos e feriados, se não ocorrer imprevisto e eles trabalharem conforme informado, então o próximo dia em que ambos estarão de folga, em um mesmo dia, será em
- (A) 07.08.2019.
(B) 13.08.2019.
(C) 19.08.2019.
(D) 30.08.2019.
(E) 24.08.2019.
26. A razão entre o número de mulheres e o número de homens convocados para a segunda fase de um concurso é $\frac{3}{5}$. No dia da segunda fase, 4 mulheres e 10 homens não compareceram e, no total, 362 candidatos realizaram essa fase. Dessa forma, o número de mulheres que realizaram a segunda fase do concurso foi
- (A) 143.
(B) 137.
(C) 134.
(D) 131.
(E) 140.

27. Dados da Polícia Militar do Estado de São Paulo, publicados no *site* que ela mantém, indicam que o número médio, por hora, de ocorrências atendidas no mês de março de 2019 foi 216. Sabendo que esse número é 12,5% maior que o número registrado no mês imediatamente anterior, é correto afirmar que a diferença entre os números médios, por hora, de ocorrências atendidas nos meses de março e de fevereiro de 2019 é
- (A) 25.
 - (B) 27.
 - (C) 26.
 - (D) 28.
 - (E) 24.
28. Hoje, a média aritmética simples das idades de 15 amigos é de 45 anos. Excluindo-se a menor e a maior idades das pessoas desse grupo, a média aritmética simples das demais idades é de 44 anos. Se a diferença entre essa maior e essa menor idades é 19 anos, então a menor idade é igual a
- (A) 42 anos.
 - (B) 40 anos.
 - (C) 39 anos.
 - (D) 41 anos.
 - (E) 43 anos.
29. Para determinado evento, foram colocados à venda, no total, 1 500 ingressos, que foram todos comprados. Cada ingresso normal foi vendido a R\$ 150,00, cada ingresso de meia-entrada foi vendido a R\$ 75,00, e, ainda, foram vendidos ingressos a preço promocional de R\$ 100,00 cada, totalizando R\$ 185.000,00. Se o número de ingressos de meia-entrada foi o dobro do número de ingressos vendidos a preço promocional, o número de ingressos normais vendidos foi
- (A) 750.
 - (B) 950.
 - (C) 900.
 - (D) 800.
 - (E) 850.
30. A respeito de um terreno retangular, sabe-se que seu perímetro é 64 metros e que a diferença entre as medidas do maior e do menor lados é 2 metros. Sendo assim, a área desse terreno, em metros quadrados, é
- (A) 195.
 - (B) 1 023.
 - (C) 224.
 - (D) 1 155.
 - (E) 255.

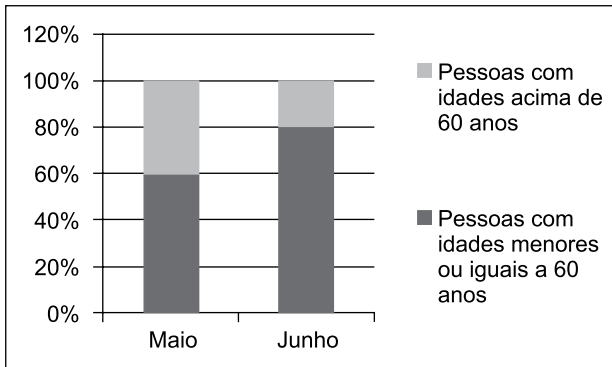
31. A tabela a seguir apresenta informações sobre a composição do quadro de cabos e sargentos em um batalhão.

	Cabos	Sargentos
Homens	65%	70%
Mulheres	35%	30%

Com base apenas nas informações apresentadas na tabela, assinale a alternativa que contém informação necessariamente verdadeira sobre os cabos e sargentos desse batalhão.

- (A) O número de mulheres com patente de cabo é metade do de homens com patente de sargento.
- (B) O número de homens com patentes de cabo ou sargento é maior que o de mulheres com patentes de cabo ou sargento.
- (C) O número de homens com patente de cabo é maior que o de homens com patente de sargento.
- (D) O número de homens com patente de cabo é menor que o de homens com patente de sargento.
- (E) O número de homens com patentes de cabo ou sargento é menor que o de mulheres com patentes de cabo ou sargento.
32. Cláudio, Alice, José e Elen são quatro amigos com alturas distintas. Colocados em uma fila indiana ordenada pela altura, José está entre Cláudio e Alice, e Cláudio está entre Alice e Elen. Sendo assim, é verdade que
- (A) Cláudio é mais baixo que José e mais alto que Alice.
- (B) Alice está entre José e Cláudio.
- (C) José está entre Alice e Elen.
- (D) José é mais baixo que Cláudio e mais alto que Elen.
- (E) Elen está entre José e Alice.

33. O gráfico apresenta informações associadas ao atendimento de pessoas em determinada repartição pública, nos meses de maio e de junho de 2019.



Sabendo que o número de pessoas atendidas em maio foi $\frac{3}{4}$ do número de pessoas atendidas em junho, o número de pessoas atendidas com idades acima de 60 anos no mês de junho corresponde, do número de pessoas atendidas com idades acima de 60 anos no mês de maio, a

- (A) $\frac{2}{3}$
- (B) $\frac{1}{2}$
- (C) $\frac{3}{4}$
- (D) $\frac{1}{5}$
- (E) $\frac{5}{6}$
34. Considere S a superfície plana do tampo de uma mesa retangular M . Se, na fabricação de uma nova mesa, aumentarmos em $\frac{1}{4}$ as medidas da largura e do comprimento da mesa M , a superfície plana da nova mesa corresponderá, de S , a
- (A) $\frac{11}{8}$
- (B) $\frac{3}{2}$
- (C) $\frac{15}{8}$
- (D) $\frac{25}{16}$
- (E) $\frac{19}{16}$

HISTÓRIA GERAL

35. Uma das metas mais importantes do tratado era [...] controlar a Alemanha (segundo uma expressão usada naquela época), isto é, destruir sua força militar no presente e no futuro. [...] ficou decidido que o exército alemão ficaria limitado a 100 mil homens, recrutados com base em um compromisso voluntário de doze anos para os soldados e suboficiais.

(Jean-Jacques Becker. *O Tratado de Versalhes*, 2011)

O Tratado de Versalhes, assinado após a Primeira Guerra Mundial, contribuiu para

- (A) a constituição, pelas nações asiáticas e europeias derrotadas na guerra, de um bloco militar contrário ao imperialismo na África e na Ásia.
- (B) o desenvolvimento duradouro da economia internacional como resultado da redução de gastos públicos com equipamentos militares.
- (C) a adoção de planos internacionais de ajuda financeira aos países economicamente destruídos pelo conflito bélico.
- (D) a emergência de relações estáveis, baseadas nos princípios de reciprocidade, entre as potências industrializadas europeias.
- (E) o fortalecimento de ideologias antidemocráticas habilmente exploradas por partidos políticos nacionalistas.

36. Até finais dos anos sessenta, o enfrentamento com o comunismo definiu a política exterior. [...] houve períodos de grande tensão internacional [...]. O êxito soviético ao lançar o satélite não tripulado, Sputnik, em outubro de 1957, demonstrava aparentemente a superioridade dos soviéticos tanto em tecnologia espacial como na capacidade para atacar o hemisfério ocidental por meio de mísseis orbitais.

(Philip Jenkins. *Breve história dos Estados Unidos*, 2017.)

Pode-se acrescentar às condições das relações internacionais referidas pelo texto

- (A) o acordo entre potências favorável à manutenção da democracia em escala global.
- (B) a reduzida influência política das potências nos países do Terceiro Mundo.
- (C) o aumento constante do arsenal nuclear nas potências rivais.
- (D) o emprego de armas convencionais no confronto direto entre as potências.
- (E) a ausência de movimentos sociais nas áreas controladas pelas potências.

37. Observe o cartaz.



(http://66.media.tumblr.com/tumblr_lo2s1wbuiV1qjrdq3o1_400.jpg)

Considerando a imagem e conhecimentos sobre a história do Brasil republicano, é correto afirmar que o cartaz trata de

- (A) um chamado à participação efetiva da população na resistência militar a um governo federal centralizador.
 - (B) uma convocação de reservistas para o alistamento militar no auge da Guerra Mundial.
 - (C) um apelo à sociedade para sua mobilização em benefício das populações mais carentes do país.
 - (D) uma arma de mobilização do operariado das grandes cidades contrário às reformas sociais de governos populistas.
 - (E) uma denúncia das intenções antidemocráticas de alguns setores das forças armadas brasileiras.
38. Ao receberem menos dinheiro por suas vendas ao exterior, os exportadores e produtores ligados à exportação reduzem suas compras. Os produtores internos afetados por essa redução também reduzem as suas, e assim por diante.

(Celso Furtado. *Formação econômica do Brasil*, 1989)

O autor refere-se aos desdobramentos da queda no preço e no volume da exportação do café brasileiro decorrente da Crise de 1929. Tendo em vista o cenário econômico descrito pelo texto, o governo Getúlio Vargas decidiu, entre 1931 e 1939,

- (A) adquirir empréstimos no exterior, visando à manutenção da política de valorização do preço do café.
- (B) extinguir em curto prazo a dependência do país à economia cafeeira, abandonando os empresários do setor.
- (C) substituir os latifúndios cafeeiros por pequenas propriedades, desapropriando terras e concedendo incentivos fiscais a agricultores.
- (D) equilibrar a oferta e a procura do produto, comprando e destruindo os excedentes das colheitas.
- (E) limitar a venda do produto ao mercado interno, considerando os prejuízos que a exportação de café causava ao país.

39. Em 18 de setembro de 1946 foi promulgada a quinta Constituição brasileira, a quarta republicana. Com 218 artigos, manteve a denominação Estados Unidos do Brasil. O Congresso foi dividido em duas casas. O mandato do Presidente da República foi estabelecido em cinco anos. A eleição do Presidente e Vice seria simultânea, ou seja, não formariam uma chapa, seriam escolhidos separadamente pelo eleitor.

(Marco Antonio Villa. *A história das Constituições brasileiras*, 2011)

A experiência política brasileira derivada da Constituição citada pode ser exemplificada pela

- (A) alternância no poder central de políticos apoiados pelos governadores do conjunto dos estados da Federação.
- (B) predominância eleitoral de partidos políticos representantes das classes de assalariados rurais.
- (C) concentração das decisões políticas no poder executivo em prejuízo dos poderes legislativos e judiciários.
- (D) censura regular às manifestações de industriais que se opunham aos governos federal e estaduais.
- (E) mudança, no governo federal, de um candidato eleito por um partido conservador para um político ligado a sindicatos de trabalhadores.

40. *Brasil Eu Fico.*

Minas Gerais, uai, uai
São Paulo, sai da frente!
Guanabara, como é que é?
Bahia, oxente!
E os meus irmãozinhos lá do norte?

Este é o meu Brasil
Cheio de riquezas mil
Este é o meu Brasil
Futuro e progresso do ano 2000
Quem não gostar e for do contra
Que vá prá...
[...]

(<https://www.lettras.mus.br/wilson-simonal/1803895/brasil-eu-fico-print.html>)

A canção foi composta por Jorge Ben e gravada pelo cantor Wilson Simonal em dezembro de 1970. A música expressava

- (A) a oposição à falsa liberdade democrática do momento, propagandeada pelos slogans governamentais.
- (B) a ideologia do desenvolvimentismo econômico do governo, mesclada de um otimismo nacionalista.
- (C) a conjuntura histórica de agitações sociais, derivada da crise do milagre econômico patrocinado pelo Estado.
- (D) a visão de uma nação com graves desigualdades regionais, caracterizada pelo crescimento desigual da economia.
- (E) a oposição dos artistas ao regime militar, expressa em uma linguagem de fácil entendimento popular.

41. Analise o mapa para responder à questão.



(<https://www.marsh.com/ca/en/campaigns/political-risk-map-2019.html?utm>. Acesso em 15.05.2019. Adaptado)

A leitura do mapa e os conhecimentos sobre o contexto geopolítico e geoeconômico mundial permitem afirmar que as áreas em destaque no mapa

- (A) estão sujeitas a fortes tensões geopolíticas.
 - (B) apresentam grande participação no comércio mundial.
 - (C) devem reduzir a produção de *commodities* minerais.
 - (D) associaram-se em novos blocos econômicos.
 - (E) têm possibilidades de se tornarem economias emergentes.
42. Cerca de 12 milhões de hectares de florestas tropicais desapareceram em 2018, o equivalente a 30 campos de futebol por minuto. Os dados de 2018 são do *Global Forest Watch*, atualizado pela Universidade de Maryland, nos Estados Unidos. O levantamento mostra o complexo retrato do desmatamento em áreas com densas florestas tropicais.

(<https://www.bbc.com/portuguese/geral-48046107>. Acesso em 13.05.2109. Adaptado)

Além da Amazônia, a campeã em desmatamento, outra área de forte desmatamento é

- (A) a Índia, devido à implantação de indústrias de papel e celulose e dos incêndios naturais.
- (B) o sul da Ásia, devido ao aumento da exploração mineral e da implantação de usinas hidrelétricas.
- (C) o norte da África, devido à criação de reservatórios e da expansão da pecuária intensiva.
- (D) a Ásia central, devido à instalação de novos centros urbanos e da produção petrolífera.
- (E) a África Central, devido à expansão da agropecuária e da produção de carvão vegetal.

43. Analise o mapa.

Brasil – Áreas ocupadas com a unidade de relevo X.



(Jurandyr Ross. *Geografia do Brasil*. Adaptado)

No mapa, estão em destaque as áreas de

- (A) planícies, superfícies planas que foram formadas por intensos processos de sedimentação.
- (B) planícies, tipos de formação rochosa que sofrem grande desgaste de agentes como chuvas e vento.
- (C) planaltos, formas de relevo ondulado que têm origem a partir de longos processos de erosão.
- (D) depressões, superfícies erodidas que se apresentam com altitudes mais baixas que as áreas vizinhas.
- (E) planaltos, tipos de relevo que se caracterizam pela pequena variação de altitudes.

44. Analise a tabela a seguir.

Brasil – Taxa de natalidade (%)

1980	1991	2000	2010	2018
31,2	23,3	20,8	15,8	14,4

(<https://brasilemsintese.ibge.gov.br/populacao/taxas-brutas-de-natalidade.html>. Acesso em 15.05.2019)

A leitura da tabela e os conhecimentos sobre o contexto socioeconômico brasileiro permitem afirmar que

- (A) a taxa de natalidade é um dado demográfico que mostra a homogeneidade da população brasileira.
- (B) a queda da taxa de natalidade está relacionada à redução dos movimentos internos da população.
- (C) o recuo da taxa de natalidade demonstra que o Brasil caminha para se tornar um país emergente.
- (D) a evolução da taxa de natalidade nas últimas décadas se refletiu na estrutura da população brasileira.
- (E) a redução da taxa de natalidade indica que o país deverá passar por uma transição demográfica.

45. Para superar os Estados Unidos e se tornar o principal produtor do mundo, o Brasil expandiu por anos as lavouras destinadas ao produto. Só entre 2000 e 2014, a área destinada a plantar essa *commodity* no interior do País – em estados como Tocantins, Bahia, Piauí e Maranhão – cresceu 87%. Boa parte dela abrigava vegetação nativa, originalmente.

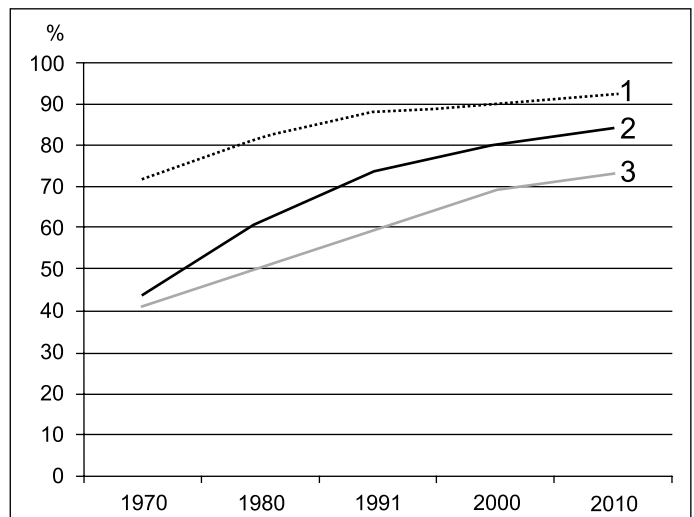
(<https://super.abril.com.br/tecnologia/o-avanco-mapeado-pela-nasa/> Acesso em 18.05.2019. Adaptado)

O texto descreve a expansão da produção

- (A) do café pela mata atlântica.
- (B) da soja pelo cerrado.
- (C) do milho pela caatinga.
- (D) da cana de açúcar pela mata atlântica.
- (E) do cacau pela floresta amazônica.

46. Observe o gráfico para responder à questão.

Urbanização de três regiões brasileiras – 1970-2010 (em %)



(IBGE)

A leitura do gráfico e os conhecimentos sobre a urbanização brasileira permitem afirmar que a região

- (A) 1 (Sudeste) apresentou uma expressiva urbanização devido a fatores como a industrialização e a atração de migrantes de outras regiões brasileiras.
- (B) 2 (Norte) teve a urbanização fortemente atrelada aos grandes projetos de exploração mineral implantados em vários estados nortistas.
- (C) 3 (Sul) apresentou uma urbanização mais lenta porque desde sua ocupação sempre teve sua economia baseada em atividades agropecuárias.
- (D) 2 (Nordeste) apresentou rápida urbanização a partir dos anos de 1980 devido à industrialização das grandes cidades, promovida pela Sudene.
- (E) 1 (Centro-Oeste) teve a urbanização acelerada devido à construção de Brasília e a partir dos anos 2000, à expansão da agroindústria.

47. O saldo da balança comercial em 2018 foi de US\$ 58,3 bilhões. Em 02 de janeiro de 2019, de acordo com o Ministério da Economia, esse é o “segundo melhor desempenho do comércio externo registrado desde 1989”. O saldo contabiliza a diferença entre as exportações e as importações.

(Agência Brasil. <https://bit.ly/30wCP53>. Acesso em 17.06.2019. Adaptado)

A respeito do comércio externo brasileiro, pode-se afirmar que

- (A) as exportações de ferro apresentaram forte redução na quantidade e no preço.
- (B) o Brasil abandonou as trocas comerciais com os países vizinhos sul-americanos.
- (C) mais da metade dos produtos exportados durante o ano são bens manufaturados.
- (D) a China, a União Europeia e os Estados Unidos são os principais compradores.
- (E) o Brasil figurou entre os três maiores exportadores do mundo, superando a Alemanha.

48. “Deixei claro [para Mike Pompeo, Secretário de Estado norte-americano] mais uma vez que nos preocupam os eventos recentes e as tensões na região, que não queremos uma escalada militar”, disse o ministro de Relações Exteriores alemão após o encontro com o representante americano.

Em 14 de maio, os representantes europeus expressaram preocupação sobre uma escalada da tensão entre os dois países e advertiram o secretário de Estado americano sobre o risco de um conflito “por acidente” no Golfo.


(G1-Globo. <https://glo.bo/2Vp5fKi>. Acesso em 17.06.2019. Adaptado)

A notícia envolve a tensão entre

- (A) a Arábia Saudita e o Iraque.
- (B) a Colômbia e a Venezuela.
- (C) o Estado de Israel e a Palestina.
- (D) a Rússia e a Síria.
- (E) os Estados Unidos e o Irã.

49. Considere um computador com o Microsoft Windows 10, em sua configuração original, sem nenhuma janela aberta. Como primeira ação, o usuário abre o WordPad e maximiza a janela. Em seguida abre o Bloco de Notas e maximiza a janela.

Assinale a alternativa que indica qual(is) janela(s) aparecerá(ão) na tela do computador quando o usuário clicar no botão indicado na imagem a seguir, na janela do Bloco de Notas, exibida parcialmente.



- (A) As opções do Menu Iniciar.
- (B) O Wordpad.
- (C) O Bloco de Notas.
- (D) A Área de Trabalho.
- (E) O Wordpad e o Bloco de Notas lado a lado.

50. Considerando o Microsoft Word 2010, em sua configuração padrão, assinale a alternativa que apresenta um trecho de um documento com as marcas de parágrafo ativadas.

- (A)
 - Presidente
 - Vice-Presidente
 - Diretores
 - Gerentes
 - Supervisores

(B) ☒

Projeto	Responsável
Automação de rotinas	João Pedro
Otimização de processos	Ricardo Augusto

(C) **Dicas-para-apresentação:**¶

- ➔ Considerar-a-expectativa-da-audiência¶
- ➔ Respeitar-o-tempo-reservado¶

(D) O projeto apresenta um atraso **considerável** por conta de sucessivas **falhas** na identificação dos requisitos.

- (E)
 - Poder Executivo
 - Presidente
 - Poder Legislativo
 - Presidente da Câmara
 - Poder Judiciário
 - Ministros

Considere a seguinte planilha criada no Microsoft Excel 2010, em sua configuração padrão para responder as questões de números 51 e 52.

	A	B	C	D
1	Data	Incidente	Status	
2	02/mai	55	ENCERRADO	
3	02/mai	77	EM ABERTO	
4	03/mai	129	ENCERRADO	
5	03/mai	192	ENCERRADO	
6	03/mai	268	EM ABERTO	
7	08/mai	364	EM ABERTO	
8	09/mai	394	ENCERRADO	
9	10/mai	433	ENCERRADO	
10	10/mai	519	EM ABERTO	
11				
12				
13		ENCERRADO		
14				

51. Assinale a alternativa com a fórmula a ser inserida na célula C13 para contar a quantidade de vezes em que aparece a palavra ENCERRADO no intervalo entre C2 e C10.

- (A) =CONT.CASOS(C2:C10;B13)
- (B) =CONT.SE(C2:C10)
- (C) =CONT(C2:C10;B13)
- (D) =CONT.SE(C2:C10;B13)
- (E) =CONT.ENCERRADOS(C2:C10)

52. Assinale a alternativa que indica qual conteúdo será apagado se o usuário der um clique simples com o botão principal do mouse sobre o local destacado a seguir, e pressionar a tecla DEL.

	A	B	C	D
1	Data	Incidente	Status	
2	02/mai	55	ENCERRADO	
3	02/mai	77	EM ABERTO	
4	03/mai	129	ENCERRADO	

- (A) A coluna A inteira, apenas.
- (B) Todas as células que não contêm fórmulas, apenas.
- (C) A linha 1 inteira, apenas.
- (D) Todas as células que contêm fórmulas, apenas.
- (E) A planilha inteira.

53. No Microsoft PowerPoint 2010, em sua configuração original, um usuário está em modo de apresentação, exibindo o segundo slide, em uma apresentação de 10 slides, sem nenhum slide oculto, tampouco animações, transições, ou botões de ação.

Assinale a alternativa que indica a(s) tecla(s) que deve(m) ser pressionada(s) para finalizar a apresentação.

- (A) HOME
- (B) ESC
- (C) F5
- (D) END
- (E) SHIFT+F5

54. No Microsoft Outlook 2010, em sua configuração padrão, tem-se os dados de uma mensagem que foi enviada.

De: Antonio
Para: Andrea
Cc: Rodrigo
Cco: Fernando

Ao receber a mensagem, Rodrigo clicou no botão Encaminhar. Assinale a alternativa que indica a quantidade de destinatários que o aplicativo automaticamente preenche na nova mensagem que será preparada.

- (A) 0
- (B) 2
- (C) 4
- (D) 3
- (E) 1

NOÇÕES DE ADMINISTRAÇÃO PÚBLICA

55. É direito fundamental do cidadão brasileiro e dos estrangeiros residentes no Brasil:
- (A) o acesso à informação e assegurada a transparência quanto à fonte, quando necessário ao desagravo do ofendido.
 - (B) a expressão da atividade intelectual, artística, científica e de comunicação, mediante obtenção de licença específica.
 - (C) nos termos da lei, a prestação de assistência religiosa nas entidades civis e militares de internação coletiva.
 - (D) a livre manifestação do pensamento, sendo assegurado o anonimato.
 - (E) reunir-se pacificamente, com armas, em locais abertos ao público, independentemente de autorização.
56. A respeito dos direitos políticos do militar, assinale a alternativa correta.
- (A) O militar alistável é inelegível, quando afastar-se da atividade antes da eleição.
 - (B) O militar é inalistável e inelegível.
 - (C) O militar, se eleito, passará automaticamente para o trabalho interno.
 - (D) O militar alistável é elegível, devendo afastar-se da atividade se contar com menos de dez anos de serviço.
 - (E) O militar é alistável mas é inelegível, salvo se tiver mais de vinte anos de serviço.
57. A Administração Pública no Brasil orienta-se segundo a seguinte regra:
- (A) é vedada a contratação por tempo determinado para atender à necessidade temporária de serviço.
 - (B) é garantido ao servidor público civil o direito à livre associação sindical.
 - (C) obediência aos princípios de legalidade, pessoalidade, moralidade, publicidade e eficiência.
 - (D) é vedada a greve de servidores públicos civis e militares.
 - (E) os vencimentos dos cargos do Poder Judiciário poderão ser superiores aos pagos pelo Poder Executivo.
58. Sobre o tratamento da segurança pública na Constituição, é correto afirmar que
- (A) aos corpos de bombeiros militares, além das atribuições definidas em lei, incumbe a execução de atividades de defesa civil.
 - (B) às polícias militares cabem a apuração de infrações penais em geral.
 - (C) às polícias civis, dirigidas por delegados de polícia de carreira, incumbem a apuração de infrações penais, inclusive as militares.
 - (D) as polícias civis são forças auxiliares e reserva do Exército.
 - (E) a segurança pública é dever da família, direito e responsabilidade de todos os servidores públicos.
59. É correto afirmar sobre a Justiça Militar, no Estado de São Paulo, que
- (A) compete a ela processar e julgar os militares do Estado nos crimes sujeitos ao Tribunal do Júri quando a vítima for civil.
 - (B) compete aos juízes de direito do juízo militar processar e julgar, colegiadamente, os crimes militares cometidos contra civis.
 - (C) será constituída, em primeiro grau, pelos juízes de Direito e pelos Conselhos de Justiça e, em segundo grau, pelo Tribunal de Justiça Militar.
 - (D) o Tribunal de Justiça Militar do Estado compor-se-á de onze juízes.
 - (E) os serviços de correição permanente sobre as atividades do presídio militar serão realizados diretamente pelo Tribunal Militar.
60. Conforme a Constituição do Estado de São Paulo, a Polícia Militar
- (A) terá o seu Comandante Geral nomeado pelo Comandante Geral do Exército Brasileiro dentre oficiais da ativa.
 - (B) terá a sua organização, o seu funcionamento, os direitos, os deveres, as vantagens e o regime de trabalho de seus integrantes definidos por lei federal complementar.
 - (C) é integrante permanente das forças armadas nacionais, devendo submissão ao Comandante Geral das forças armadas, ou seja, ao Presidente da República.
 - (D) é integrada pelo Instituto de Criminalística e pelo Instituto Médico Legal.
 - (E) é órgão permanente ao qual incumbem, além das atribuições definidas em lei, a polícia ostensiva e a preservação da ordem pública.

REDAÇÃO

TEXTO 01

Pela primeira vez, a população deve consumir mais conteúdo midiático na internet do que pela TV, de acordo com relatório da agência de mídia Zenith. Conforme a previsão, já em 2019 as pessoas devem passar mais horas navegando pela internet, fazendo compras, assistindo a filmes, séries e vídeos, conversando ou ouvindo música, do que assistindo à televisão.

(“Internet irá ultrapassar TV já em 2019, indica relatório”, 18.06.2018. <https://epocanegocios.globo.com>. Adaptado)

TEXTO 02

De acordo com estudo divulgado pela empresa Morrison Foster, as pessoas passam, em média, sete horas por dia nas redes sociais. E é exatamente esse o local ocupado pelos influenciadores, que também estão conectados e produzindo conteúdos para seus seguidores a todo tempo. Segundo uma outra pesquisa, publicada pela Sprout Social, 74% dos consumidores guiam suas decisões de compra com base nas redes sociais. Ou seja, o público está atento às opiniões da internet e, principalmente, aos depoimentos de canais influentes e de credibilidade.

(“A contribuição dos influenciadores digitais para a decisão de compra”. 02.02.2018. <https://franpress.com.br>. Adaptado)

TEXTO 03

Nos últimos 10 anos, o tempo médio de consumo domiciliar de televisão passou de 8h18 para 9h17. Um crescimento de 12%. Vale ressaltar que esse foi um período de forte ascensão da internet como plataforma de distribuição de conteúdo. Os conteúdos da TV, além de entreter e informar, também exercem um papel importante na dinâmica social. Eles influenciam a pauta de conversas tanto com material que gera engajamento entre os telespectadores, como com publicidades criativas. O levantamento da Kantar IBOPE Media aponta que 51% das pessoas acham que a propaganda na TV é interessante e proporciona assunto para conversar. E, entre os que acessam a internet enquanto veem TV, 23% comentam nas redes sociais o que assistem – mostrando que a televisão segue marcando presença no dia a dia do brasileiro.

(João Paulo Reis. “Televisão: a abrangência e a influência do meio mais presente na vida dos brasileiros”, 24.12.2018. <https://observatoriodatelevisao.bol.uol.com.br>. Adaptado)

Com base nas informações dos textos e em seus próprios conhecimentos, escreva um texto dissertativo, de acordo com a norma-padrão da língua portuguesa, sobre o tema:

A POPULARIZAÇÃO DA INTERNET AMEAÇA O PODER DE INFLUÊNCIA DA TELEVISÃO?



POLÍCIA MILITAR DO ESTADO DE SÃO PAULO
DIRETORIA DE PESSOAL

28.07.2019

Concurso Público

001. PROVA OBJETIVA – PARTE I

Soldado PM de 2ª Classe

VERSÃO 1

1 - D	2 - C	3 - C	4 - E	5 - D	6 - B	7 - C	8 - A	9 - D	10 - A
11 - C	12 - D	13 - E	14 - B	15 - A	16 - E	17 - C	18 - B	19 - D	20 - A
21 - A	22 - B	23 - E	24 - C	25 - D	26 - B	27 - E	28 - A	29 - C	30 - E
31 - B	32 - C	33 - A	34 - D	35 - E	36 - C	37 - A	38 - D	39 - E	40 - B
41 - A	42 - E	43 - C	44 - D	45 - B	46 - A	47 - D	48 - E	49 - B	50 - C
51 - D	52 - E	53 - B	54 - A	55 - C	56 - D	57 - B	58 - A	59 - C	60 - E



**POLÍCIA MILITAR DO ESTADO DE SÃO PAULO
DIRETORIA DE PESSOAL**

Concurso Público

001. PROVA OBJETIVA – PARTE I

Soldado PM de 2ª Classe

- ◆ Você recebeu sua folha de respostas, este caderno, contendo 60 questões objetivas e um tema de redação a ser desenvolvido, e a folha de redação para transcrição do texto definitivo.
- ◆ Confira seus dados impressos na capa deste caderno e nas folhas de respostas e de redação.
- ◆ Quando for permitido abrir o caderno, verifique se está completo ou se apresenta imperfeições. Caso haja algum problema, informe ao fiscal da sala.
- ◆ A folha de redação deverá ser assinada apenas no local indicado; qualquer identificação ou marca feita pelo candidato no verso da folha de redação, que possa permitir sua identificação, acarretará a atribuição de nota zero à redação.
- ◆ Redija o texto definitivo e preencha a folha de respostas com caneta de tinta azul ou preta. Os rascunhos não serão considerados na correção. A ilegibilidade da letra acarretará prejuízo à nota do candidato.
- ◆ A duração das provas objetiva e de redação é de 4 horas, já incluído o tempo para o preenchimento da folha de respostas e para a transcrição do texto definitivo.
- ◆ Só será permitida a saída definitiva da sala e do prédio após transcorridos 75% do tempo de duração das provas.
- ◆ Deverão permanecer em cada uma das salas de prova os 3 últimos candidatos, até que o último deles entregue sua prova, assinando termo respectivo.
- ◆ Ao sair, você entregará ao fiscal a folha de redação, a folha de respostas e este caderno, podendo levar apenas o rascunho de gabarito, localizado em sua carteira, para futura conferência.
- ◆ Até que você saia do prédio, todas as proibições e orientações continuam válidas.

Nome do candidato _____

RG _____

Inscrição _____

Prédio _____

Sala _____

Carteira _____

AGUARDE A ORDEM DO FISCAL PARA ABRIR ESTE CADERNO.

Leia a charge para responder às questões de números 01 a 04.



(Chargista Duke. <https://www.otempo.com.br>)

01. As informações da charge permitem concluir corretamente que

- (A) a mudança na conjuntura econômica ajudou a vida da personagem.
- (B) a personagem ficou miserável em decorrência da falta de emprego.
- (C) o cenário econômico opõe-se à condição de miséria da personagem.
- (D) o desinteresse da personagem por um emprego levou-a à miséria.
- (E) a situação de miséria da personagem passa despercebida por todos.

02. No contexto em que está empregada, a locução verbal “Vai trabalhar” equivale a

- (A) um conselho, no modo verbal subjuntivo, permeada de sentido de orientação.
- (B) uma solicitação, no modo verbal indicativo, permeada de sentido de sarcasmo.
- (C) uma ordem, no modo verbal imperativo, permeada de sentido de cortesia.
- (D) uma recomendação, no modo verbal imperativo, permeada de sentido de hostilidade.
- (E) uma advertência, no modo verbal subjuntivo, permeada de sentido de humor.

03. Em conformidade com a norma-padrão, a ideia contida nas placas está corretamente expressa em:

- (A) Não tem-se vagas.
- (B) Acabou as vagas.
- (C) Falta vagas.
- (D) Vivem-se a falta de vagas.
- (E) Não existem vagas.

Leia o texto para responder às questões de números **04 a 10**.

Uso de inteligência artificial pode aumentar desemprego no Brasil, diz FGV

Responsável por reduzir burocracias, automatizar processos e aumentar a eficiência, o uso de inteligência artificial (IA) pode aumentar o desemprego no País em quase 4 pontos percentuais nos próximos 15 anos. Os dados são de um estudo desenvolvido pelo professor Felipe Serigatti, da Fundação Getúlio Vargas (FGV), em parceria com a Microsoft.

Para simular o impacto da adoção de IA na economia brasileira, a pesquisa estipulou três cenários: um conservador, no qual a taxa de crescimento da adoção de IA pelo mercado brasileiro é de 5%, durante 15 anos. Nesse panorama, a economia também cresce menos do que o estimado para os próximos anos. No cenário intermediário, o número é de 10%, com crescimento estável. Já no mais agressivo, em um mundo em que a economia tem projeção otimista de crescimento, a adoção de IA subiria 26% no período – é nesse último que o desemprego pode aumentar em 3,87 pontos percentuais, no saldo geral da população.

No mais severo dos cenários, os mais afetados serão os trabalhadores menos qualificados, que poderão ver o desemprego aumentar em 5,14 pontos percentuais; já o número de vagas qualificadas pode subir com a adoção massiva de inteligência artificial, em até 1,56 ponto percentual. “A inteligência artificial aumentará a desigualdade”, alertou Serigatti, que é professor de Economia da FGV.

A pesquisa analisou seis segmentos diferentes da economia: agricultura, pecuária, óleo e gás, mineração e extração, transporte e comércio e setor público (educação, saúde, defesa e administração pública). Os trabalhadores mais afetados no cenário mais agressivo são os mais qualificados dos setores de óleo e gás e de agricultura, dois dos principais pilares da economia brasileira. O primeiro tem redução nos empregos de 23,57%, e o segundo, de 21,55%.

(Bruno Romani, “Uso de inteligência artificial pode aumentar desemprego no Brasil, diz FGV”. <https://link.estadao.com.br>. Adaptado)

04. A leitura comparativa entre a charge de Duke e o texto do *Estadão* permite afirmar que

- (A) o cenário desolador do desemprego no Brasil será plenamente revertido em até 15 anos, graças ao crescimento econômico.
- (B) o recrudescimento do desemprego vivido no presente do país é uma realidade que tende a se estender pelos próximos anos.
- (C) o desemprego tende a se manter estável nos próximos anos, já que existe uma projeção otimista de crescimento.
- (D) a redução do desemprego é uma realidade remota que privilegiará eventualmente os trabalhadores menos qualificados.
- (E) a piora na economia continuará a tirar com mais vigor postos de trabalho, já que nenhuma projeção prevê crescimento econômico.

05. As informações textuais deixam evidente que

- (A) a inteligência artificial aumentará a desigualdade social, principalmente em um cenário agressivo com projeção otimista de crescimento econômico.
- (B) a adoção da inteligência artificial na economia poderá trazer desemprego, mas, paradoxalmente, trará crescimento financeiro à população em geral.
- (C) o impacto do desemprego gerado pela adoção da inteligência artificial é igual nos seis segmentos diferentes da economia, de acordo com a pesquisa da FGV.
- (D) o melhor cenário para a economia brasileira é o mais agressivo, no qual não haverá impactos negativos com redução de postos de trabalhos.
- (E) a pesquisa mostra que o desemprego será o mesmo nos próximos 15 anos, independentemente da forma como a inteligência artificial seja adotada.

06. Assinale a alternativa em que a informação apresentada é coerente com o exposto no texto.

- (A) Para simular o efeito da adoção de IA na economia brasileira, a pesquisa estabeleceu três cenários: um deles é reacionário, no qual a taxa de crescimento da adoção de IA pelo mercado brasileiro é de 5%, durante 15 anos.
- (B) No cenário intermediário, o número é de 10%, com crescimento inconstante. Já no mais ofensivo, em um mundo em que a economia tem projeção limitada de crescimento, a adoção de IA subiria 26% no período.
- (C) No mais rigoroso dos cenários, os mais afetados serão aqueles trabalhadores com menos qualificação, já o número de vagas qualificadas poderá subir com a adoção intensiva de inteligência artificial.
- (D) A pesquisa da FGV aponta que os trabalhadores mais privilegiados no cenário mais agressivo são os mais qualificados dos setores de óleo e gás e de agricultura, dois dos pilares menos influentes da economia brasileira.
- (E) A inteligência artificial, cuja responsabilidade é diminuir burocracias, automatizar processos e intensificar a eficiência, promete reduzir a falta de emprego no País em 4 pontos percentuais nos próximos 15 anos.

07. Assinale a alternativa em que a colocação pronominal atende à norma-padrão.

- (A) Se definiram três cenários na pesquisa, para simular o impacto da adoção de IA na economia brasileira.
- (B) Caso adote-se a IA em um cenário conservador, a economia crescerá menos do que o estimado.
- (C) Geralmente afetam-se os trabalhadores menos qualificados, no mais severo dos cenários de adoção da IA.
- (D) No cenário mais agressivo da adoção da IA, tem projetado-se aumento de desemprego de 3,87%.
- (E) A pesquisa da FGV indica que se afetará o emprego dos trabalhadores no Brasil com a adoção da IA.

08. Considere as passagens do texto:

- **Para** simular o impacto da adoção de IA na economia brasileira, a pesquisa estipulou três cenários... (2º parágrafo)
- No mais severo dos cenários, os mais afetados serão os trabalhadores menos qualificados, **que** poderão ver o desemprego aumentar em 5,14 pontos percentuais... (3º parágrafo)

Os termos destacados são responsáveis por articular os enunciados do texto, estabelecendo entre eles, respectivamente, relações de sentido de

- (A) finalidade e adição.
- (B) causa e explicação.
- (C) finalidade e explicação.
- (D) causa e consequência.
- (E) consequência e causa.

09. De acordo com a norma-padrão, o título do texto está corretamente reescrito e pontuado em:

- (A) “FGV diz” – uso no Brasil de inteligência artificial pode aumentar desemprego.
- (B) “No Brasil, uso de inteligência artificial pode aumentar desemprego”, diz FGV.
- (C) No Brasil uso de inteligência artificial pode aumentar desemprego diz FGV.
- (D) FGV diz que, uso de inteligência artificial pode aumentar desemprego no Brasil.
- (E) Diz FGV, uso de inteligência artificial no Brasil pode aumentar desemprego.

10. Assinale a alternativa em que a forma verbal destacada expressa sentido de projeção futura.

- (A) ... a pesquisa **estipulou** três cenários... (2º parágrafo)
- (B) ... alertou Serigatti, que **é** professor de Economia da FGV. (3º parágrafo)
- (C) Os dados **são** de um estudo desenvolvido pelo professor Felipe Serigatti... (1º parágrafo)
- (D) ... os mais afetados **serão** os trabalhadores menos qualificados... (3º parágrafo)
- (E) O primeiro **tem** redução nos empregos de 23,57%... (4º parágrafo)



(<http://chargeonline.com.br>)

11. As informações da charge permitem concluir que

- (A) o gênio se declara incapaz de resolver a situação de desemprego, que também o afeta.
- (B) a imprecisão dos pedidos ao gênio faz com que ele desista de realizá-los.
- (C) o gênio é mais um na estatística do desemprego e, por isso, quer ajudar o homem.
- (D) a capacidade de realizar os pedidos existe, mas o gênio não quer atendê-los.
- (E) o homem faz pedidos comuns e parecidos ao gênio, o que o deixa bem irritado.

12. Sem prejuízo à norma-padrão e ao sentido do texto, a frase do gênio está devidamente reescrita em:

- (A) E você acha que, quando eu pude arrumar todos esses empregos, eu estaria aqui fazendo bico de gênio?
- (B) E você acha que, ainda que eu posso arrumar todos esses empregos, eu estarei aqui fazendo bico de gênio?
- (C) E você acha que, caso eu pudesse arrumar todos esses empregos, eu estaria aqui fazendo bico de gênio?
- (D) E você acha que, como eu posso arrumar todos esses empregos, eu estarei aqui fazendo bico de gênio?
- (E) E você acha que, desde que eu posso arrumar todos esses empregos, eu estou aqui fazendo bico de gênio?

Leia o texto para responder às questões de números **13 a 20**.

Mais ócio, por favor

Quando o sociólogo italiano Domenico De Masi lançou o conceito de “ócio criativo”, em seu livro homônimo de 2000, foi alçado à condição de pensador revolucionário e à lista dos mais vendidos.

O sucesso se deveu à explicação do espírito daquele tempo, ao apontar que tão essencial ao crescimento profissional quanto o estudo e o trabalho eram os momentos de desconexão com a labuta que abririam as portas para a criatividade e para “pensar fora da caixinha”. A intenção era alcançar uma fusão entre estudo, trabalho e lazer para aprimorar o conhecimento, vivenciar diferentes experiências e instigar a criatividade.

Com o lançamento de “Uma Simples Revolução”, um best-seller, o sociólogo prega uma nova guinada no pensamento empresarial.

Ao analisar as taxas de desemprego e de desocupação, para De Masi, a única saída é reduzir a carga de trabalho individual e abrir novas vagas. “Se as regras do jogo não mudarem, o desemprego – aberto ou oculto – está destinado a crescer em dimensão patológica”, escreve.

O Brasil é um dos países que vivem essa realidade, com um desemprego de mais de 13 milhões de pessoas, segundo dados mais recentes do IBGE (Instituto Brasileiro de Geografia e Estatística). Mais de 5 milhões de pessoas procuram trabalho no país há um ano ou mais, o que representa quase 40% desse total.

A lógica do mercado não ajuda a melhorar esses números. As empresas tentam reduzir suas folhas de pagamento, mesmo que isso signifique mais horas extras.

Só que, de acordo com o sociólogo, quanto mais horas um indivíduo trabalha, mais ele contribui para a taxa de desocupação. “Na Alemanha, onde todos trabalham, em média, 1400 horas, o desemprego está em 3,8% e o emprego está em 79%. Já na Itália, onde um italiano trabalha em média 1800 horas, o desemprego está em 11% e o emprego está em 58%”, detalha.

“Para eliminar o desemprego, o único remédio válido é reduzir as horas de trabalho, mantendo o salário e aumentando o número de vagas”, diz, em entrevista ao UOL.

(Lúcia Valentim Rodrigues, “Mais ócio, por favor”.
<https://noticias.uol.com.br>. Adaptado)

13. As informações do texto, fundamentadas no pensamento de Domenico De Masi, evidenciam que

- (A) o aumento do desemprego precisa ser combatido com redução da carga horária dos trabalhadores, acompanhada da diminuição de seus salários.
- (B) o pensamento revolucionário sugere que as pessoas trabalhem mais horas diárias, mesmo em um cenário social marcado pelo desemprego.
- (C) a situação de emprego na Alemanha é melhor do que na Itália porque naquele país o trabalho está acima da média mundial, o que aumenta a produtividade.
- (D) a saúde do sistema produtivo com garantia de empregabilidade depende da redução da carga de trabalho individual, o que garantiria a abertura de novas vagas.
- (E) o aumento de horas extras laborais elimina as possibilidades do ócio criativo, mas, por outro lado, é a chave para a criação de postos de trabalho.

14. De acordo com Domenico De Masi, uma ação que tem efeito negativo no sistema produtivo das empresas é

- (A) o aperfeiçoamento profissional por meio do ócio.
- (B) a oferta de mais vagas de trabalhos para os cidadãos.
- (C) a alteração da lógica do mercado vigente.
- (D) a tentativa de fundir estudo, trabalho e lazer.
- (E) a busca pela redução das folhas de pagamento.

15. Considere as passagens:

- Quando o sociólogo italiano Domenico De Masi lançou o conceito de “ócio criativo” [...], foi **alçado** à condição de pensador revolucionário... (1º parágrafo)
- A intenção era alcançar uma fusão entre estudo, trabalho e lazer para aprimorar o conhecimento, vivenciar diferentes experiências e **instigar** a criatividade. (2º parágrafo)
- “Se as regras do jogo não mudarem, o desemprego – aberto ou oculto – está destinado a crescer em dimensão **patológica**”, escreve. (4º parágrafo)

No contexto em que estão empregados, os termos significam, correta e respectivamente:

- (A) promovido; restringir; limitada.
- (B) assemelhado; induzir; esperançosa.
- (C) conduzido; coibir; mórbida.
- (D) elevado; estimular; doentia.
- (E) rebaixado; promover; promissora.

16. Assinale a alternativa em que se transcreve uma passagem do texto na qual o termo destacado é empregado em sentido figurado.

- (A) ... o sociólogo prega uma nova guinada no pensamento **empresarial**. (3º parágrafo)
- (B) ... que abririam as **portas** para a criatividade ... (2º parágrafo)
- (C) ... mais ele contribui para a **taxa** de desocupação. (7º parágrafo)
- (D) O **sucesso** se deveu à explicação do espírito daquele tempo... (2º parágrafo)
- (E) As **empresas** tentam reduzir suas folhas de pagamento... (6º parágrafo)

17. Coube ____ Domenico De Masi ____ criação do conceito de ócio criativo, referindo-se ____ desconexão necessária com a labuta como caminho para se chegar ____ experiências criativas do ser humano.

Em conformidade com a norma-padrão, as lacunas do enunciado devem ser preenchidas, correta e respectivamente, com:

- (A) a ... a ... à ... às
- (B) à ... a ... a ... à
- (C) à ... à ... à ... as
- (D) a ... à ... a ... a
- (E) à ... a ... à ... às

18. De acordo com a norma-padrão, as passagens “os momentos de desconexão com a labuta que abririam as portas para a criatividade” (2º parágrafo), “para De Masi, a única saída é reduzir a carga de trabalho individual” (3º parágrafo) e “A lógica do mercado não ajuda a melhorar esses números.” (6º parágrafo) estão corretamente reescritas em:

- (A) os momentos de desconexão com a labuta seriam favoráveis em portas abertas para a criatividade / De Masi concorda da redução da carga de trabalho individual / A lógica do mercado não colabora na melhoria a esses números.
- (B) os momentos de desconexão com a labuta seriam favoráveis com as portas abertas para a criatividade / De Masi concorda com a redução da carga de trabalho individual / A lógica do mercado não colabora pela melhoria desses números.
- (C) os momentos de desconexão com a labuta seriam favoráveis de portas abertas para a criatividade / De Masi concorda pela redução da carga de trabalho individual / A lógica do mercado não colabora diante a melhoria nesses números.
- (D) os momentos de desconexão com a labuta seriam favoráveis às portas abertas para a criatividade / De Masi concorda com a redução da carga de trabalho individual / A lógica do mercado não colabora com a melhoria desses números.
- (E) os momentos de desconexão com a labuta seriam favoráveis para as portas abertas para a criatividade / De Masi concorda na redução da carga de trabalho individual / A lógica do mercado não colabora à melhoria desses números.

19. De acordo com a norma-padrão, a concordância nominal está plenamente atendida em:

- (A) Os altos índices de desemprego e a falta de novas vagas criam um clima social de desalento.
- (B) Reduzindo a carga de trabalho para 1400 horas, o Brasil estaria quites em relação aos números internacionais.
- (C) A situação do Brasil está meia complicada, com o desemprego de 13 milhões de pessoas.
- (D) De acordo com Domenico De Masi, é necessário a diminuição da taxa de desocupação.
- (E) No Brasil, há bastante pessoas que procuram emprego há um ano ou mais, segundo o IBGE.

20. Sem prejuízo de sentido ao texto, o trecho – As empresas tentam reduzir suas folhas de pagamento, mesmo que isso signifique mais horas extras. (5º parágrafo) – está corretamente reescrito em:

- (A) As empresas tentam reduzir suas folhas de pagamento, tanto que isso significa mais horas extras.
- (B) As empresas tentam reduzir suas folhas de pagamento, porque isso significa mais horas extras.
- (C) As empresas tentam reduzir suas folhas de pagamento, quando isso significa mais horas extras.
- (D) As empresas tentam reduzir suas folhas de pagamento, se isso significar mais horas extras.
- (E) As empresas tentam reduzir suas folhas de pagamento, apesar de isso significar mais horas extras.

21. Em determinado período de tempo, na conta corrente de Carlos, ocorreram apenas 3 saques e 2 depósitos, sendo os saques de R\$ 120,00; R\$ 375,00 e R\$ 420,00, e os depósitos de R\$ 500,00 e R\$ 650,00. Se, após essas movimentações, o saldo da conta corrente de Carlos ficou negativo em R\$ 213,00, o saldo, antes dessas movimentações, era
- (A) positivo de R\$ 22,00.
 - (B) positivo de R\$ 122,00.
 - (C) negativo de R\$ 448,00.
 - (D) negativo de R\$ 122,00.
 - (E) negativo de R\$ 22,00.
22. Do último salário que recebeu, no valor líquido de R\$ 2.748,00, Ana utilizou $\frac{2}{3}$ com os pagamentos das obrigações mensais, e metade do que sobrou ela depositou em uma aplicação que tem. Sabendo que uma das obrigações mensais que Ana pagou foi a conta de energia elétrica, que correspondeu a $\frac{1}{4}$ do valor que ela depositou na aplicação, o valor dessa conta de energia foi de
- (A) R\$ 121,75.
 - (B) R\$ 107,25.
 - (C) R\$ 132,00.
 - (D) R\$ 114,50.
 - (E) R\$ 149,25.
23. No dia 28.11.2017, o site da Fundação Nacional da Saúde, do Ministério da Saúde, publicou a fala do então ministro daquela pasta em um congresso internacional. De acordo com essa fala, pode-se concluir que, a cada R\$ 50,00 investidos em saneamento, R\$ 450,00 são economizados em saúde. Considerando-se essa informação, para uma economia de R\$ 2,88 milhões em saúde, é necessário um investimento em saneamento de
- (A) R\$ 320.000,00.
 - (B) R\$ 290.000,00.
 - (C) R\$ 330.000,00.
 - (D) R\$ 300.000,00.
 - (E) R\$ 310.000,00.

24. Em um cofre, há o total de R\$ 21,00, apenas em moedas de R\$ 0,50, R\$ 0,25 e R\$ 0,10. Se o número de moedas de R\$ 0,50 é 4 unidades maior que o dobro do número de moedas de R\$ 0,10, e o número de moedas de R\$ 0,25 é 5 unidades menor que o número de moedas de R\$ 0,10, então o valor em moedas de R\$ 0,50 contidas nesse cofre é

- (A) R\$ 16,50.
- (B) R\$ 17,00.
- (C) R\$ 15,50.
- (D) R\$ 16,00.
- (E) R\$ 17,50.

25. Marcelo e Débora trabalham em regime de escala. A cada 4 dias sucessivamente trabalhados, Débora folga somente no dia seguinte, e a cada 6 dias sucessivamente trabalhados, Marcelo também folga somente no dia seguinte. No dia 26.07.2019, ambos estavam de folga. Sabendo que o mês de julho tem 31 dias, e que Marcelo e Débora trabalham independentemente de os dias serem sábados, domingos e feriados, se não ocorrer imprevisto e eles trabalharem conforme informado, então o próximo dia em que ambos estarão de folga, em um mesmo dia, será em

- (A) 24.08.2019.
- (B) 19.08.2019.
- (C) 13.08.2019.
- (D) 07.08.2019.
- (E) 30.08.2019.

26. A razão entre o número de mulheres e o número de homens convocados para a segunda fase de um concurso é $\frac{3}{5}$. No dia da segunda fase, 4 mulheres e 10 homens

não compareceram e, no total, 362 candidatos realizaram essa fase. Dessa forma, o número de mulheres que realizaram a segunda fase do concurso foi

- (A) 137.
- (B) 131.
- (C) 140.
- (D) 143.
- (E) 134.

27. Dados da Polícia Militar do Estado de São Paulo, publicados no *site* que ela mantém, indicam que o número médio, por hora, de ocorrências atendidas no mês de março de 2019 foi 216. Sabendo que esse número é 12,5% maior que o número registrado no mês imediatamente anterior, é correto afirmar que a diferença entre os números médios, por hora, de ocorrências atendidas nos meses de março e de fevereiro de 2019 é
- (A) 26.
(B) 24.
(C) 25.
(D) 27.
(E) 28.
28. Hoje, a média aritmética simples das idades de 15 amigos é de 45 anos. Excluindo-se a menor e a maior idades das pessoas desse grupo, a média aritmética simples das demais idades é de 44 anos. Se a diferença entre essa maior e essa menor idades é 19 anos, então a menor idade é igual a
- (A) 40 anos.
(B) 41 anos.
(C) 42 anos.
(D) 43 anos.
(E) 39 anos.
29. Para determinado evento, foram colocados à venda, no total, 1 500 ingressos, que foram todos comprados. Cada ingresso normal foi vendido a R\$ 150,00, cada ingresso de meia-entrada foi vendido a R\$ 75,00, e, ainda, foram vendidos ingressos a preço promocional de R\$ 100,00 cada, totalizando R\$ 185.000,00. Se o número de ingressos de meia-entrada foi o dobro do número de ingressos vendidos a preço promocional, o número de ingressos normais vendidos foi
- (A) 800.
(B) 750.
(C) 850.
(D) 950.
(E) 900.
30. A respeito de um terreno retangular, sabe-se que seu perímetro é 64 metros e que a diferença entre as medidas do maior e do menor lados é 2 metros. Sendo assim, a área desse terreno, em metros quadrados, é
- (A) 224.
(B) 195.
(C) 1023.
(D) 255.
(E) 1155.

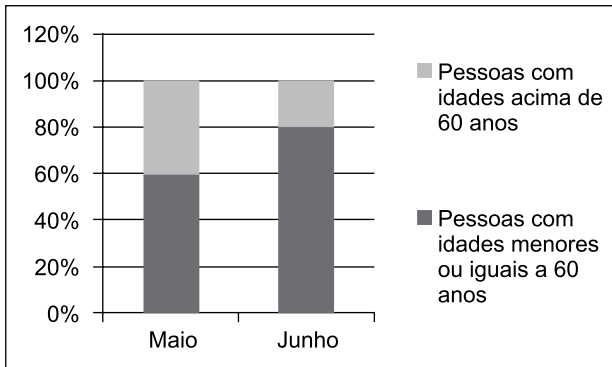
31. A tabela a seguir apresenta informações sobre a composição do quadro de cabos e sargentos em um batalhão.

	Cabos	Sargentos
Homens	65%	70%
Mulheres	35%	30%

Com base apenas nas informações apresentadas na tabela, assinale a alternativa que contém informação necessariamente verdadeira sobre os cabos e sargentos desse batalhão.

- (A) O número de homens com patentes de cabo ou sargento é maior que o de mulheres com patentes de cabo ou sargento.
- (B) O número de homens com patentes de cabo ou sargento é menor que o de mulheres com patentes de cabo ou sargento.
- (C) O número de mulheres com patente de cabo é metade do de homens com patente de sargento.
- (D) O número de homens com patente de cabo é maior que o de homens com patente de sargento.
- (E) O número de homens com patente de cabo é menor que o de homens com patente de sargento.
32. Cláudio, Alice, José e Elen são quatro amigos com alturas distintas. Colocados em uma fila indiana ordenada pela altura, José está entre Cláudio e Alice, e Cláudio está entre Alice e Elen. Sendo assim, é verdade que
- (A) Alice está entre José e Cláudio.
- (B) José é mais baixo que Cláudio e mais alto que Elen.
- (C) Elen está entre José e Alice.
- (D) Cláudio é mais baixo que José e mais alto que Alice.
- (E) José está entre Alice e Elen.

33. O gráfico apresenta informações associadas ao atendimento de pessoas em determinada repartição pública, nos meses de maio e de junho de 2019.



Sabendo que o número de pessoas atendidas em maio foi $\frac{3}{4}$ do número de pessoas atendidas em junho, o número de pessoas atendidas com idades acima de 60 anos no mês de junho corresponde, do número de pessoas atendidas com idades acima de 60 anos no mês de maio, a

- (A) $\frac{1}{2}$
- (B) $\frac{2}{3}$
- (C) $\frac{5}{6}$
- (D) $\frac{3}{4}$
- (E) $\frac{1}{5}$
34. Considere S a superfície plana do tampo de uma mesa retangular M . Se, na fabricação de uma nova mesa, aumentarmos em $\frac{1}{4}$ as medidas da largura e do comprimento da mesa M , a superfície plana da nova mesa corresponderá, de S , a
- (A) $\frac{25}{16}$
- (B) $\frac{11}{8}$
- (C) $\frac{19}{16}$
- (D) $\frac{3}{2}$
- (E) $\frac{15}{8}$

HISTÓRIA GERAL

35. Uma das metas mais importantes do tratado era [...] controlar a Alemanha (segundo uma expressão usada naquela época), isto é, destruir sua força militar no presente e no futuro. [...] ficou decidido que o exército alemão ficaria limitado a 100 mil homens, recrutados com base em um compromisso voluntário de doze anos para os soldados e suboficiais.

(Jean-Jacques Becker. *O Tratado de Versalhes*, 2011)

O Tratado de Versalhes, assinado após a Primeira Guerra Mundial, contribuiu para

- (A) a adoção de planos internacionais de ajuda financeira aos países economicamente destruídos pelo conflito bélico.
 - (B) a constituição, pelas nações asiáticas e europeias derrotadas na guerra, de um bloco militar contrário ao imperialismo na África e na Ásia.
 - (C) o fortalecimento de ideologias antidemocráticas habilmente exploradas por partidos políticos nacionalistas.
 - (D) o desenvolvimento duradouro da economia internacional como resultado da redução de gastos públicos com equipamentos militares.
 - (E) a emergência de relações estáveis, baseadas nos princípios de reciprocidade, entre as potências industrializadas europeias.
36. Até finais dos anos sessenta, o enfrentamento com o comunismo definiu a política exterior. [...] houve períodos de grande tensão internacional [...]. O êxito soviético ao lançar o satélite não tripulado, Sputnik, em outubro de 1957, demonstrava aparentemente a superioridade dos soviéticos tanto em tecnologia espacial como na capacidade para atacar o hemisfério ocidental por meio de mísseis orbitais.

(Philip Jenkins. *Breve história dos Estados Unidos*, 2017.)

Pode-se acrescentar às condições das relações internacionais referidas pelo texto

- (A) o emprego de armas convencionais no confronto direto entre as potências.
- (B) a ausência de movimentos sociais nas áreas controladas pelas potências.
- (C) a reduzida influência política das potências nos países do Terceiro Mundo.
- (D) o acordo entre potências favorável à manutenção da democracia em escala global.
- (E) o aumento constante do arsenal nuclear nas potências rivais.

37. Observe o cartaz.



(http://66.media.tumblr.com/tumblr_lo2s1wbuiV1qjrdq3o1_400.jpg)

Considerando a imagem e conhecimentos sobre a história do Brasil republicano, é correto afirmar que o cartaz trata de

- (A) uma convocação de reservistas para o alistamento militar no auge da Guerra Mundial.
 - (B) um apelo à sociedade para sua mobilização em benefício das populações mais carentes do país.
 - (C) uma denúncia das intenções antidemocráticas de alguns setores das forças armadas brasileiras.
 - (D) um chamado à participação efetiva da população na resistência militar a um governo federal centralizador.
 - (E) uma arma de mobilização do operariado das grandes cidades contrário às reformas sociais de governos populistas.
38. Ao receberem menos dinheiro por suas vendas ao exterior, os exportadores e produtores ligados à exportação reduzem suas compras. Os produtores internos afetados por essa redução também reduzem as suas, e assim por diante.

(Celso Furtado. *Formação econômica do Brasil*, 1989)

O autor refere-se aos desdobramentos da queda no preço e no volume da exportação do café brasileiro decorrente da Crise de 1929. Tendo em vista o cenário econômico descrito pelo texto, o governo Getúlio Vargas decidiu, entre 1931 e 1939,

- (A) extinguir em curto prazo a dependência do país à economia cafeeira, abandonando os empresários do setor.
- (B) equilibrar a oferta e a procura do produto, comprando e destruindo os excedentes das colheitas.
- (C) adquirir empréstimos no exterior, visando à manutenção da política de valorização do preço do café.
- (D) limitar a venda do produto ao mercado interno, considerando os prejuízos que a exportação de café causava ao país.
- (E) substituir os latifúndios cafeeiros por pequenas propriedades, desapropriando terras e concedendo incentivos fiscais a agricultores.

39. Em 18 de setembro de 1946 foi promulgada a quinta Constituição brasileira, a quarta republicana. Com 218 artigos, manteve a denominação Estados Unidos do Brasil. O Congresso foi dividido em duas casas. O mandato do Presidente da República foi estabelecido em cinco anos. A eleição do Presidente e Vice seria simultânea, ou seja, não formariam uma chapa, seriam escolhidos separadamente pelo eleitor.

(Marco Antonio Villa. *A história das Constituições brasileiras*, 2011)

A experiência política brasileira derivada da Constituição citada pode ser exemplificada pela

- (A) concentração das decisões políticas no poder executivo em prejuízo dos poderes legislativos e judiciários.
- (B) alternância no poder central de políticos apoiados pelos governadores do conjunto dos estados da Federação.
- (C) predominância eleitoral de partidos políticos representantes das classes de assalariados rurais.
- (D) mudança, no governo federal, de um candidato eleito por um partido conservador para um político ligado a sindicatos de trabalhadores.
- (E) censura regular às manifestações de industriais que se opunham aos governos federal e estaduais.

40. *Brasil Eu Fico.*

Minas Gerais, uai, uai
São Paulo, sai da frente!
Guanabara, como é que é?
Bahia, oxente!
E os meus irmãozinhos lá do norte?

Este é o meu Brasil
Cheio de riquezas mil
Este é o meu Brasil
Futuro e progresso do ano 2000
Quem não gostar e for do contra
Que vá prá...
[...]

(<https://www.lettras.mus.br/wilson-simonal/1803895/brasil-eu-fico-print.html>)

A canção foi composta por Jorge Ben e gravada pelo cantor Wilson Simonal em dezembro de 1970. A música expressava

- (A) a conjuntura histórica de agitações sociais, derivada da crise do milagre econômico patrocinado pelo Estado.
- (B) a visão de uma nação com graves desigualdades regionais, caracterizada pelo crescimento desigual da economia.
- (C) a oposição dos artistas ao regime militar, expressa em uma linguagem de fácil entendimento popular.
- (D) a oposição à falsa liberdade democrática do momento, propagandeada pelos slogans governamentais.
- (E) a ideologia do desenvolvimentismo econômico do governo, mesclada de um otimismo nacionalista.

41. Analise o mapa para responder à questão.



(<https://www.marsh.com/ca/en/campaigns/political-risk-map-2019.html?utm>. Acesso em 15.05.2019. Adaptado)

A leitura do mapa e os conhecimentos sobre o contexto geopolítico e geoeconômico mundial permitem afirmar que as áreas em destaque no mapa

- (A) estão sujeitas a fortes tensões geopolíticas.
- (B) associaram-se em novos blocos econômicos.
- (C) têm possibilidades de se tornarem economias emergentes.
- (D) devem reduzir a produção de *commodities* minerais.
- (E) apresentam grande participação no comércio mundial.

42. Cerca de 12 milhões de hectares de florestas tropicais desapareceram em 2018, o equivalente a 30 campos de futebol por minuto. Os dados de 2018 são do *Global Forest Watch*, atualizado pela Universidade de Maryland, nos Estados Unidos. O levantamento mostra o complexo retrato do desmatamento em áreas com densas florestas tropicais.

(<https://www.bbc.com/portuguese/geral-48046107>. Acesso em 13.05.2109. Adaptado)

Além da Amazônia, a campeã em desmatamento, outra área de forte desmatamento é

- (A) o norte da África, devido à criação de reservatórios e da expansão da pecuária intensiva.
- (B) a Índia, devido à implantação de indústrias de papel e celulose e dos incêndios naturais.
- (C) a África Central, devido à expansão da agropecuária e da produção de carvão vegetal.
- (D) o sul da Ásia, devido ao aumento da exploração mineral e da implantação de usinas hidrelétricas.
- (E) a Ásia central, devido à instalação de novos centros urbanos e da produção petrolífera.

43. Analise o mapa.

Brasil – Áreas ocupadas com a unidade de relevo X.



(Jurandyr Ross. Geografia do Brasil. Adaptado)

No mapa, estão em destaque as áreas de

- (A) planícies, tipos de formação rochosa que sofrem grande desgaste de agentes como chuvas e vento.
- (B) planaltos, formas de relevo ondulado que têm origem a partir de longos processos de erosão.
- (C) depressões, superfícies erodidas que se apresentam com altitudes mais baixas que as áreas vizinhas.
- (D) planaltos, tipos de relevo que se caracterizam pela pequena variação de altitudes.
- (E) planícies, superfícies planas que foram formadas por intensos processos de sedimentação.

44. Analise a tabela a seguir.

Brasil – Taxa de natalidade (%)

1980	1991	2000	2010	2018
31,2	23,3	20,8	15,8	14,4

(<https://brasilensintese.ibge.gov.br/populacao/taxas-brutas-de-natalidade.html>. Acesso em 15.05.2019)

A leitura da tabela e os conhecimentos sobre o contexto socioeconômico brasileiro permitem afirmar que

- (A) a queda da taxa de natalidade está relacionada à redução dos movimentos internos da população.
- (B) o recuo da taxa de natalidade demonstra que o Brasil caminha para se tornar um país emergente.
- (C) a evolução da taxa de natalidade nas últimas décadas se refletiu na estrutura da população brasileira.
- (D) a redução da taxa de natalidade indica que o país deverá passar por uma transição demográfica.
- (E) a taxa de natalidade é um dado demográfico que mostra a homogeneidade da população brasileira.

45. Para superar os Estados Unidos e se tornar o principal produtor do mundo, o Brasil expandiu por anos as lavouras destinadas ao produto. Só entre 2000 e 2014, a área destinada a plantar essa *commodity* no interior do País – em estados como Tocantins, Bahia, Piauí e Maranhão – cresceu 87%. Boa parte dela abrigava vegetação nativa, originalmente.

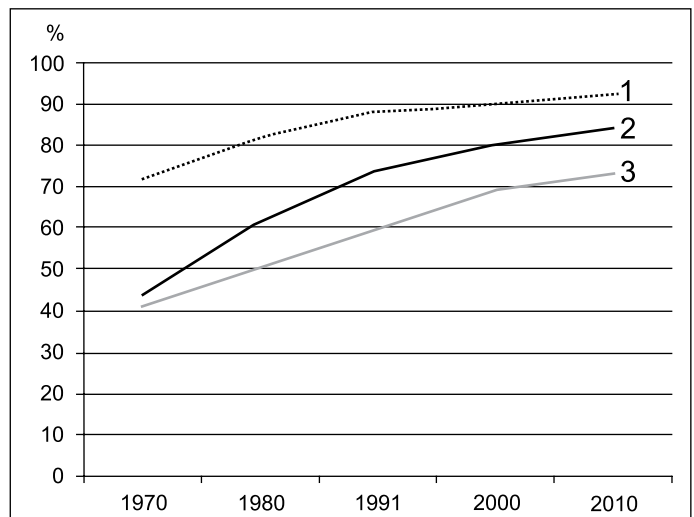
(<https://super.abril.com.br/tecnologia/o-avanco-mapeado-pela-nasa/> Acesso em 18.05.2019. Adaptado)

O texto descreve a expansão da produção

- (A) do milho pela caatinga.
- (B) do cacau pela floresta amazônica.
- (C) da cana de açúcar pela mata atlântica.
- (D) do café pela mata atlântica.
- (E) da soja pelo cerrado.

46. Observe o gráfico para responder à questão.

Urbanização de três regiões brasileiras – 1970-2010 (em %)



(IBGE)

A leitura do gráfico e os conhecimentos sobre a urbanização brasileira permitem afirmar que a região

- (A) 2 (Norte) teve a urbanização fortemente atrelada aos grandes projetos de exploração mineral implantados em vários estados nortistas.
- (B) 2 (Nordeste) apresentou rápida urbanização a partir dos anos de 1980 devido à industrialização das grandes cidades, promovida pela Sudene.
- (C) 1 (Centro-Oeste) teve a urbanização acelerada devido à construção de Brasília e a partir dos anos 2000, à expansão da agroindústria.
- (D) 1 (Sudeste) apresentou uma expressiva urbanização devido a fatores como a industrialização e a atração de migrantes de outras regiões brasileiras.
- (E) 3 (Sul) apresentou uma urbanização mais lenta porque desde sua ocupação sempre teve sua economia baseada em atividades agropecuárias.

47. O saldo da balança comercial em 2018 foi de US\$ 58,3 bilhões. Em 02 de janeiro de 2019, de acordo com o Ministério da Economia, esse é o “segundo melhor desempenho do comércio externo registrado desde 1989”. O saldo contabiliza a diferença entre as exportações e as importações.

(Agência Brasil. <https://bit.ly/30wCP53>. Acesso em 17.06.2019. Adaptado)

A respeito do comércio externo brasileiro, pode-se afirmar que

- (A) o Brasil abandonou as trocas comerciais com os países vizinhos sul-americanos.
- (B) a China, a União Europeia e os Estados Unidos são os principais compradores.
- (C) o Brasil figurou entre os três maiores exportadores do mundo, superando a Alemanha.
- (D) as exportações de ferro apresentaram forte redução na quantidade e no preço.
- (E) mais da metade dos produtos exportados durante o ano são bens manufaturados.

48. “Deixei claro [para Mike Pompeo, Secretário de Estado norte-americano] mais uma vez que nos preocupam os eventos recentes e as tensões na região, que não queremos uma escalada militar”, disse o ministro de Relações Exteriores alemão após o encontro com o representante americano.

Em 14 de maio, os representantes europeus expressaram preocupação sobre uma escalada da tensão entre os dois países e advertiram o secretário de Estado americano sobre o risco de um conflito “por acidente” no Golfo.


(G1-Globo. <https://glo.bo/2Vp5fKi>. Acesso em 17.06.2019. Adaptado)

A notícia envolve a tensão entre

- (A) a Rússia e a Síria.
- (B) a Arábia Saudita e o Iraque.
- (C) a Colômbia e a Venezuela.
- (D) os Estados Unidos e o Irã.
- (E) o Estado de Israel e a Palestina.

49. Considere um computador com o Microsoft Windows 10, em sua configuração original, sem nenhuma janela aberta. Como primeira ação, o usuário abre o WordPad e maximiza a janela. Em seguida abre o Bloco de Notas e maximiza a janela.

Assinale a alternativa que indica qual(is) janela(s) aparecerá(ão) na tela do computador quando o usuário clicar no botão indicado na imagem a seguir, na janela do Bloco de Notas, exibida parcialmente.



- (A) O Wordpad e o Bloco de Notas lado a lado.
- (B) A Área de Trabalho.
- (C) O Bloco de Notas.
- (D) As opções do Menu Iniciar.
- (E) O Wordpad.

50. Considerando o Microsoft Word 2010, em sua configuração padrão, assinale a alternativa que apresenta um trecho de um documento com as marcas de parágrafo ativadas.

(A) **Dicas-para-apresentação:¶**

- ➔ Considerar-a-expectativa-da-audiência¶
- ➔ Respeitar-o-tempo-reservado¶

- (B) • Presidente
- Vice-Presidente
- Diretores
- Gerentes
- Supervisores

(C) **☰**

Projeto	Responsável
Automação de rotinas	João Pedro
Otimização de processos	Ricardo Augusto

- (D) • Poder Executivo
 - Presidente
- Poder Legislativo
 - Presidente da Câmara
- Poder Judiciário
 - Ministros

(E) O projeto apresenta um atraso **considerável** por conta de sucessivas **falhas** na identificação dos requisitos.

Considere a seguinte planilha criada no Microsoft Excel 2010, em sua configuração padrão para responder as questões de números 51 e 52.

	A	B	C	D
1	Data	Incidente	Status	
2	02/mai	55	ENCERRADO	
3	02/mai	77	EM ABERTO	
4	03/mai	129	ENCERRADO	
5	03/mai	192	ENCERRADO	
6	03/mai	268	EM ABERTO	
7	08/mai	364	EM ABERTO	
8	09/mai	394	ENCERRADO	
9	10/mai	433	ENCERRADO	
10	10/mai	519	EM ABERTO	
11				
12				
13		ENCERRADO		
14				

51. Assinale a alternativa com a fórmula a ser inserida na célula C13 para contar a quantidade de vezes em que aparece a palavra ENCERRADO no intervalo entre C2 e C10.

- (A) =CONT.ENCERRADOS(C2:C10)
- (B) =CONT(C2:C10;B13)
- (C) =CONT.SE(C2:C10;B13)
- (D) =CONT.CASOS(C2:C10;B13)
- (E) =CONT.SE(C2:C10)

52. Assinale a alternativa que indica qual conteúdo será apagado se o usuário der um clique simples com o botão principal do mouse sobre o local destacado a seguir, e pressionar a tecla DEL.

	A	B	C
1	Data	Incidente	Status
2	02/mai	55	ENCERRADO
3	02/mai	77	EM ABERTO
4	03/mai	129	ENCERRADO

- (A) A linha 1 inteira, apenas.
- (B) A planilha inteira.
- (C) A coluna A inteira, apenas.
- (D) Todas as células que não contêm fórmulas, apenas.
- (E) Todas as células que contêm fórmulas, apenas.

53. No Microsoft PowerPoint 2010, em sua configuração original, um usuário está em modo de apresentação, exibindo o segundo slide, em uma apresentação de 10 slides, sem nenhum slide oculto, tampouco animações, transições, ou botões de ação.

Assinale a alternativa que indica a(s) tecla(s) que deve(m) ser pressionada(s) para finalizar a apresentação.

- (A) SHIFT+F5
- (B) HOME
- (C) END
- (D) ESC
- (E) F5

54. No Microsoft Outlook 2010, em sua configuração padrão, tem-se os dados de uma mensagem que foi enviada.

De: Antonio
Para: Andrea
Cc: Rodrigo
Cco: Fernando

Ao receber a mensagem, Rodrigo clicou no botão Encaminhar. Assinale a alternativa que indica a quantidade de destinatários que o aplicativo automaticamente preenche na nova mensagem que será preparada.

- (A) 2
- (B) 0
- (C) 1
- (D) 4
- (E) 3

NOÇÕES DE ADMINISTRAÇÃO PÚBLICA

55. É direito fundamental do cidadão brasileiro e dos estrangeiros residentes no Brasil:
- (A) nos termos da lei, a prestação de assistência religiosa nas entidades civis e militares de internação coletiva.
 - (B) o acesso à informação e assegurada a transparência quanto à fonte, quando necessário ao desagravo do ofendido.
 - (C) a livre manifestação do pensamento, sendo assegurado o anonimato.
 - (D) reunir-se pacificamente, com armas, em locais abertos ao público, independentemente de autorização.
 - (E) a expressão da atividade intelectual, artística, científica e de comunicação, mediante obtenção de licença específica.
56. A respeito dos direitos políticos do militar, assinale a alternativa correta.
- (A) O militar é inalistável e inelegível.
 - (B) O militar é alistável mas é inelegível, salvo se tiver mais de vinte anos de serviço.
 - (C) O militar alistável é inelegível, quando afastar-se da atividade antes da eleição.
 - (D) O militar, se eleito, passará automaticamente para o trabalho interno.
 - (E) O militar alistável é elegível, devendo afastar-se da atividade se contar com menos de dez anos de serviço.
57. A Administração Pública no Brasil orienta-se segundo a seguinte regra:
- (A) os vencimentos dos cargos do Poder Judiciário poderão ser superiores aos pagos pelo Poder Executivo.
 - (B) é vedada a contratação por tempo determinado para atender à necessidade temporária de serviço.
 - (C) é garantido ao servidor público civil o direito à livre associação sindical.
 - (D) obediência aos princípios de legalidade, pessoalidade, moralidade, publicidade e eficiência.
 - (E) é vedada a greve de servidores públicos civis e militares.
58. Sobre o tratamento da segurança pública na Constituição, é correto afirmar que
- (A) as polícias civis são forças auxiliares e reserva do Exército.
 - (B) a segurança pública é dever da família, direito e responsabilidade de todos os servidores públicos.
 - (C) aos corpos de bombeiros militares, além das atribuições definidas em lei, incumbe a execução de atividades de defesa civil.
 - (D) às polícias civis, dirigidas por delegados de polícia de carreira, incumbem a apuração de infrações penais, inclusive as militares.
 - (E) às polícias militares cabem a apuração de infrações penais em geral.
59. É correto afirmar sobre a Justiça Militar, no Estado de São Paulo, que
- (A) compete aos juízes de direito do juízo militar processar e julgar, colegiadamente, os crimes militares cometidos contra civis.
 - (B) compete a ela processar e julgar os militares do Estado nos crimes sujeitos ao Tribunal do Júri quando a vítima for civil.
 - (C) os serviços de correição permanente sobre as atividades do presídio militar serão realizados diretamente pelo Tribunal Militar.
 - (D) será constituída, em primeiro grau, pelos juízes de Direito e pelos Conselhos de Justiça e, em segundo grau, pelo Tribunal de Justiça Militar.
 - (E) o Tribunal de Justiça Militar do Estado compor-se-á de onze juízes.
60. Conforme a Constituição do Estado de São Paulo, a Polícia Militar
- (A) é integrada pelo Instituto de Criminalística e pelo Instituto Médico Legal.
 - (B) é órgão permanente ao qual incumbem, além das atribuições definidas em lei, a polícia ostensiva e a preservação da ordem pública.
 - (C) terá a sua organização, o seu funcionamento, os direitos, os deveres, as vantagens e o regime de trabalho de seus integrantes definidos por lei federal complementar.
 - (D) é integrante permanente das forças armadas nacionais, devendo submissão ao Comandante Geral das forças armadas, ou seja, ao Presidente da República.
 - (E) terá o seu Comandante Geral nomeado pelo Comandante Geral do Exército Brasileiro dentre oficiais da ativa.

REDAÇÃO

TEXTO 01

Pela primeira vez, a população deve consumir mais conteúdo midiático na internet do que pela TV, de acordo com relatório da agência de mídia Zenith. Conforme a previsão, já em 2019 as pessoas devem passar mais horas navegando pela internet, fazendo compras, assistindo a filmes, séries e vídeos, conversando ou ouvindo música, do que assistindo à televisão.

(“Internet irá ultrapassar TV já em 2019, indica relatório”, 18.06.2018. <https://epocanegocios.globo.com>. Adaptado)

TEXTO 02

De acordo com estudo divulgado pela empresa Morrison Foster, as pessoas passam, em média, sete horas por dia nas redes sociais. E é exatamente esse o local ocupado pelos influenciadores, que também estão conectados e produzindo conteúdos para seus seguidores a todo tempo. Segundo uma outra pesquisa, publicada pela Sprout Social, 74% dos consumidores guiam suas decisões de compra com base nas redes sociais. Ou seja, o público está atento às opiniões da internet e, principalmente, aos depoimentos de canais influentes e de credibilidade.

(“A contribuição dos influenciadores digitais para a decisão de compra”. 02.02.2018. <https://franpress.com.br>. Adaptado)

TEXTO 03

Nos últimos 10 anos, o tempo médio de consumo domiciliar de televisão passou de 8h18 para 9h17. Um crescimento de 12%. Vale ressaltar que esse foi um período de forte ascensão da internet como plataforma de distribuição de conteúdo. Os conteúdos da TV, além de entreter e informar, também exercem um papel importante na dinâmica social. Eles influenciam a pauta de conversas tanto com material que gera engajamento entre os telespectadores, como com publicidades criativas. O levantamento da Kantar IBOPE Media aponta que 51% das pessoas acham que a propaganda na TV é interessante e proporciona assunto para conversar. E, entre os que acessam a internet enquanto veem TV, 23% comentam nas redes sociais o que assistem – mostrando que a televisão segue marcando presença no dia a dia do brasileiro.

(João Paulo Reis. “Televisão: a abrangência e a influência do meio mais presente na vida dos brasileiros”, 24.12.2018. <https://observatoriodatelevisao.bol.uol.com.br>. Adaptado)

Com base nas informações dos textos e em seus próprios conhecimentos, escreva um texto dissertativo, de acordo com a norma-padrão da língua portuguesa, sobre o tema:

A POPULARIZAÇÃO DA INTERNET AMEAÇA O PODER DE INFLUÊNCIA DA TELEVISÃO?



POLÍCIA MILITAR DO ESTADO DE SÃO PAULO
DIRETORIA DE PESSOAL

28.07.2019

Concurso Público

001. PROVA OBJETIVA – PARTE I

Soldado PM de 2ª Classe

VERSÃO 2

1 - B	2 - D	3 - E	4 - B	5 - A	6 - C	7 - E	8 - C	9 - B	10 - D
11 - A	12 - C	13 - D	14 - E	15 - D	16 - B	17 - A	18 - D	19 - A	20 - E
21 - C	22 - D	23 - A	24 - B	25 - E	26 - A	27 - B	28 - C	29 - E	30 - D
31 - A	32 - E	33 - B	34 - A	35 - C	36 - E	37 - D	38 - B	39 - D	40 - E
41 - A	42 - C	43 - B	44 - C	45 - E	46 - D	47 - B	48 - D	49 - E	50 - A
51 - C	52 - B	53 - D	54 - B	55 - A	56 - E	57 - C	58 - C	59 - D	60 - B



POLÍCIA MILITAR DO ESTADO DE SÃO PAULO
DIRETORIA DE PESSOAL

Concurso Público

001. PROVA OBJETIVA – PARTE I

Soldado PM de 2ª Classe

- ◆ Você recebeu sua folha de respostas, este caderno, contendo 60 questões objetivas e um tema de redação a ser desenvolvido, e a folha de redação para transcrição do texto definitivo.
- ◆ Confira seus dados impressos na capa deste caderno e nas folhas de respostas e de redação.
- ◆ Quando for permitido abrir o caderno, verifique se está completo ou se apresenta imperfeições. Caso haja algum problema, informe ao fiscal da sala.
- ◆ A folha de redação deverá ser assinada apenas no local indicado; qualquer identificação ou marca feita pelo candidato no verso da folha de redação, que possa permitir sua identificação, acarretará a atribuição de nota zero à redação.
- ◆ Redija o texto definitivo e preencha a folha de respostas com caneta de tinta azul ou preta. Os rascunhos não serão considerados na correção. A ilegibilidade da letra acarretará prejuízo à nota do candidato.
- ◆ A duração das provas objetiva e de redação é de 4 horas, já incluído o tempo para o preenchimento da folha de respostas e para a transcrição do texto definitivo.
- ◆ Só será permitida a saída definitiva da sala e do prédio após transcorridos 75% do tempo de duração das provas.
- ◆ Deverão permanecer em cada uma das salas de prova os 3 últimos candidatos, até que o último deles entregue sua prova, assinando termo respectivo.
- ◆ Ao sair, você entregará ao fiscal a folha de redação, a folha de respostas e este caderno, podendo levar apenas o rascunho de gabarito, localizado em sua carteira, para futura conferência.
- ◆ Até que você saia do prédio, todas as proibições e orientações continuam válidas.

Nome do candidato _____

RG _____

Inscrição _____

Prédio _____

Sala _____

Carteira _____

AGUARDE A ORDEM DO FISCAL PARA ABRIR ESTE CADERNO.

Leia a charge para responder às questões de números 01 a 04.



(Chargista Duke. <https://www.otempo.com.br>)

01. As informações da charge permitem concluir corretamente que

- (A) o desinteresse da personagem por um emprego levou-a à miséria.
- (B) a mudança na conjuntura econômica ajudou a vida da personagem.
- (C) a situação de miséria da personagem passa despercebida por todos.
- (D) o cenário econômico opõe-se à condição de miséria da personagem.
- (E) a personagem ficou miserável em decorrência da falta de emprego.

02. No contexto em que está empregada, a locução verbal “Vai trabalhar” equivale a

- (A) uma advertência, no modo verbal subjuntivo, permeada de sentido de humor.
- (B) uma recomendação, no modo verbal imperativo, permeada de sentido de hostilidade.
- (C) uma solicitação, no modo verbal indicativo, permeada de sentido de sarcasmo.
- (D) uma ordem, no modo verbal imperativo, permeada de sentido de cortesia.
- (E) um conselho, no modo verbal subjuntivo, permeada de sentido de orientação.

03. Em conformidade com a norma-padrão, a ideia contida nas placas está corretamente expressa em:

- (A) Não existem vagas.
- (B) Vivem-se a falta de vagas.
- (C) Acabou as vagas.
- (D) Não tem-se vagas.
- (E) Falta vagas.

Leia o texto para responder às questões de números **04 a 10**.

Uso de inteligência artificial pode aumentar desemprego no Brasil, diz FGV

Responsável por reduzir burocracias, automatizar processos e aumentar a eficiência, o uso de inteligência artificial (IA) pode aumentar o desemprego no País em quase 4 pontos percentuais nos próximos 15 anos. Os dados são de um estudo desenvolvido pelo professor Felipe Serigatti, da Fundação Getúlio Vargas (FGV), em parceria com a Microsoft.

Para simular o impacto da adoção de IA na economia brasileira, a pesquisa estipulou três cenários: um conservador, no qual a taxa de crescimento da adoção de IA pelo mercado brasileiro é de 5%, durante 15 anos. Nesse panorama, a economia também cresce menos do que o estimado para os próximos anos. No cenário intermediário, o número é de 10%, com crescimento estável. Já no mais agressivo, em um mundo em que a economia tem projeção otimista de crescimento, a adoção de IA subiria 26% no período – é nesse último que o desemprego pode aumentar em 3,87 pontos percentuais, no saldo geral da população.

No mais severo dos cenários, os mais afetados serão os trabalhadores menos qualificados, que poderão ver o desemprego aumentar em 5,14 pontos percentuais; já o número de vagas qualificadas pode subir com a adoção massiva de inteligência artificial, em até 1,56 ponto percentual. “A inteligência artificial aumentará a desigualdade”, alertou Serigatti, que é professor de Economia da FGV.

A pesquisa analisou seis segmentos diferentes da economia: agricultura, pecuária, óleo e gás, mineração e extração, transporte e comércio e setor público (educação, saúde, defesa e administração pública). Os trabalhadores mais afetados no cenário mais agressivo são os mais qualificados dos setores de óleo e gás e de agricultura, dois dos principais pilares da economia brasileira. O primeiro tem redução nos empregos de 23,57%, e o segundo, de 21,55%.

(Bruno Romani, “Uso de inteligência artificial pode aumentar desemprego no Brasil, diz FGV”. <https://link.estadao.com.br>. Adaptado)

04. A leitura comparativa entre a charge de Duke e o texto do *Estadão* permite afirmar que

- (A) a piora na economia continuará a tirar com mais vigor postos de trabalho, já que nenhuma projeção prevê crescimento econômico.
- (B) o desemprego tende a se manter estável nos próximos anos, já que existe uma projeção otimista de crescimento.
- (C) o cenário desolador do desemprego no Brasil será plenamente revertido em até 15 anos, graças ao crescimento econômico.
- (D) o recrudescimento do desemprego vivido no presente do país é uma realidade que tende a se estender pelos próximos anos.
- (E) a redução do desemprego é uma realidade remota que privilegiará eventualmente os trabalhadores menos qualificados.

05. As informações textuais deixam evidente que

- (A) a adoção da inteligência artificial na economia poderá trazer desemprego, mas, paradoxalmente, trará crescimento financeiro à população em geral.
- (B) o impacto do desemprego gerado pela adoção da inteligência artificial é igual nos seis segmentos diferentes da economia, de acordo com a pesquisa da FGV.
- (C) a inteligência artificial aumentará a desigualdade social, principalmente em um cenário agressivo com projeção otimista de crescimento econômico.
- (D) a pesquisa mostra que o desemprego será o mesmo nos próximos 15 anos, independentemente da forma como a inteligência artificial seja adotada.
- (E) o melhor cenário para a economia brasileira é o mais agressivo, no qual não haverá impactos negativos com redução de postos de trabalhos.

06. Assinale a alternativa em que a informação apresentada é coerente com o exposto no texto.

- (A) No mais rigoroso dos cenários, os mais afetados serão aqueles trabalhadores com menos qualificação, já o número de vagas qualificadas poderá subir com a adoção intensiva de inteligência artificial.
- (B) A pesquisa da FGV aponta que os trabalhadores mais privilegiados no cenário mais agressivo são os mais qualificados dos setores de óleo e gás e de agricultura, dois dos pilares menos influentes da economia brasileira.
- (C) A inteligência artificial, cuja responsabilidade é diminuir burocracias, automatizar processos e intensificar a eficiência, promete reduzir a falta de emprego no País em 4 pontos percentuais nos próximos 15 anos.
- (D) Para simular o efeito da adoção de IA na economia brasileira, a pesquisa estabeleceu três cenários: um deles é reacionário, no qual a taxa de crescimento da adoção de IA pelo mercado brasileiro é de 5%, durante 15 anos.
- (E) No cenário intermediário, o número é de 10%, com crescimento inconstante. Já no mais ofensivo, em um mundo em que a economia tem projeção limitada de crescimento, a adoção de IA subiria 26% no período.

07. Assinale a alternativa em que a colocação pronominal atende à norma-padrão.

- (A) Geralmente afetam-se os trabalhadores menos qualificados, no mais severo dos cenários de adoção da IA.
- (B) A pesquisa da FGV indica que se afetará o emprego dos trabalhadores no Brasil com a adoção da IA.
- (C) No cenário mais agressivo da adoção da IA, tem projetado-se aumento de desemprego de 3,87%.
- (D) Caso adote-se a IA em um cenário conservador, a economia crescerá menos do que o estimado.
- (E) Se definiram três cenários na pesquisa, para simular o impacto da adoção de IA na economia brasileira.

08. Considere as passagens do texto:

- **Para** simular o impacto da adoção de IA na economia brasileira, a pesquisa estipulou três cenários... (2º parágrafo)
- No mais severo dos cenários, os mais afetados serão os trabalhadores menos qualificados, **que** poderão ver o desemprego aumentar em 5,14 pontos percentuais... (3º parágrafo)

Os termos destacados são responsáveis por articular os enunciados do texto, estabelecendo entre eles, respectivamente, relações de sentido de

- (A) causa e consequência.
- (B) finalidade e adição.
- (C) causa e explicação.
- (D) finalidade e explicação.
- (E) consequência e causa.

09. De acordo com a norma-padrão, o título do texto está corretamente reescrito e pontuado em:

- (A) Diz FGV, uso de inteligência artificial no Brasil pode aumentar desemprego.
- (B) FGV diz que, uso de inteligência artificial pode aumentar desemprego no Brasil.
- (C) “FGV diz” – uso no Brasil de inteligência artificial pode aumentar desemprego.
- (D) No Brasil uso de inteligência artificial pode aumentar desemprego diz FGV.
- (E) “No Brasil, uso de inteligência artificial pode aumentar desemprego”, diz FGV.

10. Assinale a alternativa em que a forma verbal destacada expressa sentido de projeção futura.

- (A) ... alertou Serigatti, que **é** professor de Economia da FGV. (3º parágrafo)
- (B) Os dados **são** de um estudo desenvolvido pelo professor Felipe Serigatti... (1º parágrafo)
- (C) ... os mais afetados **serão** os trabalhadores menos qualificados... (3º parágrafo)
- (D) O primeiro **tem** redução nos empregos de 23,57%... (4º parágrafo)
- (E) ... a pesquisa **estipulou** três cenários... (2º parágrafo)



(<http://chargeonline.com.br>)

11. As informações da charge permitem concluir que

- (A) o homem faz pedidos comuns e parecidos ao gênio, o que o deixa bem irritado.
- (B) o gênio se declara incapaz de resolver a situação de desemprego, que também o afeta.
- (C) a imprecisão dos pedidos ao gênio faz com que ele desista de realizá-los.
- (D) o gênio é mais um na estatística do desemprego e, por isso, quer ajudar o homem.
- (E) a capacidade de realizar os pedidos existe, mas o gênio não quer atendê-los.

12. Sem prejuízo à norma-padrão e ao sentido do texto, a frase do gênio está devidamente reescrita em:

- (A) E você acha que, como eu posso arrumar todos esses empregos, eu estarei aqui fazendo bico de gênio?
- (B) E você acha que, desde que eu posso arrumar todos esses empregos, eu estou aqui fazendo bico de gênio?
- (C) E você acha que, ainda que eu posso arrumar todos esses empregos, eu estarei aqui fazendo bico de gênio?
- (D) E você acha que, quando eu pude arrumar todos esses empregos, eu estaria aqui fazendo bico de gênio?
- (E) E você acha que, caso eu pudesse arrumar todos esses empregos, eu estaria aqui fazendo bico de gênio?

Leia o texto para responder às questões de números **13 a 20**.

Mais ócio, por favor

Quando o sociólogo italiano Domenico De Masi lançou o conceito de “ócio criativo”, em seu livro homônimo de 2000, foi alçado à condição de pensador revolucionário e à lista dos mais vendidos.

O sucesso se deveu à explicação do espírito daquele tempo, ao apontar que tão essencial ao crescimento profissional quanto o estudo e o trabalho eram os momentos de desconexão com a labuta que abririam as portas para a criatividade e para “pensar fora da caixinha”. A intenção era alcançar uma fusão entre estudo, trabalho e lazer para aprimorar o conhecimento, vivenciar diferentes experiências e instigar a criatividade.

Com o lançamento de “Uma Simples Revolução”, um best-seller, o sociólogo prega uma nova guinada no pensamento empresarial.

Ao analisar as taxas de desemprego e de desocupação, para De Masi, a única saída é reduzir a carga de trabalho individual e abrir novas vagas. “Se as regras do jogo não mudarem, o desemprego – aberto ou oculto – está destinado a crescer em dimensão patológica”, escreve.

O Brasil é um dos países que vivem essa realidade, com um desemprego de mais de 13 milhões de pessoas, segundo dados mais recentes do IBGE (Instituto Brasileiro de Geografia e Estatística). Mais de 5 milhões de pessoas procuram trabalho no país há um ano ou mais, o que representa quase 40% desse total.

A lógica do mercado não ajuda a melhorar esses números. As empresas tentam reduzir suas folhas de pagamento, mesmo que isso signifique mais horas extras.

Só que, de acordo com o sociólogo, quanto mais horas um indivíduo trabalha, mais ele contribui para a taxa de desocupação. “Na Alemanha, onde todos trabalham, em média, 1400 horas, o desemprego está em 3,8% e o emprego está em 79%. Já na Itália, onde um italiano trabalha em média 1800 horas, o desemprego está em 11% e o emprego está em 58%”, detalha.

“Para eliminar o desemprego, o único remédio válido é reduzir as horas de trabalho, mantendo o salário e aumentando o número de vagas”, diz, em entrevista ao UOL.

(Lúcia Valentim Rodrigues, “Mais ócio, por favor”.
<https://noticias.uol.com.br>. Adaptado)

13. As informações do texto, fundamentadas no pensamento de Domenico De Masi, evidenciam que

- (A) o aumento de horas extras laborais elimina as possibilidades do ócio criativo, mas, por outro lado, é a chave para a criação de postos de trabalho.
- (B) o aumento do desemprego precisa ser combatido com redução da carga horária dos trabalhadores, acompanhada da diminuição de seus salários.
- (C) a saúde do sistema produtivo com garantia de empregabilidade depende da redução da carga de trabalho individual, o que garantiria a abertura de novas vagas.
- (D) o pensamento revolucionário sugere que as pessoas trabalhem mais horas diárias, mesmo em um cenário social marcado pelo desemprego.
- (E) a situação de emprego na Alemanha é melhor do que na Itália porque naquele país o trabalho está acima da média mundial, o que aumenta a produtividade.

14. De acordo com Domenico De Masi, uma ação que tem efeito negativo no sistema produtivo das empresas é

- (A) a alteração da lógica do mercado vigente.
- (B) a tentativa de fundir estudo, trabalho e lazer.
- (C) a oferta de mais vagas de trabalhos para os cidadãos.
- (D) a busca pela redução das folhas de pagamento.
- (E) o aperfeiçoamento profissional por meio do ócio.

15. Considere as passagens:

- Quando o sociólogo italiano Domenico De Masi lançou o conceito de “ócio criativo” [...], foi **alçado** à condição de pensador revolucionário... (1º parágrafo)
- A intenção era alcançar uma fusão entre estudo, trabalho e lazer para aprimorar o conhecimento, vivenciar diferentes experiências e **instigar** a criatividade. (2º parágrafo)
- “Se as regras do jogo não mudarem, o desemprego – aberto ou oculto – está destinado a crescer em dimensão **patológica**”, escreve. (4º parágrafo)

No contexto em que estão empregados, os termos significam, correta e respectivamente:

- (A) rebaixado; promover; promissora.
- (B) elevado; estimular; doentia.
- (C) assemelhado; induzir; esperançosa.
- (D) conduzido; coibir; mórbida.
- (E) promovido; restringir; limitada.

16. Assinale a alternativa em que se transcreve uma passagem do texto na qual o termo destacado é empregado em sentido figurado.

- (A) ... que abririam as **portas** para a criatividade ... (2º parágrafo)
- (B) O **sucesso** se deveu à explicação do espírito daquele tempo... (2º parágrafo)
- (C) As **empresas** tentam reduzir suas folhas de pagamento... (6º parágrafo)
- (D) ... o sociólogo prega uma nova guinada no pensamento **empresarial**. (3º parágrafo)
- (E) ... mais ele contribui para a **taxa** de desocupação. (7º parágrafo)

17. Coube ____ Domenico De Masi ____ criação do conceito de ócio criativo, referindo-se ____ desconexão necessária com a labuta como caminho para se chegar ____ experiências criativas do ser humano.

Em conformidade com a norma-padrão, as lacunas do enunciado devem ser preenchidas, correta e respectivamente, com:

- (A) à ... a ... à ... às
- (B) à ... à ... à ... as
- (C) à ... a ... a ... à
- (D) a ... a ... à ... às
- (E) a ... à ... a ... a

18. De acordo com a norma-padrão, as passagens “os momentos de desconexão com a labuta que abririam as portas para a criatividade” (2º parágrafo), “para De Masi, a única saída é reduzir a carga de trabalho individual” (3º parágrafo) e “A lógica do mercado não ajuda a melhorar esses números.” (6º parágrafo) estão corretamente reescritas em:

- (A) os momentos de desconexão com a labuta seriam favoráveis para as portas abertas para a criatividade / De Masi concorda na redução da carga de trabalho individual / A lógica do mercado não colabora à melhoria desses números.
- (B) os momentos de desconexão com a labuta seriam favoráveis em portas abertas para a criatividade / De Masi concorda da redução da carga de trabalho individual / A lógica do mercado não colabora na melhoria a esses números.
- (C) os momentos de desconexão com a labuta seriam favoráveis às portas abertas para a criatividade / De Masi concorda com a redução da carga de trabalho individual / A lógica do mercado não colabora com a melhoria desses números.
- (D) os momentos de desconexão com a labuta seriam favoráveis de portas abertas para a criatividade / De Masi concorda pela redução da carga de trabalho individual / A lógica do mercado não colabora diante a melhoria nesses números.
- (E) os momentos de desconexão com a labuta seriam favoráveis com as portas abertas para a criatividade / De Masi concorda com a redução da carga de trabalho individual / A lógica do mercado não colabora pela melhoria desses números.

19. De acordo com a norma-padrão, a concordância nominal está plenamente atendida em:

- (A) A situação do Brasil está meia complicada, com o desemprego de 13 milhões de pessoas.
- (B) De acordo com Domenico De Masi, é necessário a diminuição da taxa de desocupação.
- (C) Reduzindo a carga de trabalho para 1400 horas, o Brasil estaria quites em relação aos números internacionais.
- (D) No Brasil, há bastante pessoas que procuram emprego há um ano ou mais, segundo o IBGE.
- (E) Os altos índices de desemprego e a falta de novas vagas criam um clima social de desalento.

20. Sem prejuízo de sentido ao texto, o trecho – As empresas tentam reduzir suas folhas de pagamento, mesmo que isso signifique mais horas extras. (5º parágrafo) – está corretamente reescrito em:

- (A) As empresas tentam reduzir suas folhas de pagamento, se isso significar mais horas extras.
- (B) As empresas tentam reduzir suas folhas de pagamento, apesar de isso significar mais horas extras.
- (C) As empresas tentam reduzir suas folhas de pagamento, porque isso significa mais horas extras.
- (D) As empresas tentam reduzir suas folhas de pagamento, quando isso significa mais horas extras.
- (E) As empresas tentam reduzir suas folhas de pagamento, tanto que isso significa mais horas extras.

21. Em determinado período de tempo, na conta corrente de Carlos, ocorreram apenas 3 saques e 2 depósitos, sendo os saques de R\$ 120,00; R\$ 375,00 e R\$ 420,00, e os depósitos de R\$ 500,00 e R\$ 650,00. Se, após essas movimentações, o saldo da conta corrente de Carlos ficou negativo em R\$ 213,00, o saldo, antes dessas movimentações, era
- (A) positivo de R\$ 122,00.
 - (B) positivo de R\$ 22,00.
 - (C) negativo de R\$ 22,00.
 - (D) negativo de R\$ 448,00.
 - (E) negativo de R\$ 122,00.
22. Do último salário que recebeu, no valor líquido de R\$ 2.748,00, Ana utilizou $\frac{2}{3}$ com os pagamentos das obrigações mensais, e metade do que sobrou ela depositou em uma aplicação que tem. Sabendo que uma das obrigações mensais que Ana pagou foi a conta de energia elétrica, que correspondeu a $\frac{1}{4}$ do valor que ela depositou na aplicação, o valor dessa conta de energia foi de
- (A) R\$ 114,50.
 - (B) R\$ 132,00.
 - (C) R\$ 149,25.
 - (D) R\$ 107,25.
 - (E) R\$ 121,75.
23. No dia 28.11.2017, o site da Fundação Nacional da Saúde, do Ministério da Saúde, publicou a fala do então ministro daquela pasta em um congresso internacional. De acordo com essa fala, pode-se concluir que, a cada R\$ 50,00 investidos em saneamento, R\$ 450,00 são economizados em saúde. Considerando-se essa informação, para uma economia de R\$ 2,88 milhões em saúde, é necessário um investimento em saneamento de
- (A) R\$ 330.000,00.
 - (B) R\$ 310.000,00.
 - (C) R\$ 320.000,00.
 - (D) R\$ 290.000,00.
 - (E) R\$ 300.000,00.

24. Em um cofre, há o total de R\$ 21,00, apenas em moedas de R\$ 0,50, R\$ 0,25 e R\$ 0,10. Se o número de moedas de R\$ 0,50 é 4 unidades maior que o dobro do número de moedas de R\$ 0,10, e o número de moedas de R\$ 0,25 é 5 unidades menor que o número de moedas de R\$ 0,10, então o valor em moedas de R\$ 0,50 contidas nesse cofre é

- (A) R\$ 15,50.
- (B) R\$ 17,50.
- (C) R\$ 16,50.
- (D) R\$ 17,00.
- (E) R\$ 16,00.

25. Marcelo e Débora trabalham em regime de escala. A cada 4 dias sucessivamente trabalhados, Débora folga somente no dia seguinte, e a cada 6 dias sucessivamente trabalhados, Marcelo também folga somente no dia seguinte. No dia 26.07.2019, ambos estavam de folga. Sabendo que o mês de julho tem 31 dias, e que Marcelo e Débora trabalham independentemente de os dias serem sábados, domingos e feriados, se não ocorrer imprevisto e eles trabalharem conforme informado, então o próximo dia em que ambos estarão de folga, em um mesmo dia, será em

- (A) 30.08.2019.
- (B) 07.08.2019.
- (C) 24.08.2019.
- (D) 13.08.2019.
- (E) 19.08.2019.

26. A razão entre o número de mulheres e o número de homens convocados para a segunda fase de um concurso é $\frac{3}{5}$. No dia da segunda fase, 4 mulheres e 10 homens

não compareceram e, no total, 362 candidatos realizaram essa fase. Dessa forma, o número de mulheres que realizaram a segunda fase do concurso foi

- (A) 131.
- (B) 134.
- (C) 143.
- (D) 140.
- (E) 137.

27. Dados da Polícia Militar do Estado de São Paulo, publicados no *site* que ela mantém, indicam que o número médio, por hora, de ocorrências atendidas no mês de março de 2019 foi 216. Sabendo que esse número é 12,5% maior que o número registrado no mês imediatamente anterior, é correto afirmar que a diferença entre os números médios, por hora, de ocorrências atendidas nos meses de março e de fevereiro de 2019 é
- (A) 27.
(B) 28.
(C) 24.
(D) 25.
(E) 26.
28. Hoje, a média aritmética simples das idades de 15 amigos é de 45 anos. Excluindo-se a menor e a maior idades das pessoas desse grupo, a média aritmética simples das demais idades é de 44 anos. Se a diferença entre essa maior e essa menor idades é 19 anos, então a menor idade é igual a
- (A) 41 anos.
(B) 42 anos.
(C) 43 anos.
(D) 39 anos.
(E) 40 anos.
29. Para determinado evento, foram colocados à venda, no total, 1 500 ingressos, que foram todos comprados. Cada ingresso normal foi vendido a R\$ 150,00, cada ingresso de meia-entrada foi vendido a R\$ 75,00, e, ainda, foram vendidos ingressos a preço promocional de R\$ 100,00 cada, totalizando R\$ 185.000,00. Se o número de ingressos de meia-entrada foi o dobro do número de ingressos vendidos a preço promocional, o número de ingressos normais vendidos foi
- (A) 850.
(B) 800.
(C) 750.
(D) 900.
(E) 950.
30. A respeito de um terreno retangular, sabe-se que seu perímetro é 64 metros e que a diferença entre as medidas do maior e do menor lados é 2 metros. Sendo assim, a área desse terreno, em metros quadrados, é
- (A) 255.
(B) 224.
(C) 1 155.
(D) 195.
(E) 1 023.

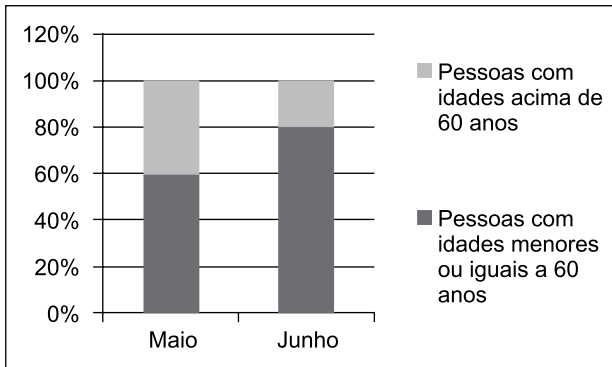
31. A tabela a seguir apresenta informações sobre a composição do quadro de cabos e sargentos em um batalhão.

	Cabos	Sargentos
Homens	65%	70%
Mulheres	35%	30%

Com base apenas nas informações apresentadas na tabela, assinale a alternativa que contém informação necessariamente verdadeira sobre os cabos e sargentos desse batalhão.

- (A) O número de homens com patente de cabo é maior que o de homens com patente de sargento.
- (B) O número de homens com patente de cabo é menor que o de homens com patente de sargento.
- (C) O número de homens com patentes de cabo ou sargento é maior que o de mulheres com patentes de cabo ou sargento.
- (D) O número de homens com patentes de cabo ou sargento é menor que o de mulheres com patentes de cabo ou sargento.
- (E) O número de mulheres com patente de cabo é metade do de homens com patente de sargento.
32. Cláudio, Alice, José e Elen são quatro amigos com alturas distintas. Colocados em uma fila indiana ordenada pela altura, José está entre Cláudio e Alice, e Cláudio está entre Alice e Elen. Sendo assim, é verdade que
- (A) José é mais baixo que Cláudio e mais alto que Elen.
- (B) Elen está entre José e Alice.
- (C) Cláudio é mais baixo que José e mais alto que Alice.
- (D) José está entre Alice e Elen.
- (E) Alice está entre José e Cláudio.

33. O gráfico apresenta informações associadas ao atendimento de pessoas em determinada repartição pública, nos meses de maio e de junho de 2019.



Sabendo que o número de pessoas atendidas em maio foi $\frac{3}{4}$ do número de pessoas atendidas em junho, o número de pessoas atendidas com idades acima de 60 anos no mês de junho corresponde, do número de pessoas atendidas com idades acima de 60 anos no mês de maio, a

- (A) $\frac{1}{5}$
- (B) $\frac{2}{3}$
- (C) $\frac{1}{2}$
- (D) $\frac{5}{6}$
- (E) $\frac{3}{4}$
34. Considere S a superfície plana do tampo de uma mesa retangular M . Se, na fabricação de uma nova mesa, aumentarmos em $\frac{1}{4}$ as medidas da largura e do comprimento da mesa M , a superfície plana da nova mesa corresponderá, de S , a

- (A) $\frac{15}{8}$
- (B) $\frac{19}{16}$
- (C) $\frac{3}{2}$
- (D) $\frac{11}{8}$
- (E) $\frac{25}{16}$

HISTÓRIA GERAL

35. Uma das metas mais importantes do tratado era [...] controlar a Alemanha (segundo uma expressão usada naquela época), isto é, destruir sua força militar no presente e no futuro. [...] ficou decidido que o exército alemão ficaria limitado a 100 mil homens, recrutados com base em um compromisso voluntário de doze anos para os soldados e suboficiais.

(Jean-Jacques Becker. *O Tratado de Versalhes*, 2011)

O Tratado de Versalhes, assinado após a Primeira Guerra Mundial, contribuiu para

- (A) o fortalecimento de ideologias antidemocráticas habilmente exploradas por partidos políticos nacionalistas.
 - (B) a emergência de relações estáveis, baseadas nos princípios de reciprocidade, entre as potências industrializadas europeias.
 - (C) a constituição, pelas nações asiáticas e europeias derrotadas na guerra, de um bloco militar contrário ao imperialismo na África e na Ásia.
 - (D) a adoção de planos internacionais de ajuda financeira aos países economicamente destruídos pelo conflito bélico.
 - (E) o desenvolvimento duradouro da economia internacional como resultado da redução de gastos públicos com equipamentos militares.
36. Até finais dos anos sessenta, o enfrentamento com o comunismo definiu a política exterior. [...] houve períodos de grande tensão internacional [...]. O êxito soviético ao lançar o satélite não tripulado, Sputnik, em outubro de 1957, demonstrava aparentemente a superioridade dos soviéticos tanto em tecnologia espacial como na capacidade para atacar o hemisfério ocidental por meio de mísseis orbitais.

(Philip Jenkins. *Breve história dos Estados Unidos*, 2017.)

Pode-se acrescentar às condições das relações internacionais referidas pelo texto

- (A) a reduzida influência política das potências nos países do Terceiro Mundo.
- (B) o emprego de armas convencionais no confronto direto entre as potências.
- (C) a ausência de movimentos sociais nas áreas controladas pelas potências.
- (D) o aumento constante do arsenal nuclear nas potências rivais.
- (E) o acordo entre potências favorável à manutenção da democracia em escala global.

37. Observe o cartaz.



(http://66.media.tumblr.com/tumblr_lo2s1wbuiV1qjrdq3o1_400.jpg)

Considerando a imagem e conhecimentos sobre a história do Brasil republicano, é correto afirmar que o cartaz trata de

- (A) uma denúncia das intenções antidemocráticas de alguns setores das forças armadas brasileiras.
 - (B) um chamado à participação efetiva da população na resistência militar a um governo federal centralizador.
 - (C) uma arma de mobilização do operariado das grandes cidades contrário às reformas sociais de governos populistas.
 - (D) um apelo à sociedade para sua mobilização em benefício das populações mais carentes do país.
 - (E) uma convocação de reservistas para o alistamento militar no auge da Guerra Mundial.
38. Ao receberem menos dinheiro por suas vendas ao exterior, os exportadores e produtores ligados à exportação reduzem suas compras. Os produtores internos afetados por essa redução também reduzem as suas, e assim por diante.

(Celso Furtado. *Formação econômica do Brasil*, 1989)

O autor refere-se aos desdobramentos da queda no preço e no volume da exportação do café brasileiro decorrente da Crise de 1929. Tendo em vista o cenário econômico descrito pelo texto, o governo Getúlio Vargas decidiu, entre 1931 e 1939,

- (A) limitar a venda do produto ao mercado interno, considerando os prejuízos que a exportação de café causava ao país.
- (B) adquirir empréstimos no exterior, visando à manutenção da política de valorização do preço do café.
- (C) extinguir em curto prazo a dependência do país à economia cafeeira, abandonando os empresários do setor.
- (D) substituir os latifúndios cafeeiros por pequenas propriedades, desapropriando terras e concedendo incentivos fiscais a agricultores.
- (E) equilibrar a oferta e a procura do produto, comprando e destruindo os excedentes das colheitas.

39. Em 18 de setembro de 1946 foi promulgada a quinta Constituição brasileira, a quarta republicana. Com 218 artigos, manteve a denominação Estados Unidos do Brasil. O Congresso foi dividido em duas casas. O mandato do Presidente da República foi estabelecido em cinco anos. A eleição do Presidente e Vice seria simultânea, ou seja, não formariam uma chapa, seriam escolhidos separadamente pelo eleitor.

(Marco Antonio Villa. *A história das Constituições brasileiras*, 2011)

A experiência política brasileira derivada da Constituição citada pode ser exemplificada pela

- (A) mudança, no governo federal, de um candidato eleito por um partido conservador para um político ligado a sindicatos de trabalhadores.
- (B) concentração das decisões políticas no poder executivo em prejuízo dos poderes legislativos e judiciários.
- (C) censura regular às manifestações de industriais que se opunham aos governos federal e estaduais.
- (D) alternância no poder central de políticos apoiados pelos governadores do conjunto dos estados da Federação.
- (E) predominância eleitoral de partidos políticos representantes das classes de assalariados rurais.

40. *Brasil Eu Fico.*

Minas Gerais, uai, uai
São Paulo, sai da frente!
Guanabara, como é que é?
Bahia, oxente!
E os meus irmãozinhos lá do norte?

Este é o meu Brasil
Cheio de riquezas mil
Este é o meu Brasil
Futuro e progresso do ano 2000
Quem não gostar e for do contra
Que vá prá...
[...]

(<https://www.lettras.mus.br/wilson-simonal/1803895/brasil-eu-fico-print.html>)

A canção foi composta por Jorge Ben e gravada pelo cantor Wilson Simonal em dezembro de 1970. A música expressava

- (A) a visão de uma nação com graves desigualdades regionais, caracterizada pelo crescimento desigual da economia.
- (B) a oposição dos artistas ao regime militar, expressa em uma linguagem de fácil entendimento popular.
- (C) a ideologia do desenvolvimentismo econômico do governo, mesclada de um otimismo nacionalista.
- (D) a conjuntura histórica de agitações sociais, derivada da crise do milagre econômico patrocinado pelo Estado.
- (E) a oposição à falsa liberdade democrática do momento, propagandeada pelos slogans governamentais.

41. Analise o mapa para responder à questão.



(<https://www.marsh.com/ca/en/campaigns/political-risk-map-2019.html?utm>. Acesso em 15.05.2019. Adaptado)

A leitura do mapa e os conhecimentos sobre o contexto geopolítico e geoeconômico mundial permitem afirmar que as áreas em destaque no mapa

- (A) devem reduzir a produção de *commodities* minerais.
 - (B) têm possibilidades de se tornarem economias emergentes.
 - (C) associaram-se em novos blocos econômicos.
 - (D) apresentam grande participação no comércio mundial.
 - (E) estão sujeitas a fortes tensões geopolíticas.
42. Cerca de 12 milhões de hectares de florestas tropicais desapareceram em 2018, o equivalente a 30 campos de futebol por minuto. Os dados de 2018 são do *Global Forest Watch*, atualizado pela Universidade de Maryland, nos Estados Unidos. O levantamento mostra o complexo retrato do desmatamento em áreas com densas florestas tropicais.

(<https://www.bbc.com/portuguese/geral-48046107>. Acesso em 13.05.2109. Adaptado)

Além da Amazônia, a campeã em desmatamento, outra área de forte desmatamento é

- (A) a África Central, devido à expansão da agropecuária e da produção de carvão vegetal.
- (B) a Ásia central, devido à instalação de novos centros urbanos e da produção petrolífera.
- (C) a Índia, devido à implantação de indústrias de papel e celulose e dos incêndios naturais.
- (D) o norte da África, devido à criação de reservatórios e da expansão da pecuária intensiva.
- (E) o sul da Ásia, devido ao aumento da exploração mineral e da implantação de usinas hidrelétricas.

43. Analise o mapa.

Brasil – Áreas ocupadas com a unidade de relevo X.



(Jurandyr Ross. *Geografia do Brasil*. Adaptado)

No mapa, estão em destaque as áreas de

- (A) planaltos, tipos de relevo que se caracterizam pela pequena variação de altitudes.
- (B) planícies, superfícies planas que foram formadas por intensos processos de sedimentação.
- (C) planícies, tipos de formação rochosa que sofrem grande desgaste de agentes como chuvas e vento.
- (D) planaltos, formas de relevo ondulado que têm origem a partir de longos processos de erosão.
- (E) depressões, superfícies erodidas que se apresentam com altitudes mais baixas que as áreas vizinhas.

44. Analise a tabela a seguir.

Brasil – Taxa de natalidade (%)

1980	1991	2000	2010	2018
31,2	23,3	20,8	15,8	14,4

(<https://brasilemsintese.ibge.gov.br/populacao/taxas-brutas-de-natalidade.html>. Acesso em 15.05.2019)

A leitura da tabela e os conhecimentos sobre o contexto socioeconômico brasileiro permitem afirmar que

- (A) o recuo da taxa de natalidade demonstra que o Brasil caminha para se tornar um país emergente.
- (B) a redução da taxa de natalidade indica que o país deverá passar por uma transição demográfica.
- (C) a evolução da taxa de natalidade nas últimas décadas se refletiu na estrutura da população brasileira.
- (D) a queda da taxa de natalidade está relacionada à redução dos movimentos internos da população.
- (E) a taxa de natalidade é um dado demográfico que mostra a homogeneidade da população brasileira.

45. Para superar os Estados Unidos e se tornar o principal produtor do mundo, o Brasil expandiu por anos as lavouras destinadas ao produto. Só entre 2000 e 2014, a área destinada a plantar essa *commodity* no interior do País – em estados como Tocantins, Bahia, Piauí e Maranhão – cresceu 87%. Boa parte dela abrigava vegetação nativa, originalmente.

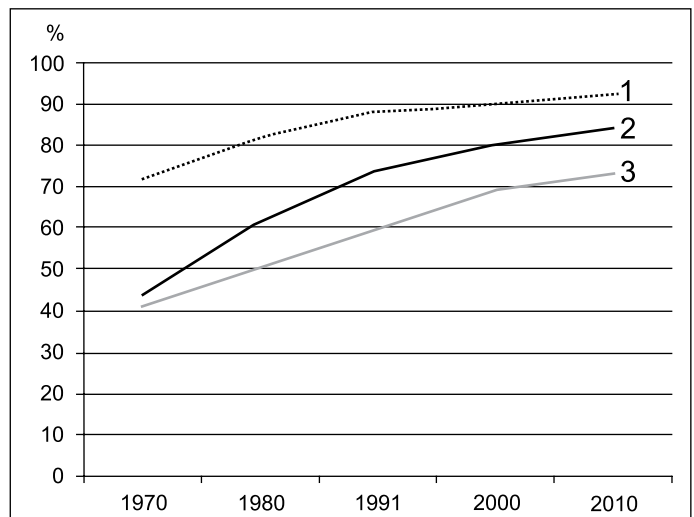
(<https://super.abril.com.br/tecnologia/o-avanco-mapeado-pela-nasa/> Acesso em 18.05.2019. Adaptado)

O texto descreve a expansão da produção

- (A) da soja pelo cerrado.
- (B) da cana de açúcar pela mata atlântica.
- (C) do cacau pela floresta amazônica.
- (D) do milho pela caatinga.
- (E) do café pela mata atlântica.

46. Observe o gráfico para responder à questão.

Urbanização de três regiões brasileiras – 1970-2010 (em %)



(IBGE)

A leitura do gráfico e os conhecimentos sobre a urbanização brasileira permitem afirmar que a região

- (A) 1 (Centro-Oeste) teve a urbanização acelerada devido à construção de Brasília e a partir dos anos 2000, à expansão da agroindústria.
- (B) 1 (Sudeste) apresentou uma expressiva urbanização devido a fatores como a industrialização e a atração de migrantes de outras regiões brasileiras.
- (C) 2 (Norte) teve a urbanização fortemente atrelada aos grandes projetos de exploração mineral implantados em vários estados nortistas.
- (D) 3 (Sul) apresentou uma urbanização mais lenta porque desde sua ocupação sempre teve sua economia baseada em atividades agropecuárias.
- (E) 2 (Nordeste) apresentou rápida urbanização a partir dos anos de 1980 devido à industrialização das grandes cidades, promovida pela Sudene.

47. O saldo da balança comercial em 2018 foi de US\$ 58,3 bilhões. Em 02 de janeiro de 2019, de acordo com o Ministério da Economia, esse é o “segundo melhor desempenho do comércio externo registrado desde 1989”. O saldo contabiliza a diferença entre as exportações e as importações.

(Agência Brasil. <https://bit.ly/30wCP53>. Acesso em 17.06.2019. Adaptado)

A respeito do comércio externo brasileiro, pode-se afirmar que

- (A) o Brasil figurou entre os três maiores exportadores do mundo, superando a Alemanha.
- (B) a China, a União Europeia e os Estados Unidos são os principais compradores.
- (C) o Brasil abandonou as trocas comerciais com os países vizinhos sul-americanos.
- (D) mais da metade dos produtos exportados durante o ano são bens manufaturados.
- (E) as exportações de ferro apresentaram forte redução na quantidade e no preço.

48. “Deixei claro [para Mike Pompeo, Secretário de Estado norte-americano] mais uma vez que nos preocupam os eventos recentes e as tensões na região, que não queremos uma escalada militar”, disse o ministro de Relações Exteriores alemão após o encontro com o representante americano.

Em 14 de maio, os representantes europeus expressaram preocupação sobre uma escalada da tensão entre os dois países e advertiram o secretário de Estado americano sobre o risco de um conflito “por acidente” no Golfo.


(G1-Globo. <https://glo.bo/2Vp5fKi>. Acesso em 17.06.2019. Adaptado)

A notícia envolve a tensão entre

- (A) o Estado de Israel e a Palestina.
- (B) a Rússia e a Síria.
- (C) os Estados Unidos e o Irã.
- (D) a Arábia Saudita e o Iraque.
- (E) a Colômbia e a Venezuela.

49. Considere um computador com o Microsoft Windows 10, em sua configuração original, sem nenhuma janela aberta. Como primeira ação, o usuário abre o WordPad e maximiza a janela. Em seguida abre o Bloco de Notas e maximiza a janela.

Assinale a alternativa que indica qual(is) janela(s) aparecerá(ão) na tela do computador quando o usuário clicar no botão indicado na imagem a seguir, na janela do Bloco de Notas, exibida parcialmente.



- (A) A Área de Trabalho.
- (B) O Wordpad e o Bloco de Notas lado a lado.
- (C) As opções do Menu Iniciar.
- (D) O Bloco de Notas.
- (E) O Wordpad.

50. Considerando o Microsoft Word 2010, em sua configuração padrão, assinale a alternativa que apresenta um trecho de um documento com as marcas de parágrafo ativadas.

- (A) O projeto apresenta um atraso **considerável** por conta de sucessivas **falhas** na identificação dos requisitos.
- (B)
 - Poder Executivo
 - Presidente
 - Poder Legislativo
 - Presidente da Câmara
 - Poder Judiciário
 - Ministros
- (C)
 - Presidente
 - Vice-Presidente
 - Diretores
 - Gerentes
 - Supervisores
- (D) **Dicas-para-apresentação:¶**
 - ➔ Considerar-a-expectativa-da-audiência¶
 - ➔ Respeitar-o-tempo-reservado¶

(E)

Projeto	Responsável
Automação de rotinas	João Pedro
Otimização de processos	Ricardo Augusto

Considere a seguinte planilha criada no Microsoft Excel 2010, em sua configuração padrão para responder as questões de números 51 e 52.

	A	B	C	D
1	Data	Incidente	Status	
2	02/mai	55	ENCERRADO	
3	02/mai	77	EM ABERTO	
4	03/mai	129	ENCERRADO	
5	03/mai	192	ENCERRADO	
6	03/mai	268	EM ABERTO	
7	08/mai	364	EM ABERTO	
8	09/mai	394	ENCERRADO	
9	10/mai	433	ENCERRADO	
10	10/mai	519	EM ABERTO	
11				
12				
13		ENCERRADO		
14				

51. Assinale a alternativa com a fórmula a ser inserida na célula C13 para contar a quantidade de vezes em que aparece a palavra ENCERRADO no intervalo entre C2 e C10.

- (A) =CONT.SE(C2:C10)
- (B) =CONT.CASOS(C2:C10;B13)
- (C) =CONT.ENCERRADOS(C2:C10)
- (D) =CONT(C2:C10;B13)
- (E) =CONT.SE(C2:C10;B13)

52. Assinale a alternativa que indica qual conteúdo será apagado se o usuário der um clique simples com o botão principal do mouse sobre o local destacado a seguir, e pressionar a tecla DEL.

	A	B	C
1	Data	Inci	
2	02/mai		
3	02/mai		
4	03/mai		

- (A) A planilha inteira.
- (B) A coluna A inteira, apenas.
- (C) Todas as células que contêm fórmulas, apenas.
- (D) A linha 1 inteira, apenas.
- (E) Todas as células que não contêm fórmulas, apenas.

53. No Microsoft PowerPoint 2010, em sua configuração original, um usuário está em modo de apresentação, exibindo o segundo slide, em uma apresentação de 10 slides, sem nenhum slide oculto, tampouco animações, transições, ou botões de ação.

Assinale a alternativa que indica a(s) tecla(s) que deve(m) ser pressionada(s) para finalizar a apresentação.

- (A) END
- (B) F5
- (C) SHIFT+F5
- (D) ESC
- (E) HOME

54. No Microsoft Outlook 2010, em sua configuração padrão, tem-se os dados de uma mensagem que foi enviada.

De: Antonio
Para: Andrea
Cc: Rodrigo
Cco: Fernando

Ao receber a mensagem, Rodrigo clicou no botão Encaminhar. Assinale a alternativa que indica a quantidade de destinatários que o aplicativo automaticamente preenche na nova mensagem que será preparada.

- (A) 1
- (B) 4
- (C) 3
- (D) 2
- (E) 0

NOÇÕES DE ADMINISTRAÇÃO PÚBLICA

55. É direito fundamental do cidadão brasileiro e dos estrangeiros residentes no Brasil:
- (A) a livre manifestação do pensamento, sendo assegurado o anonimato.
 - (B) reunir-se pacificamente, com armas, em locais abertos ao público, independentemente de autorização.
 - (C) nos termos da lei, a prestação de assistência religiosa nas entidades civis e militares de internação coletiva.
 - (D) a expressão da atividade intelectual, artística, científica e de comunicação, mediante obtenção de licença específica.
 - (E) o acesso à informação e assegurada a transparência quanto à fonte, quando necessário ao desagravo do ofendido.
56. A respeito dos direitos políticos do militar, assinale a alternativa correta.
- (A) O militar, se eleito, passará automaticamente para o trabalho interno.
 - (B) O militar alistável é elegível, devendo afastar-se da atividade se contar com menos de dez anos de serviço.
 - (C) O militar é alistável mas é inelegível, salvo se tiver mais de vinte anos de serviço.
 - (D) O militar é inalistável e inelegível.
 - (E) O militar alistável é inelegível, quando afastar-se da atividade antes da eleição.
57. A Administração Pública no Brasil orienta-se segundo a seguinte regra:
- (A) é garantido ao servidor público civil o direito à livre associação sindical.
 - (B) é vedada a greve de servidores públicos civis e militares.
 - (C) é vedada a contratação por tempo determinado para atender à necessidade temporária de serviço.
 - (D) os vencimentos dos cargos do Poder Judiciário poderão ser superiores aos pagos pelo Poder Executivo.
 - (E) obediência aos princípios de legalidade, pessoalidade, moralidade, publicidade e eficiência.
58. Sobre o tratamento da segurança pública na Constituição, é correto afirmar que
- (A) a segurança pública é dever da família, direito e responsabilidade de todos os servidores públicos.
 - (B) às polícias civis, dirigidas por delegados de polícia de carreira, incumbem a apuração de infrações penais, inclusive as militares.
 - (C) as polícias civis são forças auxiliares e reserva do Exército.
 - (D) às polícias militares cabem a apuração de infrações penais em geral.
 - (E) aos corpos de bombeiros militares, além das atribuições definidas em lei, incumbe a execução de atividades de defesa civil.
59. É correto afirmar sobre a Justiça Militar, no Estado de São Paulo, que
- (A) será constituída, em primeiro grau, pelos juizes de Direito e pelos Conselhos de Justiça e, em segundo grau, pelo Tribunal de Justiça Militar.
 - (B) o Tribunal de Justiça Militar do Estado compor-se-á de onze juizes.
 - (C) compete a ela processar e julgar os militares do Estado nos crimes sujeitos ao Tribunal do Júri quando a vítima for civil.
 - (D) os serviços de correição permanente sobre as atividades do presídio militar serão realizados diretamente pelo Tribunal Militar.
 - (E) compete aos juizes de direito do juízo militar processar e julgar, colegiadamente, os crimes militares cometidos contra civis.
60. Conforme a Constituição do Estado de São Paulo, a Polícia Militar
- (A) terá a sua organização, o seu funcionamento, os direitos, os deveres, as vantagens e o regime de trabalho de seus integrantes definidos por lei federal complementar.
 - (B) terá o seu Comandante Geral nomeado pelo Comandante Geral do Exército Brasileiro dentre oficiais da ativa.
 - (C) é integrada pelo Instituto de Criminalística e pelo Instituto Médico Legal.
 - (D) é órgão permanente ao qual incumbem, além das atribuições definidas em lei, a polícia ostensiva e a preservação da ordem pública.
 - (E) é integrante permanente das forças armadas nacionais, devendo submissão ao Comandante Geral das forças armadas, ou seja, ao Presidente da República.

REDAÇÃO

TEXTO 01

Pela primeira vez, a população deve consumir mais conteúdo midiático na internet do que pela TV, de acordo com relatório da agência de mídia Zenith. Conforme a previsão, já em 2019 as pessoas devem passar mais horas navegando pela internet, fazendo compras, assistindo a filmes, séries e vídeos, conversando ou ouvindo música, do que assistindo à televisão.

(“Internet irá ultrapassar TV já em 2019, indica relatório”, 18.06.2018. <https://epocanegocios.globo.com>. Adaptado)

TEXTO 02

De acordo com estudo divulgado pela empresa Morrison Foster, as pessoas passam, em média, sete horas por dia nas redes sociais. E é exatamente esse o local ocupado pelos influenciadores, que também estão conectados e produzindo conteúdos para seus seguidores a todo tempo. Segundo uma outra pesquisa, publicada pela Sprout Social, 74% dos consumidores guiam suas decisões de compra com base nas redes sociais. Ou seja, o público está atento às opiniões da internet e, principalmente, aos depoimentos de canais influentes e de credibilidade.

(“A contribuição dos influenciadores digitais para a decisão de compra”. 02.02.2018. <https://franpress.com.br>. Adaptado)

TEXTO 03

Nos últimos 10 anos, o tempo médio de consumo domiciliar de televisão passou de 8h18 para 9h17. Um crescimento de 12%. Vale ressaltar que esse foi um período de forte ascensão da internet como plataforma de distribuição de conteúdo. Os conteúdos da TV, além de entreter e informar, também exercem um papel importante na dinâmica social. Eles influenciam a pauta de conversas tanto com material que gera engajamento entre os telespectadores, como com publicidades criativas. O levantamento da Kantar IBOPE Media aponta que 51% das pessoas acham que a propaganda na TV é interessante e proporciona assunto para conversar. E, entre os que acessam a internet enquanto veem TV, 23% comentam nas redes sociais o que assistem – mostrando que a televisão segue marcando presença no dia a dia do brasileiro.

(João Paulo Reis. “Televisão: a abrangência e a influência do meio mais presente na vida dos brasileiros”, 24.12.2018. <https://observatoriodatelevisao.bol.uol.com.br>. Adaptado)

Com base nas informações dos textos e em seus próprios conhecimentos, escreva um texto dissertativo, de acordo com a norma-padrão da língua portuguesa, sobre o tema:

A POPULARIZAÇÃO DA INTERNET AMEAÇA O PODER DE INFLUÊNCIA DA TELEVISÃO?



POLÍCIA MILITAR DO ESTADO DE SÃO PAULO
DIRETORIA DE PESSOAL

28.07.2019

Concurso Público

001. PROVA OBJETIVA – PARTE I

Soldado PM de 2ª Classe

VERSÃO 3

1 - E	2 - B	3 - A	4 - D	5 - C	6 - A	7 - B	8 - D	9 - E	10 - C
11 - B	12 - E	13 - C	14 - D	15 - B	16 - A	17 - D	18 - C	19 - E	20 - B
21 - D	22 - A	23 - C	24 - D	25 - A	26 - E	27 - C	28 - B	29 - D	30 - A
31 - C	32 - D	33 - B	34 - E	35 - A	36 - D	37 - B	38 - E	39 - A	40 - C
41 - E	42 - A	43 - D	44 - C	45 - A	46 - B	47 - B	48 - C	49 - E	50 - D
51 - E	52 - A	53 - D	54 - E	55 - C	56 - B	57 - A	58 - E	59 - A	60 - D



POLÍCIA MILITAR DO ESTADO DE SÃO PAULO
DIRETORIA DE PESSOAL

Concurso Público

001. PROVA OBJETIVA – PARTE I

Soldado PM de 2ª Classe

- ◆ Você recebeu sua folha de respostas, este caderno, contendo 60 questões objetivas e um tema de redação a ser desenvolvido, e a folha de redação para transcrição do texto definitivo.
- ◆ Confira seus dados impressos na capa deste caderno e nas folhas de respostas e de redação.
- ◆ Quando for permitido abrir o caderno, verifique se está completo ou se apresenta imperfeições. Caso haja algum problema, informe ao fiscal da sala.
- ◆ A folha de redação deverá ser assinada apenas no local indicado; qualquer identificação ou marca feita pelo candidato no verso da folha de redação, que possa permitir sua identificação, acarretará a atribuição de nota zero à redação.
- ◆ Redija o texto definitivo e preencha a folha de respostas com caneta de tinta azul ou preta. Os rascunhos não serão considerados na correção. A ilegibilidade da letra acarretará prejuízo à nota do candidato.
- ◆ A duração das provas objetiva e de redação é de 4 horas, já incluído o tempo para o preenchimento da folha de respostas e para a transcrição do texto definitivo.
- ◆ Só será permitida a saída definitiva da sala e do prédio após transcorridos 75% do tempo de duração das provas.
- ◆ Deverão permanecer em cada uma das salas de prova os 3 últimos candidatos, até que o último deles entregue sua prova, assinando termo respectivo.
- ◆ Ao sair, você entregará ao fiscal a folha de redação, a folha de respostas e este caderno, podendo levar apenas o rascunho de gabarito, localizado em sua carteira, para futura conferência.
- ◆ Até que você saia do prédio, todas as proibições e orientações continuam válidas.

Nome do candidato _____

RG _____

Inscrição _____

Prédio _____

Sala _____

Carteira _____

AGUARDE A ORDEM DO FISCAL PARA ABRIR ESTE CADERNO.

Leia a charge para responder às questões de números 01 a 04.



(Chargista Duke. <https://www.otempo.com.br>)

01. As informações da charge permitem concluir corretamente que
- (A) a situação de miséria da personagem passa despercebida por todos.
 - (B) o desinteresse da personagem por um emprego levou-a à miséria.
 - (C) a personagem ficou miserável em decorrência da falta de emprego.
 - (D) a mudança na conjuntura econômica ajudou a vida da personagem.
 - (E) o cenário econômico opõe-se à condição de miséria da personagem.
02. No contexto em que está empregada, a locução verbal “Vai trabalhar” equivale a
- (A) uma ordem, no modo verbal imperativo, permeada de sentido de cortesia.
 - (B) uma advertência, no modo verbal subjuntivo, permeada de sentido de humor.
 - (C) um conselho, no modo verbal subjuntivo, permeada de sentido de orientação.
 - (D) uma solicitação, no modo verbal indicativo, permeada de sentido de sarcasmo.
 - (E) uma recomendação, no modo verbal imperativo, permeada de sentido de hostilidade.
03. Em conformidade com a norma-padrão, a ideia contida nas placas está corretamente expressa em:
- (A) Vivem-se a falta de vagas.
 - (B) Falta vagas.
 - (C) Não tem-se vagas.
 - (D) Não existem vagas.
 - (E) Acabou as vagas.

Leia o texto para responder às questões de números **04 a 10**.

Uso de inteligência artificial pode aumentar desemprego no Brasil, diz FGV

Responsável por reduzir burocracias, automatizar processos e aumentar a eficiência, o uso de inteligência artificial (IA) pode aumentar o desemprego no País em quase 4 pontos percentuais nos próximos 15 anos. Os dados são de um estudo desenvolvido pelo professor Felipe Serigatti, da Fundação Getúlio Vargas (FGV), em parceria com a Microsoft.

Para simular o impacto da adoção de IA na economia brasileira, a pesquisa estipulou três cenários: um conservador, no qual a taxa de crescimento da adoção de IA pelo mercado brasileiro é de 5%, durante 15 anos. Nesse panorama, a economia também cresce menos do que o estimado para os próximos anos. No cenário intermediário, o número é de 10%, com crescimento estável. Já no mais agressivo, em um mundo em que a economia tem projeção otimista de crescimento, a adoção de IA subiria 26% no período – é nesse último que o desemprego pode aumentar em 3,87 pontos percentuais, no saldo geral da população.

No mais severo dos cenários, os mais afetados serão os trabalhadores menos qualificados, que poderão ver o desemprego aumentar em 5,14 pontos percentuais; já o número de vagas qualificadas pode subir com a adoção massiva de inteligência artificial, em até 1,56 ponto percentual. “A inteligência artificial aumentará a desigualdade”, alertou Serigatti, que é professor de Economia da FGV.

A pesquisa analisou seis segmentos diferentes da economia: agricultura, pecuária, óleo e gás, mineração e extração, transporte e comércio e setor público (educação, saúde, defesa e administração pública). Os trabalhadores mais afetados no cenário mais agressivo são os mais qualificados dos setores de óleo e gás e de agricultura, dois dos principais pilares da economia brasileira. O primeiro tem redução nos empregos de 23,57%, e o segundo, de 21,55%.

(Bruno Romani, “Uso de inteligência artificial pode aumentar desemprego no Brasil, diz FGV”. <https://link.estadao.com.br>. Adaptado)

04. A leitura comparativa entre a charge de Duke e o texto do *Estadão* permite afirmar que

- (A) o recrudescimento do desemprego vivido no presente do país é uma realidade que tende a se estender pelos próximos anos.
- (B) a redução do desemprego é uma realidade remota que privilegiará eventualmente os trabalhadores menos qualificados.
- (C) a piora na economia continuará a tirar com mais vigor postos de trabalho, já que nenhuma projeção prevê crescimento econômico.
- (D) o cenário desolador do desemprego no Brasil será plenamente revertido em até 15 anos, graças ao crescimento econômico.
- (E) o desemprego tende a se manter estável nos próximos anos, já que existe uma projeção otimista de crescimento.

05. As informações textuais deixam evidente que

- (A) o melhor cenário para a economia brasileira é o mais agressivo, no qual não haverá impactos negativos com redução de postos de trabalhos.
- (B) a inteligência artificial aumentará a desigualdade social, principalmente em um cenário agressivo com projeção otimista de crescimento econômico.
- (C) a pesquisa mostra que o desemprego será o mesmo nos próximos 15 anos, independentemente da forma como a inteligência artificial seja adotada.
- (D) a adoção da inteligência artificial na economia poderá trazer desemprego, mas, paradoxalmente, trará crescimento financeiro à população em geral.
- (E) o impacto do desemprego gerado pela adoção da inteligência artificial é igual nos seis segmentos diferentes da economia, de acordo com a pesquisa da FGV.

06. Assinale a alternativa em que a informação apresentada é coerente com o exposto no texto.

- (A) A inteligência artificial, cuja responsabilidade é diminuir burocracias, automatizar processos e intensificar a eficiência, promete reduzir a falta de emprego no País em 4 pontos percentuais nos próximos 15 anos.
- (B) Para simular o efeito da adoção de IA na economia brasileira, a pesquisa estabeleceu três cenários: um deles é reacionário, no qual a taxa de crescimento da adoção de IA pelo mercado brasileiro é de 5%, durante 15 anos.
- (C) A pesquisa da FGV aponta que os trabalhadores mais privilegiados no cenário mais agressivo são os mais qualificados dos setores de óleo e gás e de agricultura, dois dos pilares menos influentes da economia brasileira.
- (D) No cenário intermediário, o número é de 10%, com crescimento inconstante. Já no mais ofensivo, em um mundo em que a economia tem projeção limitada de crescimento, a adoção de IA subiria 26% no período.
- (E) No mais rigoroso dos cenários, os mais afetados serão aqueles trabalhadores com menos qualificação, já o número de vagas qualificadas poderá subir com a adoção intensiva de inteligência artificial.

07. Assinale a alternativa em que a colocação pronominal atende à norma-padrão.

- (A) A pesquisa da FGV indica que se afetará o emprego dos trabalhadores no Brasil com a adoção da IA.
- (B) Se definiram três cenários na pesquisa, para simular o impacto da adoção de IA na economia brasileira.
- (C) Caso adote-se a IA em um cenário conservador, a economia crescerá menos do que o estimado.
- (D) Geralmente afetam-se os trabalhadores menos qualificados, no mais severo dos cenários de adoção da IA.
- (E) No cenário mais agressivo da adoção da IA, tem projetado-se aumento de desemprego de 3,87%.

08. Considere as passagens do texto:

- **Para** simular o impacto da adoção de IA na economia brasileira, a pesquisa estipulou três cenários... (2º parágrafo)
- No mais severo dos cenários, os mais afetados serão os trabalhadores menos qualificados, **que** poderão ver o desemprego aumentar em 5,14 pontos percentuais... (3º parágrafo)

Os termos destacados são responsáveis por articular os enunciados do texto, estabelecendo entre eles, respectivamente, relações de sentido de

- (A) consequência e causa.
- (B) finalidade e explicação.
- (C) finalidade e adição.
- (D) causa e explicação.
- (E) causa e consequência.

09. De acordo com a norma-padrão, o título do texto está corretamente reescrito e pontuado em:

- (A) No Brasil uso de inteligência artificial pode aumentar desemprego diz FGV.
- (B) Diz FGV, uso de inteligência artificial no Brasil pode aumentar desemprego.
- (C) “No Brasil, uso de inteligência artificial pode aumentar desemprego”, diz FGV.
- (D) “FGV diz” – uso no Brasil de inteligência artificial pode aumentar desemprego.
- (E) FGV diz que, uso de inteligência artificial pode aumentar desemprego no Brasil.

10. Assinale a alternativa em que a forma verbal destacada expressa sentido de projeção futura.

- (A) Os dados **são** de um estudo desenvolvido pelo professor Felipe Serigatti... (1º parágrafo)
- (B) ... os mais afetados **serão** os trabalhadores menos qualificados... (3º parágrafo)
- (C) O primeiro **tem** redução nos empregos de 23,57%... (4º parágrafo)
- (D) ... a pesquisa **estipulou** três cenários... (2º parágrafo)
- (E) ... alertou Serigatti, que **é** professor de Economia da FGV. (3º parágrafo)



(<http://chargeonline.com.br>)

11. As informações da charge permitem concluir que

- (A) o gênio é mais um na estatística do desemprego e, por isso, quer ajudar o homem.
- (B) o homem faz pedidos comuns e parecidos ao gênio, o que o deixa bem irritado.
- (C) a capacidade de realizar os pedidos existe, mas o gênio não quer atendê-los.
- (D) o gênio se declara incapaz de resolver a situação de desemprego, que também o afeta.
- (E) a imprecisão dos pedidos ao gênio faz com que ele desista de realizá-los.

12. Sem prejuízo à norma-padrão e ao sentido do texto, a frase do gênio está devidamente reescrita em:

- (A) E você acha que, ainda que eu possa arrumar todos esses empregos, eu estarei aqui fazendo bico de gênio?
- (B) E você acha que, caso eu pudesse arrumar todos esses empregos, eu estaria aqui fazendo bico de gênio?
- (C) E você acha que, como eu posso arrumar todos esses empregos, eu estarei aqui fazendo bico de gênio?
- (D) E você acha que, desde que eu posso arrumar todos esses empregos, eu estou aqui fazendo bico de gênio?
- (E) E você acha que, quando eu pude arrumar todos esses empregos, eu estaria aqui fazendo bico de gênio?

Leia o texto para responder às questões de números **13 a 20**.

Mais ócio, por favor

Quando o sociólogo italiano Domenico De Masi lançou o conceito de “ócio criativo”, em seu livro homônimo de 2000, foi alçado à condição de pensador revolucionário e à lista dos mais vendidos.

O sucesso se deveu à explicação do espírito daquele tempo, ao apontar que tão essencial ao crescimento profissional quanto o estudo e o trabalho eram os momentos de desconexão com a labuta que abririam as portas para a criatividade e para “pensar fora da caixinha”. A intenção era alcançar uma fusão entre estudo, trabalho e lazer para aprimorar o conhecimento, vivenciar diferentes experiências e instigar a criatividade.

Com o lançamento de “Uma Simples Revolução”, um best-seller, o sociólogo prega uma nova guinada no pensamento empresarial.

Ao analisar as taxas de desemprego e de desocupação, para De Masi, a única saída é reduzir a carga de trabalho individual e abrir novas vagas. “Se as regras do jogo não mudarem, o desemprego – aberto ou oculto – está destinado a crescer em dimensão patológica”, escreve.

O Brasil é um dos países que vivem essa realidade, com um desemprego de mais de 13 milhões de pessoas, segundo dados mais recentes do IBGE (Instituto Brasileiro de Geografia e Estatística). Mais de 5 milhões de pessoas procuram trabalho no país há um ano ou mais, o que representa quase 40% desse total.

A lógica do mercado não ajuda a melhorar esses números. As empresas tentam reduzir suas folhas de pagamento, mesmo que isso signifique mais horas extras.

Só que, de acordo com o sociólogo, quanto mais horas um indivíduo trabalha, mais ele contribui para a taxa de desocupação. “Na Alemanha, onde todos trabalham, em média, 1400 horas, o desemprego está em 3,8% e o emprego está em 79%. Já na Itália, onde um italiano trabalha em média 1800 horas, o desemprego está em 11% e o emprego está em 58%”, detalha.

“Para eliminar o desemprego, o único remédio válido é reduzir as horas de trabalho, mantendo o salário e aumentando o número de vagas”, diz, em entrevista ao UOL.

(Lúcia Valentim Rodrigues, “Mais ócio, por favor”.
<https://noticias.uol.com.br>. Adaptado)

13. As informações do texto, fundamentadas no pensamento de Domenico De Masi, evidenciam que

- (A) a saúde do sistema produtivo com garantia de empregabilidade depende da redução da carga de trabalho individual, o que garantiria a abertura de novas vagas.
- (B) a situação de emprego na Alemanha é melhor do que na Itália porque naquele país o trabalho está acima da média mundial, o que aumenta a produtividade.
- (C) o pensamento revolucionário sugere que as pessoas trabalhem mais horas diárias, mesmo em um cenário social marcado pelo desemprego.
- (D) o aumento de horas extras laborais elimina as possibilidades do ócio criativo, mas, por outro lado, é a chave para a criação de postos de trabalho.
- (E) o aumento do desemprego precisa ser combatido com redução da carga horária dos trabalhadores, acompanhada da diminuição de seus salários.

14. De acordo com Domenico De Masi, uma ação que tem efeito negativo no sistema produtivo das empresas é

- (A) a tentativa de fundir estudo, trabalho e lazer.
- (B) o aperfeiçoamento profissional por meio do ócio.
- (C) a busca pela redução das folhas de pagamento.
- (D) a alteração da lógica do mercado vigente.
- (E) a oferta de mais vagas de trabalhos para os cidadãos.

15. Considere as passagens:

- Quando o sociólogo italiano Domenico De Masi lançou o conceito de “ócio criativo” [...], foi **alçado** à condição de pensador revolucionário... (1º parágrafo)
- A intenção era alcançar uma fusão entre estudo, trabalho e lazer para aprimorar o conhecimento, vivenciar diferentes experiências e **instigar** a criatividade. (2º parágrafo)
- “Se as regras do jogo não mudarem, o desemprego – aberto ou oculto – está destinado a crescer em dimensão **patológica**”, escreve. (4º parágrafo)

No contexto em que estão empregados, os termos significam, correta e respectivamente:

- (A) rebaixado; promover; promissora.
- (B) conduzido; coibir; mórbida.
- (C) promovido; restringir; limitada.
- (D) assemelhado; induzir; esperançosa.
- (E) elevado; estimular; doentia.

16. Assinale a alternativa em que se transcreve uma passagem do texto na qual o termo destacado é empregado em sentido figurado.

- (A) ... mais ele contribui para a **taxa** de desocupação. (7º parágrafo)
- (B) ... o sociólogo prega uma nova guinada no pensamento **empresarial**. (3º parágrafo)
- (C) ... que abririam as **portas** para a criatividade ... (2º parágrafo)
- (D) As **empresas** tentam reduzir suas folhas de pagamento... (6º parágrafo)
- (E) O **sucesso** se deveu à explicação do espírito daquele tempo... (2º parágrafo)

17. Coube ____ Domenico De Masi ____ criação do conceito de ócio criativo, referindo-se ____ desconexão necessária com a labuta como caminho para se chegar ____ experiências criativas do ser humano.

Em conformidade com a norma-padrão, as lacunas do enunciado devem ser preenchidas, correta e respectivamente, com:

- (A) à ... à ... à ... as
- (B) a ... a ... à ... às
- (C) a ... à ... a ... a
- (D) à ... a ... à ... às
- (E) à ... a ... a ... à

18. De acordo com a norma-padrão, as passagens “os momentos de desconexão com a labuta que abririam as portas para a criatividade” (2º parágrafo), “para De Masi, a única saída é reduzir a carga de trabalho individual” (3º parágrafo) e “A lógica do mercado não ajuda a melhorar esses números.” (6º parágrafo) estão corretamente reescritas em:

- (A) os momentos de desconexão com a labuta seriam favoráveis às portas abertas para a criatividade / De Masi concorda com a redução da carga de trabalho individual / A lógica do mercado não colabora com a melhoria desses números.
- (B) os momentos de desconexão com a labuta seriam favoráveis de portas abertas para a criatividade / De Masi concorda pela redução da carga de trabalho individual / A lógica do mercado não colabora diante a melhoria nesses números.
- (C) os momentos de desconexão com a labuta seriam favoráveis para as portas abertas para a criatividade / De Masi concorda na redução da carga de trabalho individual / A lógica do mercado não colabora à melhoria desses números.
- (D) os momentos de desconexão com a labuta seriam favoráveis com as portas abertas para a criatividade / De Masi concorda com a redução da carga de trabalho individual / A lógica do mercado não colabora pela melhoria desses números.
- (E) os momentos de desconexão com a labuta seriam favoráveis em portas abertas para a criatividade / De Masi concorda da redução da carga de trabalho individual / A lógica do mercado não colabora na melhoria a esses números.

19. De acordo com a norma-padrão, a concordância nominal está plenamente atendida em:

- (A) De acordo com Domenico De Masi, é necessário a diminuição da taxa de desocupação.
- (B) No Brasil, há bastante pessoas que procuram emprego há um ano ou mais, segundo o IBGE.
- (C) Reduzindo a carga de trabalho para 1400 horas, o Brasil estaria quites em relação aos números internacionais.
- (D) Os altos índices de desemprego e a falta de novas vagas criam um clima social de desalento.
- (E) A situação do Brasil está meia complicada, com o desemprego de 13 milhões de pessoas.

20. Sem prejuízo de sentido ao texto, o trecho – As empresas tentam reduzir suas folhas de pagamento, mesmo que isso signifique mais horas extras. (5º parágrafo) – está corretamente reescrito em:

- (A) As empresas tentam reduzir suas folhas de pagamento, quando isso significa mais horas extras.
- (B) As empresas tentam reduzir suas folhas de pagamento, tanto que isso significa mais horas extras.
- (C) As empresas tentam reduzir suas folhas de pagamento, apesar de isso significar mais horas extras.
- (D) As empresas tentam reduzir suas folhas de pagamento, porque isso significa mais horas extras.
- (E) As empresas tentam reduzir suas folhas de pagamento, se isso significar mais horas extras.

21. Em determinado período de tempo, na conta corrente de Carlos, ocorreram apenas 3 saques e 2 depósitos, sendo os saques de R\$ 120,00; R\$ 375,00 e R\$ 420,00, e os depósitos de R\$ 500,00 e R\$ 650,00. Se, após essas movimentações, o saldo da conta corrente de Carlos ficou negativo em R\$ 213,00, o saldo, antes dessas movimentações, era
- (A) negativo de R\$ 122,00.
 - (B) negativo de R\$ 22,00.
 - (C) positivo de R\$ 122,00.
 - (D) positivo de R\$ 22,00.
 - (E) negativo de R\$ 448,00.
22. Do último salário que recebeu, no valor líquido de R\$ 2.748,00, Ana utilizou $\frac{2}{3}$ com os pagamentos das obrigações mensais, e metade do que sobrou ela depositou em uma aplicação que tem. Sabendo que uma das obrigações mensais que Ana pagou foi a conta de energia elétrica, que correspondeu a $\frac{1}{4}$ do valor que ela depositou na aplicação, o valor dessa conta de energia foi de
- (A) R\$ 132,00.
 - (B) R\$ 149,25.
 - (C) R\$ 121,75.
 - (D) R\$ 114,50.
 - (E) R\$ 107,25.
23. No dia 28.11.2017, o site da Fundação Nacional da Saúde, do Ministério da Saúde, publicou a fala do então ministro daquela pasta em um congresso internacional. De acordo com essa fala, pode-se concluir que, a cada R\$ 50,00 investidos em saneamento, R\$ 450,00 são economizados em saúde. Considerando-se essa informação, para uma economia de R\$ 2,88 milhões em saúde, é necessário um investimento em saneamento de
- (A) R\$ 310.000,00.
 - (B) R\$ 320.000,00.
 - (C) R\$ 290.000,00.
 - (D) R\$ 300.000,00.
 - (E) R\$ 330.000,00.

24. Em um cofre, há o total de R\$ 21,00, apenas em moedas de R\$ 0,50, R\$ 0,25 e R\$ 0,10. Se o número de moedas de R\$ 0,50 é 4 unidades maior que o dobro do número de moedas de R\$ 0,10, e o número de moedas de R\$ 0,25 é 5 unidades menor que o número de moedas de R\$ 0,10, então o valor em moedas de R\$ 0,50 contidas nesse cofre é
- (A) R\$ 17,00.
(B) R\$ 16,00.
(C) R\$ 17,50.
(D) R\$ 15,50.
(E) R\$ 16,50.
25. Marcelo e Débora trabalham em regime de escala. A cada 4 dias sucessivamente trabalhados, Débora folga somente no dia seguinte, e a cada 6 dias sucessivamente trabalhados, Marcelo também folga somente no dia seguinte. No dia 26.07.2019, ambos estavam de folga. Sabendo que o mês de julho tem 31 dias, e que Marcelo e Débora trabalham independentemente de os dias serem sábados, domingos e feriados, se não ocorrer imprevisto e eles trabalharem conforme informado, então o próximo dia em que ambos estarão de folga, em um mesmo dia, será em
- (A) 13.08.2019.
(B) 24.08.2019.
(C) 30.08.2019.
(D) 19.08.2019.
(E) 07.08.2019.
26. A razão entre o número de mulheres e o número de homens convocados para a segunda fase de um concurso é $\frac{3}{5}$. No dia da segunda fase, 4 mulheres e 10 homens não compareceram e, no total, 362 candidatos realizaram essa fase. Dessa forma, o número de mulheres que realizaram a segunda fase do concurso foi
- (A) 140.
(B) 143.
(C) 131.
(D) 134.
(E) 137.

27. Dados da Polícia Militar do Estado de São Paulo, publicados no *site* que ela mantém, indicam que o número médio, por hora, de ocorrências atendidas no mês de março de 2019 foi 216. Sabendo que esse número é 12,5% maior que o número registrado no mês imediatamente anterior, é correto afirmar que a diferença entre os números médios, por hora, de ocorrências atendidas nos meses de março e de fevereiro de 2019 é
- (A) 24.
(B) 25.
(C) 28.
(D) 26.
(E) 27.
28. Hoje, a média aritmética simples das idades de 15 amigos é de 45 anos. Excluindo-se a menor e a maior idades das pessoas desse grupo, a média aritmética simples das demais idades é de 44 anos. Se a diferença entre essa maior e essa menor idades é 19 anos, então a menor idade é igual a
- (A) 39 anos.
(B) 43 anos.
(C) 40 anos.
(D) 42 anos.
(E) 41 anos.
29. Para determinado evento, foram colocados à venda, no total, 1 500 ingressos, que foram todos comprados. Cada ingresso normal foi vendido a R\$ 150,00, cada ingresso de meia-entrada foi vendido a R\$ 75,00, e, ainda, foram vendidos ingressos a preço promocional de R\$ 100,00 cada, totalizando R\$ 185.000,00. Se o número de ingressos de meia-entrada foi o dobro do número de ingressos vendidos a preço promocional, o número de ingressos normais vendidos foi
- (A) 900.
(B) 850.
(C) 950.
(D) 750.
(E) 800.
30. A respeito de um terreno retangular, sabe-se que seu perímetro é 64 metros e que a diferença entre as medidas do maior e do menor lados é 2 metros. Sendo assim, a área desse terreno, em metros quadrados, é
- (A) 1 155.
(B) 255.
(C) 195.
(D) 1 023.
(E) 224.

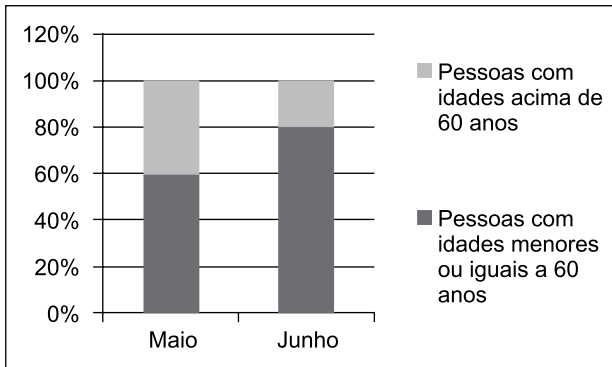
31. A tabela a seguir apresenta informações sobre a composição do quadro de cabos e sargentos em um batalhão.

	Cabos	Sargentos
Homens	65%	70%
Mulheres	35%	30%

Com base apenas nas informações apresentadas na tabela, assinale a alternativa que contém informação necessariamente verdadeira sobre os cabos e sargentos desse batalhão.

- (A) O número de homens com patente de cabo é menor que o de homens com patente de sargento.
- (B) O número de mulheres com patente de cabo é metade do de homens com patente de sargento.
- (C) O número de homens com patentes de cabo ou sargento é maior que o de mulheres com patentes de cabo ou sargento.
- (D) O número de homens com patentes de cabo ou sargento é menor que o de mulheres com patentes de cabo ou sargento.
- (E) O número de homens com patente de cabo é maior que o de homens com patente de sargento.
32. Cláudio, Alice, José e Elen são quatro amigos com alturas distintas. Colocados em uma fila indiana ordenada pela altura, José está entre Cláudio e Alice, e Cláudio está entre Alice e Elen. Sendo assim, é verdade que
- (A) Elen está entre José e Alice.
- (B) José está entre Alice e Elen.
- (C) José é mais baixo que Cláudio e mais alto que Elen.
- (D) Alice está entre José e Cláudio.
- (E) Cláudio é mais baixo que José e mais alto que Alice.

33. O gráfico apresenta informações associadas ao atendimento de pessoas em determinada repartição pública, nos meses de maio e de junho de 2019.



Sabendo que o número de pessoas atendidas em maio foi $\frac{3}{4}$ do número de pessoas atendidas em junho, o número

de pessoas atendidas com idades acima de 60 anos no mês de junho corresponde, do número de pessoas atendidas com idades acima de 60 anos no mês de maio, a

- (A) $\frac{3}{4}$
- (B) $\frac{5}{6}$
- (C) $\frac{1}{5}$
- (D) $\frac{1}{2}$
- (E) $\frac{2}{3}$
34. Considere S a superfície plana do tampo de uma mesa retangular M . Se, na fabricação de uma nova mesa, aumentarmos em $\frac{1}{4}$ as medidas da largura e do comprimento da mesa M , a superfície plana da nova mesa corresponderá, de S , a

- (A) $\frac{3}{2}$
- (B) $\frac{15}{8}$
- (C) $\frac{25}{16}$
- (D) $\frac{19}{16}$
- (E) $\frac{11}{8}$

HISTÓRIA GERAL

35. Uma das metas mais importantes do tratado era [...] controlar a Alemanha (segundo uma expressão usada naquela época), isto é, destruir sua força militar no presente e no futuro. [...] ficou decidido que o exército alemão ficaria limitado a 100 mil homens, recrutados com base em um compromisso voluntário de doze anos para os soldados e suboficiais.

(Jean-Jacques Becker. *O Tratado de Versalhes*, 2011)

O Tratado de Versalhes, assinado após a Primeira Guerra Mundial, contribuiu para

- (A) a emergência de relações estáveis, baseadas nos princípios de reciprocidade, entre as potências industrializadas europeias.
- (B) a adoção de planos internacionais de ajuda financeira aos países economicamente destruídos pelo conflito bélico.
- (C) o desenvolvimento duradouro da economia internacional como resultado da redução de gastos públicos com equipamentos militares.
- (D) o fortalecimento de ideologias antidemocráticas habilmente exploradas por partidos políticos nacionalistas.
- (E) a constituição, pelas nações asiáticas e europeias derrotadas na guerra, de um bloco militar contrário ao imperialismo na África e na Ásia.

36. Até finais dos anos sessenta, o enfrentamento com o comunismo definiu a política exterior. [...] houve períodos de grande tensão internacional [...]. O êxito soviético ao lançar o satélite não tripulado, Sputnik, em outubro de 1957, demonstrava aparentemente a superioridade dos soviéticos tanto em tecnologia espacial como na capacidade para atacar o hemisfério ocidental por meio de mísseis orbitais.

(Philip Jenkins. *Breve história dos Estados Unidos*, 2017.)

Pode-se acrescentar às condições das relações internacionais referidas pelo texto

- (A) o aumento constante do arsenal nuclear nas potências rivais.
- (B) o acordo entre potências favorável à manutenção da democracia em escala global.
- (C) o emprego de armas convencionais no confronto direto entre as potências.
- (D) a ausência de movimentos sociais nas áreas controladas pelas potências.
- (E) a reduzida influência política das potências nos países do Terceiro Mundo.

37. Observe o cartaz.



(http://66.media.tumblr.com/tumblr_lo2s1wbuiV1qjrdq3o1_400.jpg)

Considerando a imagem e conhecimentos sobre a história do Brasil republicano, é correto afirmar que o cartaz trata de

- (A) um apelo à sociedade para sua mobilização em benefício das populações mais carentes do país.
 - (B) uma arma de mobilização do operariado das grandes cidades contrário às reformas sociais de governos populistas.
 - (C) uma convocação de reservistas para o alistamento militar no auge da Guerra Mundial.
 - (D) uma denúncia das intenções antidemocráticas de alguns setores das forças armadas brasileiras.
 - (E) um chamado à participação efetiva da população na resistência militar a um governo federal centralizador.
38. Ao receberem menos dinheiro por suas vendas ao exterior, os exportadores e produtores ligados à exportação reduzem suas compras. Os produtores internos afetados por essa redução também reduzem as suas, e assim por diante.

(Celso Furtado. *Formação econômica do Brasil*, 1989)

O autor refere-se aos desdobramentos da queda no preço e no volume da exportação do café brasileiro decorrente da Crise de 1929. Tendo em vista o cenário econômico descrito pelo texto, o governo Getúlio Vargas decidiu, entre 1931 e 1939,

- (A) equilibrar a oferta e a procura do produto, comprando e destruindo os excedentes das colheitas.
- (B) substituir os latifúndios cafeeiros por pequenas propriedades, desapropriando terras e concedendo incentivos fiscais a agricultores.
- (C) limitar a venda do produto ao mercado interno, considerando os prejuízos que a exportação de café causava ao país.
- (D) adquirir empréstimos no exterior, visando à manutenção da política de valorização do preço do café.
- (E) extinguir em curto prazo a dependência do país à economia cafeeira, abandonando os empresários do setor.

39. Em 18 de setembro de 1946 foi promulgada a quinta Constituição brasileira, a quarta republicana. Com 218 artigos, manteve a denominação Estados Unidos do Brasil. O Congresso foi dividido em duas casas. O mandato do Presidente da República foi estabelecido em cinco anos. A eleição do Presidente e Vice seria simultânea, ou seja, não formariam uma chapa, seriam escolhidos separadamente pelo eleitor.

(Marco Antonio Villa. *A história das Constituições brasileiras*, 2011)

A experiência política brasileira derivada da Constituição citada pode ser exemplificada pela

- (A) censura regular às manifestações de industriais que se opunham aos governos federal e estaduais.
- (B) mudança, no governo federal, de um candidato eleito por um partido conservador para um político ligado a sindicatos de trabalhadores.
- (C) alternância no poder central de políticos apoiados pelos governadores do conjunto dos estados da Federação.
- (D) predominância eleitoral de partidos políticos representantes das classes de assalariados rurais.
- (E) concentração das decisões políticas no poder executivo em prejuízo dos poderes legislativos e judiciários.

40. *Brasil Eu Fico.*

Minas Gerais, uai, uai
São Paulo, sai da frente!
Guanabara, como é que é?
Bahia, oxente!
E os meus irmãozinhos lá do norte?

Este é o meu Brasil
Cheio de riquezas mil
Este é o meu Brasil
Futuro e progresso do ano 2000
Quem não gostar e for do contra
Que vá prá...
[...]

(<https://www.lettras.mus.br/wilson-simonal/1803895/brasil-eu-fico-print.html>)

A canção foi composta por Jorge Ben e gravada pelo cantor Wilson Simonal em dezembro de 1970. A música expressava

- (A) a oposição dos artistas ao regime militar, expressa em uma linguagem de fácil entendimento popular.
- (B) a conjuntura histórica de agitações sociais, derivada da crise do milagre econômico patrocinado pelo Estado.
- (C) a oposição à falsa liberdade democrática do momento, propagandeada pelos slogans governamentais.
- (D) a ideologia do desenvolvimentismo econômico do governo, mesclada de um otimismo nacionalista.
- (E) a visão de uma nação com graves desigualdades regionais, caracterizada pelo crescimento desigual da economia.

41. Analise o mapa para responder à questão.



(<https://www.marsh.com/ca/en/campaigns/political-risk-map-2019.html?utm>. Acesso em 15.05.2019. Adaptado)

A leitura do mapa e os conhecimentos sobre o contexto geopolítico e geoeconômico mundial permitem afirmar que as áreas em destaque no mapa

- (A) apresentam grande participação no comércio mundial.
 - (B) devem reduzir a produção de *commodities* minerais.
 - (C) estão sujeitas a fortes tensões geopolíticas.
 - (D) têm possibilidades de se tornarem economias emergentes.
 - (E) associaram-se em novos blocos econômicos.
42. Cerca de 12 milhões de hectares de florestas tropicais desapareceram em 2018, o equivalente a 30 campos de futebol por minuto. Os dados de 2018 são do *Global Forest Watch*, atualizado pela Universidade de Maryland, nos Estados Unidos. O levantamento mostra o complexo retrato do desmatamento em áreas com densas florestas tropicais.

(<https://www.bbc.com/portuguese/geral-48046107>. Acesso em 13.05.2109. Adaptado)

Além da Amazônia, a campeã em desmatamento, outra área de forte desmatamento é

- (A) a Ásia central, devido à instalação de novos centros urbanos e da produção petrolífera.
- (B) a África Central, devido à expansão da agropecuária e da produção de carvão vegetal.
- (C) o sul da Ásia, devido ao aumento da exploração mineral e da implantação de usinas hidrelétricas.
- (D) a Índia, devido à implantação de indústrias de papel e celulose e dos incêndios naturais.
- (E) o norte da África, devido à criação de reservatórios e da expansão da pecuária intensiva.

43. Analise o mapa.

Brasil – Áreas ocupadas com a unidade de relevo X.



(Jurandyr Ross. *Geografia do Brasil*. Adaptado)

No mapa, estão em destaque as áreas de

- (A) depressões, superfícies erodidas que se apresentam com altitudes mais baixas que as áreas vizinhas.
- (B) planaltos, tipos de relevo que se caracterizam pela pequena variação de altitudes.
- (C) planícies, superfícies planas que foram formadas por intensos processos de sedimentação.
- (D) planícies, tipos de formação rochosa que sofrem grande desgaste de agentes como chuvas e vento.
- (E) planaltos, formas de relevo ondulado que têm origem a partir de longos processos de erosão.

44. Analise a tabela a seguir.

Brasil – Taxa de natalidade (%)

1980	1991	2000	2010	2018
31,2	23,3	20,8	15,8	14,4

(<https://brasilemsintese.ibge.gov.br/populacao/taxas-brutas-de-natalidade.html>. Acesso em 15.05.2019)

A leitura da tabela e os conhecimentos sobre o contexto socioeconômico brasileiro permitem afirmar que

- (A) a evolução da taxa de natalidade nas últimas décadas se refletiu na estrutura da população brasileira.
- (B) a taxa de natalidade é um dado demográfico que mostra a homogeneidade da população brasileira.
- (C) a redução da taxa de natalidade indica que o país deverá passar por uma transição demográfica.
- (D) o recuo da taxa de natalidade demonstra que o Brasil caminha para se tornar um país emergente.
- (E) a queda da taxa de natalidade está relacionada à redução dos movimentos internos da população.

45. Para superar os Estados Unidos e se tornar o principal produtor do mundo, o Brasil expandiu por anos as lavouras destinadas ao produto. Só entre 2000 e 2014, a área destinada a plantar essa *commodity* no interior do País – em estados como Tocantins, Bahia, Piauí e Maranhão – cresceu 87%. Boa parte dela abrigava vegetação nativa, originalmente.

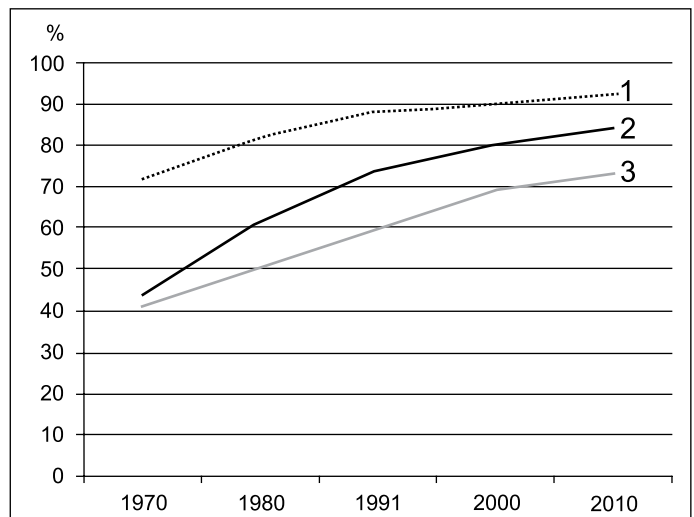
(<https://super.abril.com.br/tecnologia/o-avanco-mapeado-pela-nasa/> Acesso em 18.05.2019. Adaptado)

O texto descreve a expansão da produção

- (A) do cacau pela floresta amazônica.
- (B) do milho pela caatinga.
- (C) do café pela mata atlântica.
- (D) da soja pelo cerrado.
- (E) da cana de açúcar pela mata atlântica.

46. Observe o gráfico para responder à questão.

Urbanização de três regiões brasileiras – 1970-2010 (em %)



(IBGE)

A leitura do gráfico e os conhecimentos sobre a urbanização brasileira permitem afirmar que a região

- (A) 2 (Nordeste) apresentou rápida urbanização a partir dos anos de 1980 devido à industrialização das grandes cidades, promovida pela Sudene.
- (B) 3 (Sul) apresentou uma urbanização mais lenta porque desde sua ocupação sempre teve sua economia baseada em atividades agropecuárias.
- (C) 1 (Sudeste) apresentou uma expressiva urbanização devido a fatores como a industrialização e a atração de migrantes de outras regiões brasileiras.
- (D) 1 (Centro-Oeste) teve a urbanização acelerada devido à construção de Brasília e a partir dos anos 2000, à expansão da agroindústria.
- (E) 2 (Norte) teve a urbanização fortemente atrelada aos grandes projetos de exploração mineral implantados em vários estados nortistas.

47. O saldo da balança comercial em 2018 foi de US\$ 58,3 bilhões. Em 02 de janeiro de 2019, de acordo com o Ministério da Economia, esse é o “segundo melhor desempenho do comércio externo registrado desde 1989”. O saldo contabiliza a diferença entre as exportações e as importações.

(Agência Brasil. <https://bit.ly/30wCP53>. Acesso em 17.06.2019. Adaptado)

A respeito do comércio externo brasileiro, pode-se afirmar que

- (A) mais da metade dos produtos exportados durante o ano são bens manufaturados.
- (B) as exportações de ferro apresentaram forte redução na quantidade e no preço.
- (C) a China, a União Europeia e os Estados Unidos são os principais compradores.
- (D) o Brasil figurou entre os três maiores exportadores do mundo, superando a Alemanha.
- (E) o Brasil abandonou as trocas comerciais com os países vizinhos sul-americanos.

48. “Deixei claro [para Mike Pompeo, Secretário de Estado norte-americano] mais uma vez que nos preocupam os eventos recentes e as tensões na região, que não queremos uma escalada militar”, disse o ministro de Relações Exteriores alemão após o encontro com o representante americano.

Em 14 de maio, os representantes europeus expressaram preocupação sobre uma escalada da tensão entre os dois países e advertiram o secretário de Estado americano sobre o risco de um conflito “por acidente” no Golfo.


(G1-Globo. <https://glo.bo/2Vp5fKi>. Acesso em 17.06.2019. Adaptado)

A notícia envolve a tensão entre

- (A) a Colômbia e a Venezuela.
- (B) o Estado de Israel e a Palestina.
- (C) a Rússia e a Síria.
- (D) a Arábia Saudita e o Iraque.
- (E) os Estados Unidos e o Irã.

49. Considere um computador com o Microsoft Windows 10, em sua configuração original, sem nenhuma janela aberta. Como primeira ação, o usuário abre o WordPad e maximiza a janela. Em seguida abre o Bloco de Notas e maximiza a janela.

Assinale a alternativa que indica qual(is) janela(s) aparecerá(ão) na tela do computador quando o usuário clicar no botão indicado na imagem a seguir, na janela do Bloco de Notas, exibida parcialmente.



- (A) O Wordpad.
- (B) As opções do Menu Iniciar.
- (C) A Área de Trabalho.
- (D) O Wordpad e o Bloco de Notas lado a lado.
- (E) O Bloco de Notas.

50. Considerando o Microsoft Word 2010, em sua configuração padrão, assinale a alternativa que apresenta um trecho de um documento com as marcas de parágrafo ativadas.

- (A)
 - Poder Executivo
 - Presidente
 - Poder Legislativo
 - Presidente da Câmara
 - Poder Judiciário
 - Ministros

(B)

Projeto	Responsável
Automação de rotinas	João Pedro
Otimização de processos	Ricardo Augusto

(C) O projeto apresenta um atraso **considerável** por conta de sucessivas **falhas** na identificação dos requisitos.

(D) **Dicas-para-apresentação:**

- ➔ Considerar a expectativa da audiência
- ➔ Respeitar o tempo reservado

- (E)
 - Presidente
 - Vice-Presidente
 - Diretores
 - Gerentes
 - Supervisores

Considere a seguinte planilha criada no Microsoft Excel 2010, em sua configuração padrão para responder as questões de números **51** e **52**.

	A	B	C	D
1	Data	Incidente	Status	
2	02/mai	55	ENCERRADO	
3	02/mai	77	EM ABERTO	
4	03/mai	129	ENCERRADO	
5	03/mai	192	ENCERRADO	
6	03/mai	268	EM ABERTO	
7	08/mai	364	EM ABERTO	
8	09/mai	394	ENCERRADO	
9	10/mai	433	ENCERRADO	
10	10/mai	519	EM ABERTO	
11				
12				
13		ENCERRADO		
14				

51. Assinale a alternativa com a fórmula a ser inserida na célula C13 para contar a quantidade de vezes em que aparece a palavra ENCERRADO no intervalo entre C2 e C10.

- (A) =CONT(C2:C10;B13)
- (B) =CONT.SE(C2:C10;B13)
- (C) =CONT.SE(C2:C10)
- (D) =CONT.ENCERRADOS(C2:C10)
- (E) =CONT.CASOS(C2:C10;B13)

52. Assinale a alternativa que indica qual conteúdo será apagado se o usuário der um clique simples com o botão principal do mouse sobre o local destacado a seguir, e pressionar a tecla DEL.

	A	B	C	D
1	Data	Incidente	Status	
2	02/mai	55	ENCERRADO	
3	02/mai	77	EM ABERTO	
4	03/mai	129	ENCERRADO	

- (A) Todas as células que não contêm fórmulas, apenas.
- (B) Todas as células que contêm fórmulas, apenas.
- (C) A planilha inteira.
- (D) A coluna A inteira, apenas.
- (E) A linha 1 inteira, apenas.

53. No Microsoft PowerPoint 2010, em sua configuração original, um usuário está em modo de apresentação, exibindo o segundo slide, em uma apresentação de 10 slides, sem nenhum slide oculto, tampouco animações, transições, ou botões de ação.

Assinale a alternativa que indica a(s) tecla(s) que deve(m) ser pressionada(s) para finalizar a apresentação.

- (A) ESC
- (B) SHIFT+F5
- (C) HOME
- (D) F5
- (E) END

54. No Microsoft Outlook 2010, em sua configuração padrão, tem-se os dados de uma mensagem que foi enviada.

De: Antonio
Para: Andrea
Cc: Rodrigo
Cco: Fernando

Ao receber a mensagem, Rodrigo clicou no botão Encaminhar. Assinale a alternativa que indica a quantidade de destinatários que o aplicativo automaticamente preenche na nova mensagem que será preparada.

- (A) 3
- (B) 1
- (C) 2
- (D) 0
- (E) 4

NOÇÕES DE ADMINISTRAÇÃO PÚBLICA

55. É direito fundamental do cidadão brasileiro e dos estrangeiros residentes no Brasil:
- (A) a expressão da atividade intelectual, artística, científica e de comunicação, mediante obtenção de licença específica.
 - (B) a livre manifestação do pensamento, sendo assegurado o anonimato.
 - (C) reunir-se pacificamente, com armas, em locais abertos ao público, independentemente de autorização.
 - (D) o acesso à informação e assegurada a transparência quanto à fonte, quando necessário ao desagravo do ofendido.
 - (E) nos termos da lei, a prestação de assistência religiosa nas entidades civis e militares de internação coletiva.
56. A respeito dos direitos políticos do militar, assinale a alternativa correta.
- (A) O militar é alistável mas é inelegível, salvo se tiver mais de vinte anos de serviço.
 - (B) O militar, se eleito, passará automaticamente para o trabalho interno.
 - (C) O militar alistável é elegível, devendo afastar-se da atividade se contar com menos de dez anos de serviço.
 - (D) O militar alistável é inelegível, quando afastar-se da atividade antes da eleição.
 - (E) O militar é inalistável e inelegível.
57. A Administração Pública no Brasil orienta-se segundo a seguinte regra:
- (A) obediência aos princípios de legalidade, pessoalidade, moralidade, publicidade e eficiência.
 - (B) os vencimentos dos cargos do Poder Judiciário poderão ser superiores aos pagos pelo Poder Executivo.
 - (C) é vedada a greve de servidores públicos civis e militares.
 - (D) é garantido ao servidor público civil o direito à livre associação sindical.
 - (E) é vedada a contratação por tempo determinado para atender à necessidade temporária de serviço.
58. Sobre o tratamento da segurança pública na Constituição, é correto afirmar que
- (A) às polícias civis, dirigidas por delegados de polícia de carreira, incumbem a apuração de infrações penais, inclusive as militares.
 - (B) aos corpos de bombeiros militares, além das atribuições definidas em lei, incumbe a execução de atividades de defesa civil.
 - (C) às polícias militares cabem a apuração de infrações penais em geral.
 - (D) a segurança pública é dever da família, direito e responsabilidade de todos os servidores públicos.
 - (E) as polícias civis são forças auxiliares e reserva do Exército.
59. É correto afirmar sobre a Justiça Militar, no Estado de São Paulo, que
- (A) o Tribunal de Justiça Militar do Estado compor-se-á de onze juízes.
 - (B) os serviços de correição permanente sobre as atividades do presídio militar serão realizados diretamente pelo Tribunal Militar.
 - (C) compete aos juízes de direito do juízo militar processar e julgar, colegiadamente, os crimes militares cometidos contra civis.
 - (D) compete a ela processar e julgar os militares do Estado nos crimes sujeitos ao Tribunal do Júri quando a vítima for civil.
 - (E) será constituída, em primeiro grau, pelos juízes de Direito e pelos Conselhos de Justiça e, em segundo grau, pelo Tribunal de Justiça Militar.
60. Conforme a Constituição do Estado de São Paulo, a Polícia Militar
- (A) é órgão permanente ao qual incumbem, além das atribuições definidas em lei, a polícia ostensiva e a preservação da ordem pública.
 - (B) é integrante permanente das forças armadas nacionais, devendo submissão ao Comandante Geral das forças armadas, ou seja, ao Presidente da República.
 - (C) terá o seu Comandante Geral nomeado pelo Comandante Geral do Exército Brasileiro dentre oficiais da ativa.
 - (D) terá a sua organização, o seu funcionamento, os direitos, os deveres, as vantagens e o regime de trabalho de seus integrantes definidos por lei federal complementar.
 - (E) é integrada pelo Instituto de Criminalística e pelo Instituto Médico Legal.

REDAÇÃO

TEXTO 01

Pela primeira vez, a população deve consumir mais conteúdo midiático na internet do que pela TV, de acordo com relatório da agência de mídia Zenith. Conforme a previsão, já em 2019 as pessoas devem passar mais horas navegando pela internet, fazendo compras, assistindo a filmes, séries e vídeos, conversando ou ouvindo música, do que assistindo à televisão.

(“Internet irá ultrapassar TV já em 2019, indica relatório”, 18.06.2018. <https://epocanegocios.globo.com>. Adaptado)

TEXTO 02

De acordo com estudo divulgado pela empresa Morrison Foster, as pessoas passam, em média, sete horas por dia nas redes sociais. E é exatamente esse o local ocupado pelos influenciadores, que também estão conectados e produzindo conteúdos para seus seguidores a todo tempo. Segundo uma outra pesquisa, publicada pela Sprout Social, 74% dos consumidores guiam suas decisões de compra com base nas redes sociais. Ou seja, o público está atento às opiniões da internet e, principalmente, aos depoimentos de canais influentes e de credibilidade.

(“A contribuição dos influenciadores digitais para a decisão de compra”. 02.02.2018. <https://franpress.com.br>. Adaptado)

TEXTO 03

Nos últimos 10 anos, o tempo médio de consumo domiciliar de televisão passou de 8h18 para 9h17. Um crescimento de 12%. Vale ressaltar que esse foi um período de forte ascensão da internet como plataforma de distribuição de conteúdo. Os conteúdos da TV, além de entreter e informar, também exercem um papel importante na dinâmica social. Eles influenciam a pauta de conversas tanto com material que gera engajamento entre os telespectadores, como com publicidades criativas. O levantamento da Kantar IBOPE Media aponta que 51% das pessoas acham que a propaganda na TV é interessante e proporciona assunto para conversar. E, entre os que acessam a internet enquanto veem TV, 23% comentam nas redes sociais o que assistem – mostrando que a televisão segue marcando presença no dia a dia do brasileiro.

(João Paulo Reis. “Televisão: a abrangência e a influência do meio mais presente na vida dos brasileiros”, 24.12.2018. <https://observatoriodatelevisao.bol.uol.com.br>. Adaptado)

Com base nas informações dos textos e em seus próprios conhecimentos, escreva um texto dissertativo, de acordo com a norma-padrão da língua portuguesa, sobre o tema:

A POPULARIZAÇÃO DA INTERNET AMEAÇA O PODER DE INFLUÊNCIA DA TELEVISÃO?



POLÍCIA MILITAR DO ESTADO DE SÃO PAULO
DIRETORIA DE PESSOAL

28.07.2019

Concurso Público

001. PROVA OBJETIVA – PARTE I

Soldado PM de 2ª Classe

VERSÃO 4

1 - C	2 - E	3 - D	4 - A	5 - B	6 - E	7 - A	8 - B	9 - C	10 - B
11 - D	12 - B	13 - A	14 - C	15 - E	16 - C	17 - B	18 - A	19 - D	20 - C
21 - E	22 - D	23 - B	24 - A	25 - C	26 - E	27 - A	28 - D	29 - A	30 - B
31 - C	32 - B	33 - E	34 - C	35 - D	36 - A	37 - E	38 - A	39 - B	40 - D
41 - C	42 - B	43 - E	44 - A	45 - D	46 - C	47 - C	48 - E	49 - A	50 - D
51 - B	52 - C	53 - A	54 - D	55 - E	56 - C	57 - D	58 - B	59 - E	60 - A