

# Inglês



## ESTADO DE ALAGOAS SECRETARIA DE ESTADO DA GESTÃO PÚBLICA



## CONCURSO PÚBLICO



## CARGO 1:

## OFICIAL COMBATENTE

## TURNO: TARDE



## CADERNO DE PROVA OBJETIVA E DISCURSIVA

### LEIA COM ATENÇÃO AS INSTRUÇÕES ABAIXO.

- 1 Ao receber este caderno de provas, confira inicialmente se os seus dados pessoais, transcritos acima, estão corretos e coincidem com o que está registrado na sua folha de respostas e na sua folha de texto definitivo da prova discursiva. Confira, também, o seu nome em cada página numerada do seu caderno de provas. Em seguida, verifique se ele contém a quantidade de questões indicada em sua folha de respostas, correspondentes às provas objetivas, e a prova discursiva, acompanhada de espaço para rascunho. Caso o caderno esteja incompleto, tenha qualquer defeito ou apresente discordância quanto aos seus dados pessoais, solicite ao fiscal de sala mais próximo que tome as providências cabíveis, pois não serão aceitas reclamações posteriores nesse sentido.
- 2 Quando autorizado pelo chefe de sala, no momento da identificação, escreva no espaço apropriado da sua folha de respostas, com a sua caligrafia usual, a seguinte frase:  
*Onde há serenidade e justiça reina a paz.*  
Conforme previsto em edital, o descumprimento dessa instrução implicará a anulação das suas provas e a sua eliminação do concurso.
- 3 Não se comunique com outros candidatos nem se levante sem autorização de fiscal de sala.
- 4 Não serão distribuídas folhas suplementares para rascunho nem para texto definitivo da prova discursiva.
- 5 Na duração das provas, está incluído o tempo destinado à identificação — que será feita no decorrer das provas —, ao preenchimento da folha de respostas e à transcrição do texto da prova discursiva para a respectiva folha de texto definitivo.
- 6 Ao terminar as provas, chame o fiscal de sala mais próximo, devolva-lhe a sua folha de respostas e a sua folha de texto definitivo da prova discursiva e deixe o local de provas.
- 7 A desobediência a qualquer uma das determinações constantes em edital, no presente caderno, na folha de respostas ou na folha de texto definitivo da prova discursiva poderá implicar a anulação das suas provas.

### OBSERVAÇÕES

Não serão conhecidos recursos em desacordo com o estabelecido em edital. É permitida a reprodução deste material apenas para fins didáticos, desde que citada a fonte.

### INFORMAÇÕES ADICIONAIS

0(XX) 61 3448-0100  
www.cespe.unb.br  
sac@cespe.unb.br

- Nas questões a seguir, marque, para cada uma, a única opção correta, de acordo com o respectivo comando. Para as devidas marcações, use a **folha de respostas**, único documento válido para a correção das suas respostas.
- Na **folha de respostas**, marque as respostas relativas às questões de **8 a 10**, que são de **língua estrangeira**, de acordo com a sua opção.
- Nas questões que avaliam **noções de informática**, a menos que seja explicitamente informado o contrário, considere que todos os programas mencionados estão em configuração-padrão, em português, e que não há restrições de proteção, de funcionamento e de uso em relação aos programas, arquivos, diretórios, recursos e equipamentos mencionados.

## PROVA OBJETIVA

### Texto para as questões 1 e 2

1 Em São Paulo, o uso da inteligência policial e a aplicação de uma *regra de ouro*, segundo a qual policiais e peritos devem analisar a cena do crime em até 48 horas, provocaram a redução drástica de assassinatos. Há poucos anos, o Rio de Janeiro trilhou alguns dos passos paulistas e obteve uma queda de cerca de 50% em sua taxa de homicídios.

4 Esse modelo de investigação funciona bem, como mostrou um projeto piloto dos governos estadual e federal em Alagoas. Para reduzir a taxa de homicídios do estado, a polícia estudou o perfil dos crimes, montou um plano estratégico de rondas de policiais militares, comprou equipamentos para os peritos e mandou que os policiais civis concentrassem a investigação nas primeiras horas  
7 depois do crime. Nos dez dias iniciais de julho deste ano, o número de mortes em Maceió caiu pela metade em relação ao do ano passado. Dos treze assassinatos ocorridos no período, onze foram esclarecidos.

Laura Diniz. *A cicatriz da alma*. In: *Veja*, 25/7/2012, p. 84 (com adaptações).

### QUESTÃO 1

De acordo com o texto, no início de julho deste ano, o número de mortes em Maceió diminuiu

- Ⓐ devido à nomeação de policiais com alto índice de inteligência.
- Ⓑ menos do que o esperado, porque há assassinatos que ainda não foram esclarecidos.
- Ⓒ porque policiais e peritos conseguiram se reunir nas primeiras 48 horas após os crimes.
- Ⓓ na mesma proporção que em São Paulo, no mesmo período.
- Ⓔ graças a um modelo de investigação que emprega o serviço de inteligência policial, entre outros recursos.

### QUESTÃO 2

Em relação às estruturas linguísticas do texto, assinale a opção correta.

- Ⓐ Seriam mantidos os sentidos originais e a correção gramatical do texto caso o trecho “uma *regra de ouro*, segundo a qual” (ℓ.1) fosse substituído por **regulamentos de ouro, segundo o qual**.
- Ⓑ A forma verbal “provocaram” (ℓ.2) está empregada no plural porque concorda com “policiais e peritos” (ℓ.1), sujeito da oração em que essa forma verbal se encontra.
- Ⓒ O trecho “um projeto piloto dos governos estadual e federal” (ℓ.4) poderia, sem prejuízo da correção gramatical e dos sentidos do texto, ser reescrito da seguinte forma: um projeto piloto do governo estadual e do federal.
- Ⓓ No período “Para reduzir (...) do crime” (ℓ.5-7), todas as vírgulas foram empregadas para separar elementos de uma enumeração.
- Ⓔ O itálico em “*regra de ouro*” (ℓ.1) indica o uso de expressão adaptada de outro idioma.

**QUESTÃO 3**

1 Estamos acostumados a associar a criminalidade à  
 pobreza. O raciocínio faz sentido se estamos falando de crimes  
 contra a pessoa, como os homicídios: eles tendem a ocorrer nas  
 4 áreas mais pobres e periféricas dos grandes centros urbanos,  
 onde há elevado consumo de álcool, disponibilidade de armas,  
 poucas opções de lazer e uma cultura violenta de resolução de  
 7 conflitos. Atingem em especial a população masculina jovem,  
 pobre, não branca e pouco escolarizada. Mas os efeitos da  
 pobreza sobre a criminalidade são menos óbvios quando se  
 10 trata dos crimes contra o patrimônio, como roubos e furtos. Por  
 um lado, com um aumento geral da renda e do emprego, há  
 uma diminuição da propensão ao crime, já que outras opções,  
 13 dentro da lei, estão muito mais ao alcance da mão. No entanto,  
 sob outra ótica, o aumento da renda geralmente implica maior  
 disponibilidade de bens. Cresce a oferta de objetos cobiçados,  
 16 como automóveis, celulares e relógios. Em outras palavras, há  
 mais material na praça para ser roubado. O crescimento  
 econômico pode resultar em aumento dos crimes patrimoniais.

Túlio Kahn. *O que a pobreza (e a riqueza) tem a ver com o crime*. In: *Veja*, 25/7/2012, p. 87 (com adaptações).

Assinale a opção correta em relação às estruturas linguísticas do texto.

- Ⓐ Na linha 15, a expressão “a oferta de objetos cobiçados” exerce a função de complemento da forma verbal “Cresce”.
- Ⓑ A expressão “ao alcance da mão” (ℓ.13) está empregada no texto em sentido denotativo.
- Ⓒ A expressão “Em outras palavras” (ℓ.16) introduz uma retificação da informação dada na frase anterior.
- Ⓓ Manteria a correção gramatical do texto a substituição da expressão “à pobreza” (ℓ.1-2) por **as regiões pobres**.
- Ⓔ O sujeito elíptico de “Atingem” (ℓ.7) e o pronome “eles” (ℓ.3) possuem o mesmo referente.

**QUESTÃO 4**

Assinale a opção correta no que diz respeito à forma e à estrutura da mensagem, conforme estabelece o **Manual de Redação da Presidência da República**.

- Ⓐ A mensagem deve conter a indicação do tipo de expediente e de seu número, horizontalmente, no início da margem esquerda.
- Ⓑ Na mensagem, o local e a data de expedição do documento devem estar alinhados, no início do texto, à margem direita.
- Ⓒ Quando direcionada ao presidente do Congresso Nacional, a mensagem deve indicar o vocativo “Excelentíssimo Presidente do Congresso Nacional”, centralizado no início do expediente, logo após a data de expedição da correspondência.
- Ⓓ O texto do corpo da mensagem deve ser numerado, e deve estar organizado em itens ou títulos e subtítulos.
- Ⓔ A mensagem, assim como os demais expedientes oficiais, sobretudo os emitidos pelo presidente da República, deve conter a identificação do signatário.

**QUESTÃO 5**

Considerando as normas do **Manual de Redação da Presidência da República** referentes às correspondências oficiais que adotam a diagramação do padrão ofício, assinale a opção correta.

- Ⓐ Em tais documentos, no campo assunto, deve-se apresentar detalhadamente o assunto que motiva a comunicação; no caso de haver mais de uma ideia a ser exposta, cada sentença deve ser separada da outra por ponto final.
- Ⓑ Em se tratando de memorando ou de aviso, devem ser incluídos, no campo destinatário, o nome, o cargo e o endereço da pessoa a quem se direciona a comunicação oficial.
- Ⓒ No ofício, o alinhamento do vocativo coincide com o do endereço do signatário.
- Ⓓ A mensagem, o ofício e o memorando adotam a mesma diagramação, diferenciando-se apenas porque, no memorando, a data e o local de expedição do documento se encontram alinhados à direita, no início do documento.
- Ⓔ Tipo e número do expediente seguidos da sigla do órgão expedidor, assunto, texto, destinatário, assinatura e identificação do signatário são elementos comuns às correspondências que seguem o padrão ofício.

## QUESTÃO 6

## Fabiano

Fabiano ia satisfeito. Sim senhor, arrumara-se. Chegar naquele estado, com a família morrendo de fome, comendo raízes. Caíra no fim do pátio, debaixo de um juazeiro, depois tomara conta da casa deserta. Ele, a mulher e os filhos tinham-se habituado à camarinha escura, pareciam ratos — e a lembrança dos sofrimentos passados esmorecera.

Pisou com firmeza no chão gretado, puxou a faca de ponta, esgravatou as unhas sujas. Tirou do aió um pedaço de fumo, picou-o, fez um cigarro com palha de milho, acendeu-o à binga, pôs-se a fumar regalado.

— Fabiano, você é um homem, exclamou em voz alta.

Conteve-se, notou que os meninos estavam perto, com certeza iam admirar-se ouvindo-o falar só. E, pensando bem, ele não era homem: era apenas um cabra ocupado em guardar coisas dos outros. Vermelho, queimado, tinha os olhos azuis, a barba e os cabelos ruivos; mas como vivia em terra alheia, cuidava de animais alheios, descobria-se, encolhia-se na presença dos brancos e julgava-se cabra. Olhou em torno, com receio de que, fora os meninos, alguém tivesse percebido a frase imprudente. Corrigiu-a, murmurando:

— Você é um bicho, Fabiano.

Isto para ele era motivo de orgulho. Sim senhor, um bicho, capaz de vencer dificuldades.

Chegar naquela situação medonha — e ali estava, forte, até gordo, fumando seu cigarro de palha.

— Um bicho, Fabiano.

Era. Apossara-se da casa porque não tinha onde cair morto, passaram uns dias mastigando raiz de imbu e sementes de mucunã. Viera a trovoada e, com ela, o fazendeiro, e o expulsara. Fabiano fizera-se desentendido e oferecera seus préstimos, resmungando, coçando os cotovelos, sorrindo aflito. O jeito que tinha era ficar. E o patrão aceitara-o, entregara-lhe as marcas de ferro.

Agora Fabiano era vaqueiro, e ninguém o tiraria dali. Aparecera como um bicho, entocara-se como um bicho, mas criara raízes, estava plantado. Olhou as quipás, os mandacarus e os xique-xiques. Era mais forte que tudo isso, era como as catingueiras e as baraúnas. Ele, sinhá Vitória, os dois filhos e a cachorra Baleia estavam agarrados à terra.

Graciliano Ramos. *Vidas secas*. São Paulo: Martins, 1969, p. 53-5 (com adaptações).

Com base no fragmento de texto acima e considerando o momento de produção da obra **Vidas Secas**, de Graciliano Ramos, assinale a opção correta.

- A Os detalhados elementos descritivos do texto são recursos mediante os quais o personagem e a realidade em que ele está inserido são apresentados de forma pitoresca e idealizada, ressaltando-se, dessa forma, elementos típicos do regionalismo romântico.
- B O texto evidencia que a seca no Nordeste é o principal personagem do romance **Vidas Secas**, no qual os conflitos agrários são secundários em relação aos determinismos climáticos.
- C A técnica do monólogo interior utilizada para apresentar o personagem Fabiano — que fala consigo mesmo — consiste em um recurso da prosa modernista que valoriza o mundo interno do personagem e apaga a realidade social que o circunda.
- D A identificação do personagem Fabiano com um bicho é uma forma de expressar a animalização do homem, sendo um recurso literário típico da vertente literária adotada por Graciliano Ramos — o Naturalismo —, que buscava, assim, evidenciar a degradação social dos pobres no Nordeste brasileiro.
- E No momento literário em que foi escrito o romance **Vidas Secas**, o personagem popular foi representado de forma mais amadurecida na literatura brasileira, sendo caracterizado tanto pela realidade de pobreza econômica como pela riqueza humana.

## QUESTÃO 7

## Pobre alimária

O cavalo e a carroça

Estavam atravancados no trilho

E como o motorneiro se impacientasse

Porque levava os advogados para os escritórios

Desatravancaram o veículo

E o animal disparou

Mas o lesto carroceiro

Trepou na boleia

E castigou o fugitivo atrelado

Com um grandioso chicote

Oswald de Andrade. **Pau-Brasil**. São Paulo: Globo, 1990, p. 115.

Assinale a opção correta acerca do texto poético de Oswald de Andrade apresentado acima.

- A O uso do vocabulário erudito e a valorização da cultura letrada e moderna, em detrimento do uso do vocabulário e da valorização da cultura popular, inserem esse poema modernista na tradição parnasiana de rebuscamento da linguagem.
- B A temática social ligada ao cotidiano e à ausência do eu lírico identificam esse poema aos modelos tradicionais da poesia lírica anterior ao Modernismo brasileiro.
- C Um dos elementos do poema que o caracteriza como uma produção do primeiro momento modernista brasileiro é o distanciamento entre poesia e narrativa.
- D A ausência de pontuação e a centralidade dada pelo poeta à figura do cavalo, animal ligado à vida campestre, são, respectivamente, traços evidentes da filiação desse texto modernista à linguagem labiríntica do Barroco e à exaltação árcade da vida no campo.
- E No poema em questão, é trabalhado um dos temas centrais do primeiro momento do Modernismo brasileiro: a relação entre o moderno/urbano (os trilhos do bonde) e o arcaico/rural (a carroça) e entre classes sociais diferentes, os advogados e o carroceiro.

**ATENÇÃO:** responda às questões de 8 a 10 de acordo com a sua opção de língua estrangeira.

## LÍNGUA INGLESA

Text for questions from 8 through 10.

1 I'm sure a lot of people in the media are terribly  
lonely if they just admit it. That's why you see them in  
bars, because they have nowhere to go. They turn to drink  
4 to deaden the effect. Being famous is like being extremely  
beautiful, in that it makes you seem extremely distant.

It can be very difficult for someone like me to  
7 go into a bar, for instance. People stare, and come over  
and ask for an autograph, which is very nice and  
flattering, but the assumption is always: "What on earth  
10 is he doing here?" Initially it is very easy to meet people,  
but it is always very superficial, and they are always the  
same kind of people.

13 I suffered very badly from loneliness in the past.  
Like other broadcasters, I am quite timid, but I was also  
very ambitious, and that didn't leave me much time for friendship.

16 Eventually you can begin to enjoy loneliness and  
stop feeling sorry for yourself. I have a great job which  
compensates for a lot. I have one really good friend I've  
19 known for years, and I feel you can't have everything.

S. Greenall and D. Pye. *Cambridge skills for fluency Cambridge*.  
Cambridge University Press, 1996 (adapted).

### QUESTÃO 8

According to the text,

- A celebrated artists go to bars to meet friends.
- B in general, artists drink too much because they don't know where to go after work.
- C in order to be famous, a person has to be beautiful.
- D it is rather difficult to go to bars alone.
- E many well-known or famous people do not admit they feel terribly lonely.

### QUESTÃO 9

Based on the text, choose the correct option.

- A Rarely an artist can manage to stop feeling sorry for himself.
- B A great job cannot make up for the loneliness it can cause.
- C All kinds of artists just love to be in the media.
- D People go into bars to stare at artists.
- E The text was written by a broadcaster.

### QUESTÃO 10

In the text, "to deaden" (l.4) means

- A to stop living.
- B to die suddenly.
- C to make less intense.
- D to be dead.
- E to make a sound less loud.

**QUESTÃO 11**

Os protocolos são empregados com o objetivo de permitir e(ou) bloquear o tráfego em camada de aplicação do modelo TCP/IP. Considerando essa informação, assinale a opção em que é apresentado um protocolo da camada de aplicação que pode ser barrado mediante o uso de *firewall*.

- A ARP (*address resolution protocol*)
- B DNS (*domain name system*)
- C TCP (*transmission control protocol*)
- D UDP (*user datagram protocol*)
- E IP (*Internet protocol*)

**QUESTÃO 12**

*Cloud computing* (computação em nuvem), um termo amplamente utilizado na área de tecnologia da informação, consiste em uma tecnologia de armazenamento e processamento de informações. A respeito dessa tecnologia, assinale a opção correta.

- A O armazenamento de dados em nuvem possibilita que um usuário acesse os dados armazenados de qualquer lugar, desde que seu computador esteja conectado à Internet, não havendo necessidade de os dados serem salvos no computador local.
- B Na computação em nuvem, a comunicação entre os pares é possível somente se os sistemas operacionais instalados e os *softwares* em uso em cada um dos computadores forem os mesmos.
- C Em virtude de a computação em nuvem não ser escalável, a administração do sistema, na perspectiva do usuário, é simples e eficiente.
- D Entre os exemplos de aplicações em nuvem incluem-se os serviços de *email* e compartilhamento de arquivos, que, mediante essa aplicação, são totalmente protegidos contra possíveis acessos indevidos.
- E Um arquivo armazenado em nuvem poderá ser acessado a partir de um único computador, previamente configurado para esse fim. Essa restrição deve-se à impossibilidade de se criar itens duplicados de usuários na nuvem.

**QUESTÃO 13**

Assinale a opção correta acerca do uso do protocolo TCP/IP em computadores com o sistema operacional Windows 7.

- A O funcionamento correto do protocolo IPv6 depende do serviço denominado XML (*extended mark-up language*), que, no Windows 7, é disponibilizado juntamente com o *Service Pack 1*.
- B O DNS consiste em um item cuja configuração é realizada por meio do protocolo DHCP. Caso se opte pela configuração manual, o DNS deverá conter o endereço IPv6, mesmo que o protocolo IP configurado seja o IPv4.
- C O protocolo IPv6 é suportado no Windows 7 com *Service Pack 1*, ao passo que, em outras versões do *Service Pack*, o usuário deve usar o DVD de instalação do sistema para alterar a ordem de protocolos apresentados, não devendo alterar, contudo, a ordem de apresentação do IPv6.
- D O TCP/IP é suportado nativamente no Windows 7. O protocolo IPv4 é suportado nesse sistema, configurado manualmente ou mediante o protocolo DHCP.
- E Se o protocolo IPv4 for configurado de maneira automática mediante o protocolo DHCP, o *firewall* do Windows não funcionará, devendo o IP ser configurado manualmente para que o *firewall* funcione corretamente.

**QUESTÃO 14**

Com relação ao surgimento e desenvolvimento da sociologia, assinale a opção correta.

- A Max Weber construiu o conceito de **tipo ideal** como instrumento racional de análise de fatos de qualquer natureza.
- B O senso comum, diferentemente do conhecimento científico, estabelece relações causais após compreender a natureza e a estrutura dos fatos observáveis.
- C Por serem atividades sociais, a produção, a circulação e a distribuição de bens e serviços são temas típicos da sociologia.
- D A despeito de Comte (1798-1857) ser considerado o pai da sociologia, foi Durkheim (1858-1917) o responsável por tornar essa área uma ciência.
- E Segundo Durkheim, os fatos sociais só podem ser estudados subjetivamente, diferentemente de como são estudados os fatos da natureza.

**QUESTÃO 15**

A respeito de alguns aspectos de teorias sociológicas, assinale a opção correta.

- A Nas análises sociológicas realizadas na atualidade, os estilos de vida são dissociados dos componentes definidores da classe social.
- B De acordo com Max Weber, a religião exerceu forte influência no estabelecimento de desigualdades econômicas entre alguns países europeus no período de estruturação da sociedade capitalista.
- C O alvo central das críticas empreendidas por Karl Marx ao capitalismo é o fato de, no sistema capitalista, apenas alguns serem proprietários de sua força de trabalho e todos serem proprietários dos meios de produção.
- D O principal conflito do sistema capitalista se dá, segundo Karl Marx, entre duas classes sociais fundamentais: a burguesia urbana e os latifundiários.
- E Define-se instituição, em termos gerais, como um conjunto de valores, normas e usos de um indivíduo.

**QUESTÃO 16**

No que se refere à filosofia moral ou ética, assinale a opção correta.

- A As correntes éticas deontológicas propõem a finalidade como critério de avaliação do comportamento moral.
- B O imperativo categórico kantista é um modelo utilitarista incompleto.
- C A decisão de um casal em ter mais ou menos filhos é um tema restrito à bioética.
- D O desenvolvimento tecnológico implica em novas discussões éticas, em razão de suas possíveis consequências.
- E A ética proposta por Platão constitui a ética das virtudes ou do caminho do meio.

**QUESTÃO 17**

A respeito de filosofia política e filosofia da linguagem, assinale a opção correta.

- Ⓐ O pensamento de Marx e Engels ficou conhecido como materialismo histórico por considerar que a sociedade funciona a partir das condições materiais de produção e da divisão social do trabalho.
- Ⓑ Para fundamentar sua crítica à razão instrumental, Habermas concebeu a razão e a comunicação emotivas.
- Ⓒ Define-se pragmática, em contraposição à sintaxe e à semântica, como a área dos estudos da linguagem que investiga a simples relação entre os signos.
- Ⓓ Na obra **A República**, Aristóteles propõe que o governante ideal é o filósofo.
- Ⓔ A obra **Leviatã**, escrita por Hobbes, gerou a expressão maquiavelismo.

**QUESTÃO 18**

A formação do capitalismo se iniciou na Baixa Idade Média e avançou ao longo da Idade Moderna, sustentada pela crescente importância do comércio e da exploração das terras conquistadas pelos europeus. Com a Revolução Industrial, o capitalismo consolidou-se como sistema econômico, expandindo-se por intermédio da corrida imperialista. A disputa desenfreada entre as grandes potências imperialistas constituiu fator importante para a eclosão das duas guerras mundiais do século XX. Acerca desse cenário histórico, assinale a opção correta.

- Ⓐ A quebra da Bolsa de Nova Iorque e a crise econômica que se seguiu a ela foram acontecimentos determinantes para a derrota dos Estados Unidos da América na Segunda Guerra Mundial.
- Ⓑ A expressão “terceiro mundo”, surgida após a Segunda Guerra Mundial, no período da Guerra Fria, é comumente empregada na atualidade para designar países emergentes.
- Ⓒ A descoberta da América e a conseqüente montagem de um sistema colonial no continente explicam-se pela necessidade de expansão do sistema de trocas típico do Feudalismo.
- Ⓓ A Revolução Industrial promoveu a expansão do trabalho escravo, fundamental para a ampliação dos lucros dos grandes industriais e comerciantes.
- Ⓔ Um dos fatores decisivos para a eclosão da Primeira Guerra Mundial foi a disputa por colônias protagonizada por potências europeias.

**QUESTÃO 19**

Após se tornar independente, o Brasil foi o único país americano que adotou o regime monárquico. Proclamada em 1889, por meio de golpe de Estado, a República brasileira transformou-se no palco das oligarquias. A Era Vargas significou o início da modernização econômica do país, o começo da implantação dos direitos sociais e, sob o ponto de vista político, a centralização que culminou em franca ditadura. Entre 1946 e 1964, o Brasil conheceu inédita experiência democrática, apesar das crises que se sucediam. O golpe de 1964 inaugurou duas décadas de regime autoritário. Relativamente a esses períodos da história do Brasil, assinale a opção correta.

- Ⓐ A Nova República teve início com a eleição indireta da chapa formada por Tancredo Neves e José Sarney.
- Ⓑ A Independência do Brasil foi fruto da ação popular e marcou o rompimento do país com seu passado colonial.
- Ⓒ Até o ano de 1930, período da Primeira República, o voto era secreto e um direito de todos os alfabetizados.
- Ⓓ O movimento tenentista tinha por objetivo defender os interesses das oligarquias estaduais.
- Ⓔ A Era Vargas caracterizou-se pela supressão de medidas de proteção ao trabalho e pelo incentivo governamental à agricultura.

**QUESTÃO 20**

Tendo pertencido a Pernambuco na maior parte do período colonial brasileiro, Alagoas adquiriu autonomia em 1817, quando se transformou em província por decisão do governo central, sediado no Rio de Janeiro. Essa emancipação política da região foi interpretada como

- Ⓐ forma de incentivar a introdução da cultura da cana-de-açúcar na região.
- Ⓑ recompensa ao donatário Duarte Coelho por sua lealdade ao rei.
- Ⓒ estratégia para derrotar os quilombolas de Palmares.
- Ⓓ gesto de gratidão do rei pela luta do povo alagoano para expulsar os holandeses do Nordeste.
- Ⓔ represália do poder central à Insurreição Pernambucana de 1817.

**QUESTÃO 21**

O termo BRICs identifica o grupo formado pelos quatro países que, muito provavelmente, apresentarão maiores taxas de crescimento econômico até 2050: Brasil, Rússia, Índia, China e África do Sul. Conforme projeções, esses países serão maiores economicamente do que os países que compõem o G6 (Estados Unidos da América, Japão, Alemanha, Reino Unido, França e Itália). A partir dessas informações, assinale a opção correta com relação ao BRICs.

- A** A grande produção de petróleo e de gás natural da Índia colocou esse país entre as economias mais dinâmicas do mundo atual.
- B** A China apresenta grande produção nos setores primários das áreas de mineração e agropecuária.
- C** O Brasil é, entre os países do BRICs, o de maior população, sendo esse um dos fatores que contribuem para a existência de grande oferta de mão de obra barata, assim como para o estabelecimento de indústrias de diversos países no território brasileiro.
- D** As características comuns entre os países que compõem o BRICs incluem: grande extensão territorial, estabilidade econômica recente, produto interno bruto em ascensão, mercado consumidor em alta e investimentos de empresas transnacionais em diversos setores da economia.
- E** Entre os países que compõem o BRICs, a Rússia é o que possui maior capacidade industrial e agrícola, competindo diretamente com os países da Europa Ocidental.

**QUESTÃO 22**

O território alagoano é constituído de três unidades de relevo: planície litorânea, planalto e depressão. Em grande parte do estado, a topografia é plana, não ultrapassando 300 m de altitude. A exceção é a serra Santa Cruz, com altitude de 844 m. Nesse território, a unidade de relevo caracterizada como depressão refere-se à mais importante bacia hidrográfica do estado, localizada

- A** no conjunto de relevo da Borborema, região rebaixada em relação ao litoral.
- B** nos tabuleiros litorâneos, fragilizados devido à erosão marinha.
- C** no conjunto da serra Santa Cruz, região cuja altitude ultrapassa o nível do mar.
- D** no vale do rio São Francisco, cujo relevo é composto por formas erodidas e baixas elevações residuais.
- E** na zona costeira, abaixo do nível do mar, a qual é facilmente inundada em períodos de maré alta.

**QUESTÃO 23**

A nomenclatura binominal é utilizada como um sistema simples e prático para organizar diferentes tipos de organismos vivos. Essa nomenclatura foi desenvolvida por

- A** Charles Darwin.
- B** Carolus Linnaeus.
- C** Jean-Baptiste Lamarck.
- D** Gregor Mendel.
- E** Thomas Edison.

**QUESTÃO 24**

Acerca das funções das estruturas celulares, assinale a opção correta.

- A** O centríolo está relacionado com o controle das atividades celulares.
- B** Os ribossomos estão relacionados com a síntese de lipídios.
- C** O lisossomo é responsável pela digestão intracelular.
- D** A mitocôndria está ligada à síntese de glicose.
- E** O cloroplasto é responsável pela respiração celular.

**QUESTÃO 25**

Assinale a opção em que a relação entre o animal e o filo está correta.

- A** ouriço-do-mar – cordado
- B** mosquito – equinodermo
- C** esponja – cnidário
- D** minhoca – anelídeo
- E** peixe – platelminto

**QUESTÃO 26**

Considere que, durante uma perseguição policial, uma viatura conduzida por um oficial combatente tenha atingido 100 km/h em 11,2 s, tendo partido do repouso em um movimento retilíneo uniformemente acelerado. Nessa situação, o módulo da aceleração escalar da viatura, nesse percurso, foi

- A** inferior a 0,3 m/s<sup>2</sup>.
- B** superior ou igual a 0,3 m/s<sup>2</sup> e inferior a 1 m/s<sup>2</sup>.
- C** superior ou igual a 1 m/s<sup>2</sup> e inferior a 5 m/s<sup>2</sup>.
- D** superior ou igual a 5 m/s<sup>2</sup> e inferior a 9 m/s<sup>2</sup>.
- E** superior ou igual a 9 m/s<sup>2</sup>.

**RASCUNHO**



RASCUNHO

**QUESTÃO 27**

As polícias militares e civis do Brasil, de modo geral, possuem aparelhos em suas viaturas que utilizam ondas eletromagnéticas para a comunicação entre dois pontos não conectados fisicamente. A comunicação baseia-se na transmissão das ondas eletromagnéticas a partir de uma antena transmissora e sua posterior captação por uma antena receptora. Essas ondas eletromagnéticas, conhecidas como ondas de rádio, possuem comprimentos de onda bem maiores que os da luz visível. No que se refere às ondas eletromagnéticas e também às ondas sonoras, é correto afirmar que

- A** as ondas eletromagnéticas se propagam em qualquer meio material com a mesma velocidade:  $3 \times 10^8$  m/s.
- B** os campos elétrico e magnético, em uma onda eletromagnética, são perpendiculares entre si e variam fora de fase, ou seja, quando um deles atinge a intensidade máxima, o outro se anula.
- C** uma onda de rádio com comprimento de onda de  $1 \times 10^5$  m, propagando-se no vácuo com velocidade de  $3 \times 10^8$  m/s, possui frequência de 3 MHz.
- D** a altura de uma onda sonora está relacionada à quantidade de energia que ela transmite a um certo ponto do espaço.
- E** a frequência do som da sirene de uma viatura policial que se aproxima de um observador em repouso será percebida por esse observador com uma frequência maior que a frequência real.

**QUESTÃO 28****A evolução da ciência**

O conhecimento científico não permanece igual ao longo dos anos. O que é considerado verdade hoje pode não ser no futuro. Há seis séculos, pensava-se que a Terra era o centro do universo. Hoje sabemos que ela não é sequer o centro do Sistema Solar. A Teoria da Relatividade de Einstein mudou as bases da física, alterando conceitos tão fundamentais como tempo e espaço.

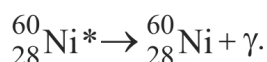
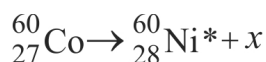
Internet: <www.infoescola.com> (com adaptações).

Considerando que o texto acima tem caráter apenas motivador, assinale a opção correta de acordo com os princípios da relatividade especial e a transformação de Lorentz.

- A** O tempo é absoluto, independentemente do referencial em que é medido.
- B** O comprimento de um objeto aumenta com o aumento de sua velocidade, quando medido por um observador que esteja em movimento em relação a esse objeto.
- C** Se dois eventos ocorrem em um mesmo instante em um dado referencial, eles são simultâneos nesse referencial. Nesse caso, esses eventos também serão obrigatoriamente simultâneos para outro observador que se encontre em outro referencial.
- D** O valor do fator de Lorentz,  $\gamma$ , para um objeto que se mova a uma velocidade igual a  $\frac{\sqrt{3}}{2}c$ , em que  $c$  representa a velocidade da luz no vácuo, é igual a 3.
- E** A teoria especial da relatividade fundamenta-se em dois postulados: as leis da física são as mesmas em todos os referenciais inerciais; a velocidade da luz no vácuo é a mesma em todos os referenciais inerciais, independentemente do movimento da fonte em relação ao observador.

**QUESTÃO 29**

Um dos aparelhos de radioterapia mais conhecidos é a bomba de cobalto, usada no tratamento contra o câncer. Trata-se de uma fonte radioativa de cobalto-60 (Co-60), que é usada para destruir células de tumores, uma vez que estas são mais sensíveis à radiação que as de tecidos saudáveis. No processo descrito a seguir, de forma simplificada, o Co-60 sofre decaimento, com emissão de uma partícula, originando um nuclídeo de Ni-60 excitado ( ${}_{28}^{60}\text{Ni}^*$ ). Este, por sua vez, emite radiação gama, que é utilizada no procedimento médico.



Internet: <www.cnen.gov.br> (com adaptações).

Com base nas reações nucleares apresentadas e nas leis de decaimento radioativo, é correto inferir que, no processo de desintegração do Co-60 que ocorre na bomba de cobalto, a partícula  $x$  representa

- A um nêutron.
- B um pósitron.
- C uma radiação alfa.
- D um próton.
- E um elétron.

**QUESTÃO 30**

Em seu laboratório, um químico deseja distinguir, de maneira simples, as substâncias de cada um dos pares a seguir, empregando os testes sugeridos na coluna da direita do quadro.

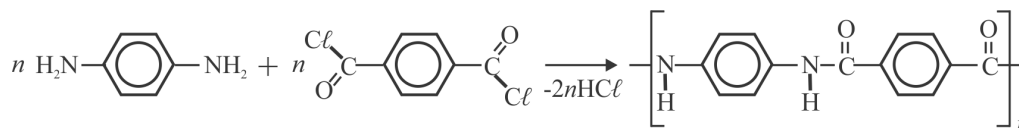
substâncias	testes
I sulfato de sódio e bicarbonato de sódio	X dissolução em água destilada
II cloreto de sódio e sacarose	Y medição do pH de suas soluções aquosas
III benzeno e glicose	Z verificação da condutibilidade elétrica de suas soluções aquosas

Para alcançar êxito na identificação das substâncias dos pares I, II e III, o químico deverá utilizar, respectivamente, os testes

- A X, Y e Z.
- B X, Z e Y.
- C Y, X e Z.
- D Y, Z e X.
- E Z, X e Y.

**RASCUNHO**

**Figura para a questão 31**



**QUESTÃO 31**

As fibras sintéticas de aramida foram desenvolvidas no final da década de 60 do século XX e lançadas comercialmente pela DuPont anos depois, sob a marca KEVLAR®. Por sua alta resistência, cinco vezes maior que a do aço, a aramida tornou-se um material de referência na confecção de coletes balísticos. Industrialmente, o KEVLAR® é obtido pela reação de polimerização da *p*-fenilenodiamina com o cloreto de tereftaloila, de acordo com a equação acima.

Internet: <www.cbc.com.br> (com adaptações).

A partir das informações do texto e da equação acima, assinale a opção correta com relação ao KEVLAR® e ao seu processo de produção industrial.

- A A cadeia carbônica do polímero em questão é classificada como homogênea e ramificada.
- B O KEVLAR® apresenta altíssima densidade e é suscetível ao ataque químico com ácidos minerais.
- C Trata-se de um polímero obtido por meio de uma reação de polimerização de adição em que se produz uma poliamina a partir de monômeros aromáticos.
- D O KEVLAR® é uma poliamida resultante de uma reação de polimerização de condensação em que um dos monômeros apresenta a função haleto de ácido carboxílico.
- E Todos os átomos de carbono do KEVLAR® apresentam hibridização do tipo sp<sup>3</sup>.

**QUESTÃO 32**

Há um sentimento geral na população de que quanto maiores forem os investimentos públicos em ações de prevenção da criminalidade, menores serão os índices que medem as ações dos malfeitores. Suponha que, para cada *x* milhões de reais investidos em ações de prevenção da criminalidade, o índice de criminalidade seja igual a  $f(x) = 450/(x + 15)$  crimes por 100 mil habitantes. De acordo com esse modelo, para que esse índice seja igual a 10 crimes por 100 mil habitantes, o montante a ser investido em ações de prevenção da criminalidade, em milhões de reais, deverá ser igual a

- A 10.
- B 15.
- C 18.
- D 30.
- E 450.

**QUESTÃO 33**

As instruções abaixo foram encontradas por peritos que investigavam o furto de um baú, repleto de joias raras, praticado por um indivíduo que o escondeu em algum lugar de uma cidade plana. Nas instruções, havia um mapa da cidade representado em um sistema de coordenadas cartesianas ortogonais e referências a números complexos da forma  $z = a + bi$ , em que  $i^2 = -1$  e *a* e *b* são números reais, correspondentes a pontos desse sistema.

**INSTRUÇÕES**

- I saia da origem e siga para o ponto do plano cartesiano correspondente ao número complexo  $z = 2 + 3i$ ;
- II nesse local, há o segredo de um cofre onde estão escondidas a arma usada no crime e a chave do baú;
- III o cofre está no ponto do plano cartesiano correspondente ao número complexo  $w = z^2$ ;
- IV abra o cofre, pegue a chave do baú e vá para o ponto do plano cartesiano correspondente ao número complexo  $v = z + w$ ;
- V o baú está enterrado no ponto do plano cartesiano correspondente ao número complexo  $u = 3v/z$ .

Considerando que as instruções sejam verdadeiras, é correto afirmar que os peritos encontrarão o baú se cavarem no ponto do plano cartesiano correspondente ao número complexo

- A  $2 + 3i$ .
- B  $4 + 9i$ .
- C  $9 + 9i$ .
- D  $-5 + 12i$ .
- E  $-3 + 15i$ .

**RASCUNHO**

**QUESTÃO 34**

No mapa de uma cidade, em um sistema de coordenadas cartesianas ortogonais, o centro da cidade, que é a origem do sistema de coordenadas, coincide com o centro de uma rotatória circular de 100 m de raio. Os eixos coordenados, com unidades de comprimento em metros, coincidem com as direções e sentido oeste-leste (eixo das abscissas) e sul-norte (eixo das ordenadas). Um plano de patrulhamento ostensivo foi estruturado e viaturas foram posicionadas nas interseções da rotatória com a principal avenida da cidade, representada pela reta de equação  $4x + 3y = 0$ . Nessa situação, as viaturas foram posicionadas nos pontos de coordenadas

- A (80, 60) e (-80, -60).
- B (60, 80) e (-60, -80).
- C (60, -80) e (-60, 80).
- D (-80, 60) e (80, -60).
- E (60, 80) e (80, 60).

**QUESTÃO 35**

A corporação policial de uma pequena cidade é composta de 13 indivíduos: o comandante, 3 sargentos, 4 cabos e 5 soldados. Nesse caso, para o cumprimento de determinada missão, a quantidade de maneiras distintas de o comandante compor um grupo formado por 1 sargento, 2 cabos e 2 soldados é igual a

- A 25.
- B 60.
- C 120.
- D 180.
- E 1.287.

**QUESTÃO 36**

O governador de determinado estado da Federação, desejando prestigiar a carreira de oficial policial militar, propôs para a categoria reajuste salarial, que valeria a partir do próximo ano, de forma escalonada e de acordo com a seguinte regra: em janeiro de 2013, o salário bruto do oficial seria de R\$ 4.000,00; em fevereiro, o salário sofreria reajuste de 15% e o valor reajustado valeria até setembro; em outubro, o reajuste salarial seria de 10% sobre o salário de setembro e o salário reajustado valeria até janeiro de 2014. Nessa situação, a soma dos 12 salários brutos que seriam recebidos por um oficial, correspondentes aos 12 meses de 2013, seria

- A inferior a R\$ 51.000,00.
- B superior a R\$ 51.000,00 e inferior a R\$ 53.000,00.
- C superior a R\$ 53.000,00 e inferior a R\$ 55.000,00.
- D superior a R\$ 55.000,00 e inferior a R\$ 60.000,00.
- E superior a R\$ 60.000,00.

**QUESTÃO 37**

Determinada corporação militar utilizou R\$ 320.000,00 de seu orçamento anual com a manutenção das viaturas, com alimentação e com combustível. Sabe-se que a despesa com combustível foi igual a três vezes a despesa com a manutenção das viaturas e também superou em R\$ 30.000,00 a despesa com alimentação. Com base nessas informações, assinale a opção correta.

- A As despesas com alimentação foram superiores a R\$ 140.000,00.
- B Gastou-se menos de R\$ 160.000,00 com combustível.
- C Com combustível e alimentação, gastou-se mais de R\$ 290.000,00.
- D Com alimentação e manutenção das viaturas, gastou-se menos de R\$ 160.000,00.
- E Gastou-se menos de R\$ 30.000,00 com a manutenção das viaturas.

**QUESTÃO 38**

Em determinada cidade, serão realizados, de 2011 a 2025, concursos anuais para a admissão de novos policiais para a corporação local. A sequência numérica  $C_0, C_1, \dots, C_{15}$  corresponde à quantidade de soldados na corporação, a cada ano:  $C_0$  = quantidade de soldados em 2010;  $C_1$  = quantidade de soldados em 2011; e assim sucessivamente. Considerando-se que, no referido período, não haverá saída de soldados da corporação por qualquer motivo e que a sequência  $C_0, C_1, \dots, C_{15}$  é uma progressão aritmética, em que  $C_0 = 380$  e  $C_4 = 500$ , é correto afirmar que, em 2025, a quantidade de soldados na corporação será

- A inferior ou igual a 780.
- B superior a 780 e inferior ou igual a 800.
- C superior a 800 e inferior ou igual a 820.
- D superior a 820 e inferior ou igual a 840.
- E superior a 840.

**RASCUNHO**

**QUESTÃO 39**

De acordo com o Estatuto dos Policiais Militares do Estado de Alagoas (EPMAL), o não comparecimento de policial militar (PM), por mais de vinte e quatro horas consecutivas, à organização à qual esteja vinculado configura uma situação de

- A** deserção.
- B** abandono.
- C** desaparecimento.
- D** ausência.
- E** renúncia.

**QUESTÃO 40**

A PMAL

- A** consiste em uma instituição nacional permanente, organizada com base nos princípios da hierarquia e da disciplina.
- B** exerce com exclusividade as atividades de defesa civil.
- C** subordina-se administrativa e operacionalmente ao governador do estado de Alagoas.
- D** é força auxiliar e reserva da Polícia Civil do Estado de Alagoas e da Polícia Federal.
- E** é responsável por realizar as atividades de polícia ostensiva e de apuração das infrações penais contra a ordem social em sua jurisdição.

**QUESTÃO 41**

Assinale a opção correta acerca das condições de ingresso na PMAL.

- A** O credo religioso, conforme a situação, poderá constituir fundamento impeditivo de ingresso na PMAL.
- B** Os alunos de estágio de adaptação de oficiais ingressam na PMAL no posto de primeiro tenente.
- C** O ingresso na PMAL pode ocorrer mediante matrícula ou nomeação.
- D** Os alunos oriundos do meio civil que ingressarem no curso de formação de sargentos serão considerados soldados de primeira classe.
- E** Não exercer, ou não ter exercido, atividade prejudicial ou perigosa à segurança nacional é uma das condições para ingresso na PMAL. Contudo, se esse tipo de atividade tiver sido exercido há mais de três anos, não constituirá impedimento ao ingresso.

**QUESTÃO 42**

Com relação a conceitos incluídos no EPMAL, assinale a opção correta.

- A** O período de tempo no serviço ativo vivenciado por PM oriundo do meio civil e matriculado nos cursos de formação é considerado serviço temporário.
- B** Efetivação consiste na condição hierárquica assegurada, entre os quadros e dentro deles, aos PMs em virtude da antiguidade do posto ou da graduação.
- C** Precedência é a situação em que o PM da ativa desocupa vaga na escala hierárquica de seu quadro ou qualificação, mas permanece nessa vaga, sem o respectivo número.
- D** Quando o PM exerce cargo cujo provimento seja de grau hierárquico superior ao seu, diz-se que esse PM ocupa cargo comissionado.
- E** Matrícula é a modalidade de movimentação em que o cargo a ser ocupado pelo PM é especificado no documento de matrícula.

**QUESTÃO 43**

Nilo recusou-se a pagar a Henrique uma dívida no valor de mil reais decorrente da aquisição de drogas, razão por que Henrique deu-lhe três tiros, provocando-lhe lesões que causaram amputação de seu braço direito e a perda da visão de seu olho esquerdo. Depois de vinte e cinco dias de internação, Nilo pediu a seu irmão Saulo que o colocasse próximo ao aparelho fornecedor de oxigênio que o mantinha vivo, ocasião em que lhe disse que não queria continuar a viver, pois sabia que, se saísse vivo do hospital, Henrique o mataria. Saulo moveu a cama hospitalar do irmão para perto do aparelho de oxigênio e saiu do hospital. Nilo, então, desligou o aparelho de oxigênio da fonte de energia elétrica, na tentativa de se matar. Minutos depois, entretanto, Carlos, médico de plantão, reativou o aparelho, a tempo de salvar a vida de Nilo, que, em razão da falta de oxigênio, sofreu sequelas neurológicas que ocasionaram a perda da fala e do controle de movimentos.

Com base na situação hipotética acima, assinale a opção correta à luz do Código Penal (CP).

- A** Ao cobrar a dívida de Nilo usando de violência, Henrique cometeu tanto crime de homicídio tentado como de exercício arbitrário das próprias razões.
- B** Saulo cometeu crime de induzimento, instigação ou auxílio ao suicídio na forma consumada, ainda que sua ação não tenha causado a morte de Nilo.
- C** Tendo deixado de tomar os cuidados necessários à manutenção da vida de Nilo, o que caracteriza negligência, o médico responsável por seu tratamento cometeu crime de homicídio culposo na modalidade tentada.
- D** Henrique cometeu crime de lesão corporal gravíssima, uma vez que sua ação provocou a perda de membro e função de Nilo.
- E** Saulo cometeu crime de homicídio tentado.

**QUESTÃO 44**

Miguel abordou Bruno, que havia parado seu veículo na frente de sua casa e se preparava para abrir o portão da garagem, e exigiu-lhe, mediante ameaça de morte, a chave do carro. Enquanto isso, Lucas, parado do lado oposto da rua, apontava uma arma de fogo na direção de Bruno, que indicou a Miguel que a chave estava na ignição do veículo. Durante a ação, Bruno ouviu Miguel, ao telefone, dizer a uma pessoa cujo nome era supostamente Tiago que os dois se encontrariam no local combinado. Miguel, então, fugiu dirigindo o veículo de Bruno, e Lucas fugiu, em outra direção, pilotando uma motocicleta. Enquanto Miguel e Lucas fugiam, Bruno anotou a placa da motocicleta usada por Lucas. Após a fuga de ambos, Bruno foi ao posto policial mais próximo de sua residência fazer o registro do ocorrido. PMs localizaram o veículo subtraído em um estacionamento público, onde presenciaram Miguel entregar as chaves do veículo a uma pessoa que lhe entregou uma quantia em dinheiro. Os PMs, então, apreenderam o veículo e conduziram os rapazes à presença da autoridade policial, ocasião em que se constatou que a pessoa a quem Miguel entregou o carro era Tiago. Tiago informou que conhecia Miguel desde a infância, que costumava comprar e vender veículos automotores, mesmo não possuindo estabelecimento comercial regularmente constituído para o exercício dessa atividade, e que a quantia paga a Miguel, a quem pagaria mais três mil reais na semana seguinte, após a transferência do documento do veículo, era de mil reais. Uma equipe de policiais civis deteve Lucas na condução da motocicleta cuja placa fora anotada por Bruno, tendo sido verificado que a motocicleta pertencia a Tiago. Lucas portava um revólver de calibre 38, municiado com três cartuchos intactos e apto a ser usado. Em procedimento regular perante a autoridade policial, Bruno reconheceu formalmente Miguel como a pessoa que se apropriou de seu veículo e Lucas como a pessoa que apontou uma arma de fogo em sua direção. O veículo de Bruno foi avaliado, em perícia criminal, em trinta e oito mil reais.

Com base no disposto no CP, assinale a opção correta referente à situação hipotética apresentada acima.

- A** Tiago responderá por participação no crime de roubo a veículo, pois concorreu para a prática desse crime ao adquirir o veículo subtraído mediante pagamento ao executor do roubo.
- B** Miguel responderá pelo crime de roubo em concurso de pessoas, e Lucas responderá pelo crime de roubo com emprego de arma e em concurso de pessoas, já que cada um deve responder individualmente pela conduta que praticou.
- C** Tiago responderá pelo crime de receptação qualificada, visto que adquiriu, no exercício de atividade comercial de compra irregular, coisa que sabia ser produto de crime.
- D** Miguel responderá pelo crime de roubo simples, visto que, das condutas por ele praticadas, são penalmente relevantes as seguintes: abordar a vítima, exigir-lhe o veículo e evadir-se na posse da coisa subtraída.
- E** Lucas responderá pelo crime de constrangimento ilegal, já que, entre as ações por ele praticadas, são penalmente relevantes as de apontar a arma de fogo na direção da vítima e a de evadir-se do local.

**QUESTÃO 45**

Hugo, servidor público, auditor fiscal, constatou que Tadeu, comerciante de autopeças, por dois meses não emitiu notas fiscais referentes à saída de mercadorias de seu estabelecimento comercial. Hugo apurou que o valor do imposto sobre operações relativas à circulação de mercadorias e sobre prestações de serviços de transporte interestadual e intermunicipal e de comunicação não recolhido nesse período, em virtude da não emissão das notas fiscais, era de R\$ 32.860,52. Hugo ameaçou atear fogo na loja de autopeças caso Tadeu não lhe pagasse 10% do valor devido ao fisco, e garantiu que, caso Tadeu lhe pagasse essa quantia, não lavraria auto de infração tributária. Tadeu, no entanto, recusou-se a pagar a Hugo e registrou ocorrência policial.

Nessa situação, considerando-se o disposto no CP, Hugo praticou crime de

- A** corrupção passiva, pois manifestou a intenção de receber vantagem indevida no exercício da atividade de fiscalização tributária.
- B** concussão, visto que, no exercício de sua função, exigiu do devedor de determinado tributo o pagamento de percentual do tributo devido para que não lavrasse o auto de infração fiscal.
- C** prevaricação, porque deixou de praticar indevidamente ato de ofício para satisfazer interesse pessoal.
- D** peculato na modalidade tentada, pois pretendeu apropriar-se de dinheiro particular em proveito próprio no exercício de sua função pública, a despeito de o crime não ter sido consumado.
- E** excesso de exação, uma vez que empregou meio vexatório ou gravoso para cobrar tributo devido ao fisco.

**QUESTÃO 46**

Com relação ao conceito, à evolução e à abrangência dos direitos humanos, assinale a opção correta.

- A** Os chamados direitos de solidariedade correspondem, no plano dos direitos fundamentais, aos direitos de segunda geração, que se identificam com as liberdades concretas, acentuando o princípio da igualdade.
- B** No século XX, inaugurou-se uma nova fase no sistema de proteção dos direitos fundamentais, na medida em que foi nele que os Estados passaram a acolher as declarações de direitos em suas Constituições.
- C** A individualidade é uma das características dos direitos humanos fundamentais, e, nesse sentido, eles são dirigidos a cada ser humano isoladamente considerado, o que se justifica em razão das diferenças de nacionalidade, sexo, raça, credo ou convicção político-filosófica.
- D** Os direitos fundamentais são os direitos humanos reconhecidos como tais pelas autoridades às quais se atribui o poder político de editar normas, tanto no interior dos Estados quanto no plano internacional; são, assim, os direitos humanos positivados nas Constituições, nas leis, nos tratados internacionais.
- E** Com o fim da Primeira Guerra Mundial, a estrutura do direito internacional dos direitos humanos começou a se consolidar. A essa época, os direitos humanos tornaram-se uma legítima preocupação internacional e, então, foram criados mecanismos institucionais e de instrumentos que levaram tais direitos a ocupar um espaço central na agenda das organizações internacionais.

**QUESTÃO 47**

A respeito do sistema de proteção dos direitos humanos e dos instrumentos de garantia desse sistema, assinale a opção correta.

- A** No sistema de proteção dos direitos humanos, os Estados e a comunidade internacional compartilham responsabilidade primária pela proteção desses direitos, razão pela qual os tratados internacionais encontram-se no mesmo patamar dos direitos nacionais na garantia de proteção aos direitos humanos.
- B** A Declaração Universal dos Direitos Humanos, detentora de força jurídica obrigatória e vinculante, além de fixar um elenco de direitos e liberdades fundamentais a serem garantidos pelos Estados-partes, determina as sanções aplicáveis no caso de seu descumprimento.
- C** O Protocolo Facultativo ao Pacto Internacional dos Direitos Civis e Políticos estabelece um sistema de petições mediante o qual os indivíduos dispõem de capacidade processual internacional. Assim, indivíduos que aleguem ter sido vítimas de violação, pelos Estados-partes, de quaisquer dos direitos enunciados no Pacto podem apresentar ao Comitê de Direitos Humanos comunicações denunciando tais violações.
- D** Tanto o Pacto dos Direitos Civis e Políticos quanto o Pacto dos Direitos Econômicos, Sociais e Culturais estabelecem direitos endereçados aos indivíduos, e não aos Estados.
- E** Como documento que elevou a promoção dos direitos humanos a propósito e finalidade dos países da Organização dos Direitos Humanos, a Carta das Nações Unidas, de 1948, determina a importância de defender e respeitar os direitos humanos e as liberdades fundamentais, definindo com precisão o conteúdo dessas expressões.

**QUESTÃO 48**

Considerando a Convenção Americana sobre Direitos Humanos (CADH) — Pacto de San José da Costa Rica —, assinale a opção correta.

- A** O Brasil é parte integrante da CADH desde julho de 1978, data que assinala o momento em que ela entrou em vigor em razão do depósito do décimo primeiro instrumento de ratificação, conforme previsto no texto desse documento.
- B** A CADH, ao estabelecer um aparato de monitoramento e implementação dos direitos que enuncia, elege a Comissão Interamericana de Direitos Humanos como a única instância competente para conhecer de assuntos relacionados com o cumprimento dos compromissos assumidos pelos Estados-partes.
- C** O universo de direitos civis e políticos previstos na CADH inclui o direito ao reconhecimento da personalidade jurídica, o direito de circulação e de residência e o direito de participar da condução dos assuntos públicos, diretamente ou por meio de representantes livremente eleitos.
- D** O Brasil e os demais países signatários da CADH reconhecem o direito automático de visitas e inspeções *in loco* de representantes da Comissão Interamericana de Direitos Humanos no Estado objeto de denúncias relativas à violação de direitos consagrados na CADH.
- E** A CADH enuncia, de forma específica, os direitos sociais, culturais e econômicos que os Estados-partes devem garantir mediante a adoção de medidas legislativas e de políticas de caráter administrativo.

**QUESTÃO 49**

Acerca de inquérito policial (IP), assinale a opção correta.

- A** O IP para investigar crime de homicídio pode ser instaurado exclusivamente com base em denúncia anônima recebida pela autoridade policial.
- B** A conclusão do IP deverá ser efetivada no prazo de dez dias, caso tenha sido instaurado mediante auto de prisão em flagrante ou mediante cumprimento de prisão preventiva do indiciado, contando-se o prazo a partir do dia em que tiver sido cumprida a ordem de prisão, ou no prazo de trinta dias, quando o indiciado estiver solto.
- C** O IP pode ser arquivado pela autoridade policial, desde que comprovado que o fato não constitui crime.
- D** Nos crimes de ação penal privada, a autoridade policial poderá instaurar de ofício o IP e notificar o ofendido para apresentar ou não queixa no prazo de trinta dias.
- E** Instaurado IP mediante portaria da autoridade policial por crime de roubo comunicado pela vítima, admite-se contraditório em todas as fases da investigação policial.

**QUESTÃO 50**

A respeito do IP, assinale a opção correta.

- A** Logo que tiver conhecimento da prática da infração penal, a autoridade policial deverá dirigir-se ao local do fato, apreender os objetos que com ele tiverem relação e encaminhá-los aos peritos criminais.
- B** Qualquer pessoa que tiver conhecimento da existência de qualquer infração penal poderá comunicá-la à autoridade policial, e esta, verificada a procedência das informações, mandará instaurar inquérito.
- C** O indiciado poderá requerer diligências à autoridade policial.
- D** O princípio da publicidade nos atos proíbe a decretação de sigilo no IP.
- E** Ao fazer a remessa dos autos do IP ao juiz competente, a autoridade policial representará ao Ministério Público para que requeira ao juiz providenciar, no instituto de identificação, a inserção de dados relativos à infração penal e à pessoa do indiciado.

**QUESTÃO 51**

Uma intervenção da União em um estado da Federação para pôr termo a grave comprometimento da ordem pública

- A** deveria ser decretada mediante emenda à CF.
- B** deveria ser previamente autorizada pela assembleia legislativa do referido estado.
- C** só poderia ser decretada pelo presidente da República.
- D** seria terminantemente proibida, de acordo com a CF.
- E** seria inconstitucional porque a intervenção federal somente é cabível no caso de guerra declarada.

**QUESTÃO 52**

Um oficial da PMAL, que exerce suas atividades em Maceió – AL, solicitou a concessão de determinada licença, prevista em lei, mas essa solicitação foi indeferida.

Nessa situação hipotética, para impugnar judicialmente o respectivo ato de indeferimento, o oficial deve ingressar com ação judicial na

- A** justiça militar da União.
- B** justiça militar de Alagoas.
- C** justiça municipal de Maceió – AL.
- D** justiça estadual de Alagoas.
- E** justiça do trabalho.

**QUESTÃO 53**

De acordo com o que dispõe a CF, compete ao Ministério Público

- A** autorizar escutas telefônicas nos casos de inquérito civil.
- B** determinar a prisão provisória, por até trinta dias, de servidores acusados de corrupção.
- C** representar judicialmente a União nos casos de ação direta de inconstitucionalidade.
- D** exercer o controle externo da atividade policial.
- E** julgar os servidores públicos pela prática de atos de improbidade administrativa.

**QUESTÃO 54**

De acordo com o disposto na Constituição do Estado de Alagoas,

- A** apenas os municípios com mais de vinte mil habitantes poderão constituir guardas municipais.
- B** as guardas municipais, no que se refere às atividades operacionais, serão supervisionadas pela PMAL.
- C** o cargo de comandante-geral da PMAL será exercido pelo governador de Alagoas, que poderá delegá-lo ao secretário de Estado de defesa social.
- D** é vedado ao Corpo de Bombeiros Militar executar atividades de defesa civil, uma vez que esse órgão é formado integralmente por servidores militares.
- E** a PMAL pode exercer atividades de polícia judiciária nos casos que forem determinados por decreto específico expedido pelo governador de Alagoas.

**QUESTÃO 55**

Uma licitação na modalidade pregão

- A** pode ser realizada na forma eletrônica, envolvendo sessão pública realizada por meio de sistema que promova a comunicação pela Internet.
- B** pode ser limitada a empresas previamente escolhidas pela administração.
- C** pode ser do tipo técnica e preço.
- D** pode ter por objeto a contratação de serviços técnicos especializados.
- E** pode ser do tipo melhor técnica.

**QUESTÃO 56**

Um agente de trânsito, em obediência ao Código de Trânsito Brasileiro (CTB), autuou um motorista por ter este estacionado o veículo a uma distância de 50 cm da guia da calçada. Entretanto, após realizar a medição exata da distância, o agente percebeu que o veículo estava parado a apenas 45 cm do meio-fio, situação que, de acordo com o CTB, não constitui motivo para autuação.

Nessa situação hipotética, o agente

- A** não poderá anular o ato de autuação, em virtude do princípio da autoexecutoriedade, que somente permite a invalidação do ato mediante recurso movido pelo interessado.
- B** deverá anular a autuação em virtude de ter percebido a ilegalidade do ato.
- C** não poderá invalidar a autuação, em virtude da presunção de legitimidade dos atos administrativos.
- D** poderá revogar o ato de autuação, uma vez que se trata de ato discricionário praticado sem a devida caracterização de conveniência e oportunidade.
- E** não poderá anular o ato de autuação, mas poderá fazer um recurso de ofício ao seu superior imediato, solicitando a revogação da autuação.



**QUESTÃO 57**

Ao oficial da PMAL

- A** é permitido acumular seu cargo com um cargo de magistério de ensino fundamental exercido na rede pública estadual de ensino, desde que haja compatibilidade de horários.
- B** é permitido acumular seu cargo com um cargo de magistério superior exercido em universidade federal, desde que haja compatibilidade de horários, visto que os dois cargos são de níveis federativos diversos.
- C** é proibida a remuneração mediante subsídio, pois a CF veda a utilização dessa modalidade remuneratória no caso de servidores militares.
- D** poderá ser concedida licença da corporação, por até dez anos, para exercer cargos em comissão na Secretaria de Estado de Defesa Social de Alagoas. Findo esse prazo, ele deverá optar entre voltar ao serviço militar ativo ou ser transferido para a reserva.
- E** é vedado acumular seu cargo com qualquer outro cargo público remunerado.

**QUESTÃO 58**

Um prédio pertencente ao patrimônio do estado de Alagoas, no qual esteja instalada uma delegacia da Polícia Civil desse estado, é um

- A** bem público disponível, já que está à disposição da Polícia Civil.
- B** bem prescritível porque somente a lei poderá desafetá-lo da referida atividade.
- C** bem público de uso comum do povo, visto que nele se presta serviço público voltado a toda a população.
- D** bem público de uso especial, visto que as atividades nele desenvolvidas são voltadas à prestação de um serviço público específico.
- E** bem dominical, pois pertence ao patrimônio do Estado.

**QUESTÃO 59**

Durante a desocupação de uma via pública em que estudantes manifestavam-se contra atos do governo, um oficial da polícia militar verificou que um dos soldados sob seu comando utilizava força excessiva, agredindo os manifestantes desnecessariamente com o uso de cassetete. Diante dessa atitude, o oficial ordenou que o soldado se contivesse e atuasse de forma mais moderada.

Nessa situação hipotética, a ordem dada pelo oficial caracterizou o exercício do poder

- A** discricionário, uma vez que descreveu a forma correta como o soldado deveria se portar.
- B** disciplinar, tendo em vista que objetivou a manutenção da disciplina dos subordinados.
- C** de polícia administrativa, tendo em vista que se tratou de uma ordem policial.
- D** hierárquico, tendo em vista que configurou uma ordem dirigida a um subordinado na cadeia de comando.
- E** regulamentar, tendo em vista que configurou uma determinação regulamentadora do comportamento do soldado.

**QUESTÃO 60**

Um oficial da PMAL, no exercício de suas funções, percebeu que um cidadão que se encontrava sozinho à noite em um ponto de ônibus condizia com a descrição de uma pessoa que havia praticado um furto em região próxima, há cerca de uma hora. Em seguida, o oficial abordou o mencionado cidadão e determinou que ele se identificasse.

Nessa situação, a determinação do oficial

- A** foi inconstitucional, tendo em vista que a abordagem policial, sem mandado judicial, no período noturno, é vedada pela CF.
- B** não consistiu em ato administrativo, uma vez que o referido ato não pode ser anulado por ordem judicial.
- C** caracterizou um ato administrativo vinculado, porque o cidadão em apreço tinha o dever de obedecer à determinação que lhe foi feita.
- D** consistiu em ato administrativo dotado de imperatividade, visto que esse ato impôs um dever ao cidadão.
- E** consistiu em ato administrativo dotado de presunção de legitimidade, porque o controle judicial da legalidade do referido ato é vedado pela CF.

## PROVA DISCURSIVA

- Nesta prova, faça o que se pede, usando, caso deseje, o espaço para rascunho indicado no presente caderno. Em seguida, transcreva o texto para a **FOLHA DE TEXTO DEFINITIVO DA PROVA DISCURSIVA**, no local apropriado, pois **não será avaliado fragmento de texto escrito em local indevido**.
- Qualquer fragmento de texto além da extensão máxima de linhas será desconsiderado.
- Ao domínio do conteúdo serão atribuídos até **5 pontos**, dos quais até **0,50 ponto** será atribuído ao quesito apresentação e estrutura textual (legibilidade, respeito às margens e indicação de parágrafos).

Segundo o Ministério da Justiça, são assassinadas, por ano, no Brasil, nada menos que 50 mil pessoas, média de 136 mortes por dia, número equivalente ao observado em guerras civis. Ressalte-se que esses números referem-se às vítimas que morrem no local do crime. Não há dados a respeito das que morrem posteriormente em decorrência das agressões. São vítimas, na quase totalidade, do crime organizado, cujo epicentro é o tráfico de drogas. De acordo com o segundo Levantamento Nacional de Álcool e Drogas, o Brasil é o segundo maior mercado consumidor mundial de cocaína e derivados, com 20% do mercado global, e o maior mercado de *crack*. Nada menos.

Kátia Abreu. **Drogas, a peste do século**. In: **Folha de S.Paulo**, 8/9/2012, p. B5 (com adaptações).

Considerando que o fragmento de texto acima tem caráter unicamente motivador, redija um texto dissertativo acerca do tema a seguir.

### **DROGAS E VIOLÊNCIA: A NECESSÁRIA ATUAÇÃO DO ESTADO**

Ao elaborar seu texto, aborde, necessariamente, os seguintes aspectos:

- ▶ narcotráfico como símbolo do crime organizado em escala global; [valor: 1,50 ponto]
- ▶ relação entre drogas (produção, comercialização e consumo) e violência; [valor: 1,50 ponto]
- ▶ ação esperada do poder público diante do problema das drogas e do crime organizado. [valor: 1,50 ponto]

**RASCUNHO**

1	
2	
3	
4	
5	
6	
7	
8	
9	
10	
11	
12	
13	
14	
15	
16	
17	
18	
19	
20	
21	
22	
23	
24	
25	
26	
27	
28	
29	
30	



**cespeUnB**

Centro de Seleção e de Promoção de Eventos

**POLÍCIA MILITAR DO ESTADO DE ALAGOAS (PMAL)  
CONCURSO PÚBLICO PARA PREENCHIMENTO DE VAGAS E FORMAÇÃO DE CADASTRO RESERVA PARA  
ADMISSÃO AO 1º ANO DO CURSO DE FORMAÇÃO NOS CARGOS DE OFICIAL COMBATENTE E DE SOLDADO  
COMBATENTE**



**Aplicação: 30/9/2012  
Cargo 1: Oficial Combatente**

**GABARITOS OFICIAIS DEFINITIVOS**

Obs.: ( X ) questão anulada.

	1	2	3	4	5	6	7	8	9	10	8	9	10	11	12	13	14	15	16	17
Questão																				
Gabarito	E	C	E	A	E	E	E	E	E	C	E	D	D	B	A	D	D	B	D	A
Questão	18	19	20	21	22	23	24	25	26	27	28	29	30	31	32	33	34	35	36	37
Gabarito	E	A	E	D	D	B	C	D	C	E	E	E	D	D	D	C	C	D	D	B
Questão	38	39	40	41	42	43	44	45	46	47	48	49	50	51	52	53	54	55	56	57
Gabarito	D	D	C	C	A	B	C	X	D	C	C	B	C	C	D	D	B	A	B	E
Questão	58	59	60																	
Gabarito	D	D	D																	

PMAL12\_001\_01

 LÍNGUA INGLESA  
 LÍNGUA ESPANHOLA