



**POLÍCIA MILITAR DO ESTADO DE SÃO PAULO  
DIRETORIA DE PESSOAL**

Concurso Público

**001. PROVA OBJETIVA – PARTE I**

**Soldado PM de 2ª Classe**

- ◆ Você recebeu sua folha de respostas, este caderno, contendo 60 questões objetivas e um tema de redação a ser desenvolvido, e a folha de redação para transcrição do texto definitivo.
- ◆ Confira seus dados impressos na capa deste caderno e nas folhas de respostas e de redação.
- ◆ Quando for permitido abrir o caderno, verifique se está completo ou se apresenta imperfeições. Caso haja algum problema, informe ao fiscal da sala para a devida substituição desse caderno.
- ◆ A folha de redação deverá ser assinada apenas no local indicado; qualquer identificação ou marca feita pelo candidato no verso da folha de redação, que possa permitir sua identificação, acarretará a atribuição de nota zero à redação.
- ◆ Redija o texto definitivo e preencha a folha de respostas com caneta de tinta preta, preferencialmente, ou azul. Os rascunhos não serão considerados na correção. A ilegibilidade da letra acarretará prejuízo à nota do candidato.
- ◆ A duração das provas objetiva e de redação é de 4 horas, já incluído o tempo para o preenchimento da folha de respostas e para a transcrição do texto definitivo.
- ◆ Só será permitida a saída definitiva da sala e do prédio após transcorridos 75% do tempo de duração das provas.
- ◆ Deverão permanecer em cada uma das salas de prova os 3 últimos candidatos, até que o último deles entregue sua prova, assinando termo respectivo.
- ◆ Ao sair, você entregará ao fiscal a folha de redação, a folha de respostas e este caderno.
- ◆ Até que você saia do prédio, todas as proibições e orientações continuam válidas.

Nome do candidato \_\_\_\_\_

RG \_\_\_\_\_

Inscrição \_\_\_\_\_

Prédio \_\_\_\_\_

Sala \_\_\_\_\_

Carteira \_\_\_\_\_

**AGUARDE A ORDEM DO FISCAL PARA ABRIR ESTE CADERNO.**



## LÍNGUA PORTUGUESA E INTERPRETAÇÃO DE TEXTO

Leia o texto, para responder às questões de números **01** a **13**.

É conceito da moda. Usam em encontros motivadores. Na Física, é a volta à forma original após uma deformação. O termo se origina da capacidade de ricochetear, de saltar novamente. Por extensão, usamos para falar de quem sofre pressão e consegue manter seus objetivos.

Uma pessoa resiliente ideal teria três camadas. Na primeira, suporta: recebe o golpe sem desabar. Ouve a crítica e não “desaba”, vive a frustração sem descontrole, experiencia a dor e continua de pé. A primeira etapa da resiliência é administrar o golpe, o revés, o erro, a decepção. O tipo ideal que estamos tratando sabe a extensão da dor, mas se considera (ou é de fato) mais forte do que as ondas das adversidades.

O segundo estágio é a recuperação/aprendizagem. Combinam-se os dois conceitos. Sinto o golpe, não desmonto (fase um) e ainda recupero a posição anterior ao golpe com o acréscimo de algo novo. Toda dor contém sua lição. Ninguém duvida disso. O resiliente consegue aprender com o golpe sentido.

O terceiro momento do modelo perfeito é a ressignificação da estratégia e da consciência a partir do aprendizado. O tipo aqui descrito nunca se vitimiza, mesmo se for a vítima. Não existe lamúria ou sofrimento para o mundo. A dor existe, foi sentida, houve reação com aprendizado e dele surgiu um novo ser, mais forte e mais sábio.

É bom descrever tipos perfeitos. Quase sempre são inexistentes. São como a biografia de santos medievais: sem falha, diamantes sem jaça; modelos e, como tal, inatingíveis. Existe um propósito didático de mostrar a perfeição para nós que chafurdamos no lodo da existência banal. Todos temos graus variados de resiliência diante da vida. Ninguém é o tipo ideal. Uma coisa não invalida a outra.

Como narrativa de santos, o modelo perfeito serve como para indicar o ponto no qual não me encontro, porém devo reagir para almejá-lo. Sempre é bom ser resiliente e todos os palestrantes e livros têm razão: sem resiliência em algum grau, épico ou homeopático, é impossível enfrentar o mundo.

O conto extraordinário de Kafka, *Um Artista da Fome*, fala de um homem com extrema resiliência para aguentar jejuns prolongados. Era um herói! Ao final, emitiu a verdade surpreendente. Ele não era um homem de vontade férrea, apenas nunca havia encontrado um prato que... o seduzisse realmente. Seu paladar nunca fora tentado. Creio ser a receita geral da resiliência: a serenidade diante das coisas que, na verdade, não nos atingiram. Esperança ajuda sempre.

(Leandro Karnal. Os heróis da resiliência. Disponível em: <https://cultura.estadao.com.br>. Acesso em 20.01.2021. Adaptado)

- 01.** É correto afirmar que, no texto, a descrição da pessoa resiliente
- (A) representa o que cada um de nós é na realidade, apesar da impossibilidade de lutar para vencer as adversidades.
  - (B) projeta um tipo idealizado, dotado de qualidades a serem buscadas no enfrentamento da realidade.
  - (C) simboliza todos os que querem abandonar uma vida banal para dedicar-se a vencer na vida.
  - (D) retrata um ser em desenvolvimento, que deve vencer as resistências que ele próprio se impôs.
  - (E) cria a imagem de um ser que atingiu a perfeição, graças à dedicação aos ensinamentos de livros e palestras.
- 02.** No último parágrafo, o episódio do conto de Kafka é usado pelo autor como
- (A) modelo de comportamento a ser adotado ante as dificuldades que se interpõem no caminho.
  - (B) relato motivador para o leitor, incitando-o a buscar forças para vencer as tentações a que é submetido.
  - (C) interpretação do conceito da Física quando aplicado a situações concretas, independentemente de idealizações.
  - (D) ilustração bem-humorada, para expressar ponto de vista que desconstrói o tipo resiliente ideal.
  - (E) exemplo das qualidades do homem resiliente, capaz de não se deixar abater diante da fome.
- 03.** Os conceitos que caracterizam adequadamente as três camadas da pessoa resiliente, como descritas nos parágrafos 2º, 3º e 4º, são, respectivamente,
- (A) consciência, restauração com excelência, abnegação.
  - (B) coerência, dedicação com mérito, desdobraimento.
  - (C) consistência, reação com sabedoria, recuperação.
  - (D) resistência, restabelecimento com conhecimento, revitalização.
  - (E) persistência, resgate com fortalecimento, desprendimento.

04. Observe os trechos destacados nas passagens seguintes.

Na primeira, suporta: recebe o golpe **sem desabar**.  
(2º parágrafo)

O resiliente consegue aprender **com o golpe sentido**  
(3º parágrafo)

Esses trechos expressam, nos contextos em que se encontram, as noções, respectivamente, de

- (A) modo e tempo.
- (B) oposição e condição.
- (C) tempo e conformidade.
- (D) causa e companhia.
- (E) modo e causa.

05. Observe a relação de sentido estabelecida pela conjunção “e” entre os enunciados da passagem – Ouve a crítica e não “desaba”. Essa mesma relação de sentido está presente em:

- (A) São [...] modelos **e**, como tal, inatingíveis.
- (B) O terceiro momento do modelo perfeito é a resignificação da estratégia **e** da consciência...
- (C) ... não desmonto (fase um) **e** ainda recupero a posição anterior ao golpe...
- (D) Sempre é bom ser resiliente **e** todos os palestrantes e livros têm razão...
- (E) ... experiencia a dor **e** continua de pé...

06. Assinale a alternativa que reescreve o trecho destacado na passagem – O tipo aqui descrito nunca se vitimiza, **mesmo se for a vítima**. –, preservando o sentido original.

- (A) ainda que seja a vítima.
- (B) salvo se for a vítima.
- (C) contanto que seja a vítima.
- (D) exceto se for a vítima.
- (E) desde que seja a vítima.

07. Observe o emprego dos parênteses e dos dois-pontos nas passagens.

O tipo ideal que estamos tratando sabe a extensão da dor, mas se considera (ou é de fato) mais forte do que as ondas das adversidades.

Sempre é bom ser resiliente e todos os palestrantes e livros têm razão: sem resiliência em algum grau, épico ou homeopático, é impossível enfrentar o mundo.

É correto afirmar que

- (A) tanto os parênteses quanto os dois-pontos introduzem comentários que ratificam o sentido das afirmações anteriores.
- (B) os parênteses isolam um comentário que reitera uma afirmação anterior; os dois-pontos introduzem um comentário que retifica uma afirmação anterior.
- (C) os parênteses isolam um comentário que se põe como alternativa a uma afirmação anterior; os dois-pontos introduzem um comentário que reforça a afirmação anterior.
- (D) tanto os parênteses quanto os dois-pontos introduzem comentários com intuito de levar o leitor a discordar do ponto de vista do autor.
- (E) os parênteses isolam um comentário que reduz o sentido da afirmação anterior; os dois-pontos introduzem um esclarecimento genérico acerca da afirmação anterior.

08. Nas passagens – Sinto o golpe, não desmonto (fase um) e **ainda** recupero a posição anterior ao golpe, com o acréscimo de algo novo. / **Quase** sempre são in-existentes. – os termos destacados expressam nesses contextos, respectivamente, as noções de

- (A) inclusão e generalização.
- (B) tempo presente e diferenciação.
- (C) ação em curso e negação.
- (D) passado recente e aproximação.
- (E) acréscimo e relativização.

09. Assinale a alternativa em que o pronome destacado pode ser colocado antes ou depois do verbo, segundo a norma-padrão.

- (A) ... nunca havia encontrado um prato que... **o** seduzisse realmente.
- (B) ... sabe a extensão da dor, mas **se** considera (ou é de fato) mais forte...
- (C) O tipo aqui descrito nunca **se** vitimiza...
- (D) Combinam-**se** os dois conceitos.
- (E) ...serve como para indicar o ponto no qual não **me** encontro.

10. Se no início de cada enunciado da passagem – Todos temos graus variados de resiliência diante da vida. Ninguém é o tipo ideal. Uma coisa não invalida a outra. – for incluído o termo “Talvez”, a sequência coerente será:

- (A) Talvez todos tenhamos graus variados de resiliência diante da vida. Talvez ninguém seria o tipo ideal. Talvez uma coisa não invalidava a outra.
- (B) Talvez todos teríamos graus variados de resiliência diante da vida. Talvez ninguém fora o tipo ideal. Talvez uma coisa não invalidou a outra.
- (C) Talvez todos temos tido graus variados de resiliência diante da vida. Talvez ninguém foi o tipo ideal. Talvez uma coisa não invalida a outra.
- (D) Talvez todos tenhamos graus variados de resiliência diante da vida. Talvez ninguém seja o tipo ideal. Talvez uma coisa não invalide a outra.
- (E) Talvez todos tínhamos graus variados de resiliência diante da vida. Talvez ninguém era o tipo ideal. Talvez uma coisa não invalidava a outra.

11. Com as modificações feitas, as passagens – Não existe lamúria ou sofrimento para o mundo. A dor existe, foi sentida, houve reação com aprendizado... –, estão de acordo com a norma-padrão de concordância verbal em:

- (A) Não se registra lamúrias ou sofrimento para o mundo. Está aí as dores, sentiu-se, aconteceram reações com aprendizado...
- (B) Não se registra lamúrias ou sofrimento para o mundo. Há dores, foram sentidas, aconteceu reações com aprendizado...
- (C) Não há lamúrias ou sofrimento para o mundo. As dores existem, sentiram-se, houve reações com aprendizado...
- (D) Não haviam lamúrias ou sofrimento para o mundo. Existia dores, eram sentidas, houveram reações com aprendizado...
- (E) Não houve lamúrias ou sofrimento para o mundo. Houveram dores, foram sentidas, aconteceu reações com aprendizado...

12. É correto afirmar que as palavras destacadas nas passagens – ... sem falha, diamantes sem **jaça**... (5º parágrafo) / Ele não era um homem de vontade **férrea**... (último parágrafo) – têm sinônimos adequados, respectivamente, em

- (A) mácula e inquebrantável.
- (B) pureza e cruel.
- (C) valor e inflexível.
- (D) defeito e falível.
- (E) perfeição e desumana.

13. Assinale a alternativa que possui apenas palavras empregadas em sentido próprio.

- (A) ... sem resiliência em algum grau, épico ou homeopático, é impossível enfrentar o mundo.
- (B) ... mostrar a perfeição para nós que chafurdamos no lodo da existência banal.
- (C) O termo se origina da capacidade de ricochetear, de saltar novamente.
- (D) Ouve a crítica e não “desaba”, vive a frustração sem descontrole, experiencia a dor e continua de pé.
- (E) ... sabe a extensão da dor, mas se considera (ou é de fato) mais forte do que as ondas das adversidades.

14. Leia a tira.



(Alexandre Beck. Armandinho.

Disponível em: google.com.br. Acesso em 24.01.2021)

Tendo em vista a fala de Armandinho, é correto afirmar que o efeito de sentido da tira consiste em

- (A) tecer um comentário pertinente acerca de certos hábitos infantis que devem ser vigiados pelos pais.
- (B) tecer uma crítica explícita ao comportamento infantil de levar boneca a passear, como se fosse um bebê.
- (C) corroborar a visão preconceituosa acerca das responsabilidades femininas de cuidar dos filhos.
- (D) corroborar o senso comum segundo o qual há brinquedos que são, na prática, exclusividade de meninas.
- (E) tecer uma crítica implícita ao estereótipo que considera que cuidar dos filhos é tarefa feminina.

Leia o texto, para responder às questões de números **15 a 20**.

Nos anos 30, milhões de americanos foram atingidos pelos efeitos calamitosos da Grande Depressão — e não foi diferente com Napoleon Hill (1883-1970). Empreendedor que saltava de galho em galho, e naquela altura tentava a sorte como escritor, ele sobrevivia do socorro financeiro da família da esposa — isso, até o divórcio arrastá-lo ao fundo do poço. Mas Hill encontrou uma forma de dar a volta por cima: se ele não podia lutar contra a ruína econômica, por que não lucrar com ela? Com base em seu próprio desalento, escreveu o que viria a ser seu maior sucesso, *Quem Pensa Enriquece* (1937). Hoje com 120 milhões de cópias vendidas, a obra foi pioneira em explorar uma premissa básica do aconselhamento motivacional: com determinação e pensamentos positivos, qualquer um pode vencer na vida.

Que a literatura de Hill tenha conservado seu apelo ao longo das décadas não chega a ser surpresa. Ele foi, afinal, um dos inventores da autoajuda moderna. Não deixa de ser uma ironia, contudo, seu súbito empoderamento no Brasil da pandemia, da crise econômica e da polarização tóxica. *Mais Esperto que o Diabo*, livro que o americano fez em 1938 e ganhou edição no Brasil em 2014, atropelou o mercado editorial no ano passado. Isso mesmo: a obra de autoajuda dos anos 30 foi o livro mais vendido do país em 2020, com 234 000 cópias comercializadas.

A ascensão do título coroou um movimento que se delineava desde 2019, quando o líder do ranking foi *Como Fazer Amigos e Influenciar Pessoas* (1936), de Dale Carnegie (1888-1955) — outro autor que fez fama à sombra da Grande Depressão. “Vivemos um período de medo, o que aumentou a busca por livros de superação”, diz o editor Marcial Conte Jr. Inebriado pela obra de Hill, Conte Jr. largou o ramo farmacêutico para se dedicar ao editorial e, junto de outros empresários, criou a Citadel, casa de *Mais Esperto que o Diabo*.

Hill escreveu a obra em 1938, na esteira de *Quem Pensa Enriquece*. O livro, contudo, foi engavetado por veto de dona Annie Lou, última das cinco esposas do autor, por questões religiosas. Além da menção ao dito-cujo no título, o manual é todo construído em torno de uma fictícia entrevista entre o autor e o diabo — que exige ser chamado de “Sua Majestade”. Hill usa a metáfora demoníaca para denunciar os pensamentos negativos como fonte insidiosa de toda infelicidade. Essa pérola só seria publicada pela primeira vez nos Estados Unidos em 2011.

(Raquel Carneiro, *O pai da autoajuda*. *Veja*, 27-01-2021)

**15.** Tratando de um livro escrito em 1938, a matéria de *Veja* destaca

- (A) a reapropriação, hoje, de um tema que desperta interesse por estar associado a períodos de crise.
- (B) o sucesso editorial, nos dias atuais, de *Quem Pensa Enriquece*, graças à reedição pela Citadel.
- (C) o empreendimento editorial mais bem sucedido de 2020 e sua relação com os insucessos do mercado livreiro.
- (D) a relação entre a obra de Dale Carnegie e os eventos que antecederam a Grande Depressão nos Estados Unidos.
- (E) a necessidade de superar obstáculos nos momentos de dificuldade e a falta de obras de autoajuda no Brasil.

**16.** É correto afirmar que o texto, de natureza

- (A) polêmica, tem caráter argumentativo e emprega expressões em sentido próprio, tais como “premissa básica do aconselhamento motivacional” e “Essa pérola só seria publicada pela primeira vez nos Estados Unidos em 2011.”.
- (B) jornalística, tem caráter informativo e emprega expressões em sentido figurado, tais como “saltava de galho em galho” e “dar a volta por cima”.
- (C) opinativa, tem caráter educativo e emprega expressões em sentido próprio, tais como “autor que fez fama à sombra da Grande Depressão” e “atropelou o mercado editorial”.
- (D) científica, tem caráter explicativo e emprega expressões em sentido figurado, tais como “lutar contra a ruína econômica” e “sobrevivia do socorro financeiro da família da esposa”.
- (E) religiosa, tem caráter doutrinador e emprega expressões em sentido figurado, tais como “foi engavetado por veto de dona Annie Lou” e “uma fictícia entrevista entre o autor e o diabo”.

**17.** As expressões **desalento** (Com base em seu próprio desalento...) e **ascensão** (A ascensão do título coroou um movimento...) têm antônimos, correta e respectivamente, em:

- (A) esperança e escalada.
- (B) desconfiança e descida.
- (C) indefinição e queda.
- (D) ânimo e declínio.
- (E) contentamento e contenção.

18. Na passagem do primeiro parágrafo – ... **naquela altura** tentava a sorte como escritor –, a expressão destacada faz referência
- (A) ao período em que se divorciou.
  - (B) à época de seu nascimento.
  - (C) ao momento da opção por ser escritor.
  - (D) ao salto de galho em galho.
  - (E) ao período da Grande Depressão.
19. A alternativa em que a passagem do texto está reescrita de acordo com a norma-padrão de concordância nominal é:
- (A) O movimento centrado em obras de superação viu-se coroado com a ascensão do título de Hill.
  - (B) Seu súbito empoderamento no Brasil da pandemia não deixa de ser, de certa forma, irônica.
  - (C) Vetado, graças à decisão de dona Annie Lou, a obra de Hill está no topo das preferências dos brasileiros.
  - (D) Não chega a ser surpresa que o apelo da literatura de Hill ao longo das décadas tenha sido conservada.
  - (E) Sabe-se que a convicção religiosa de dona Anne Lou, esposa do escritor, foi decisivo para que o livro ficasse engavetado por anos.
20. Assinale a alternativa em que a passagem do texto está reescrita de acordo com a norma-padrão de regência verbal e emprego do sinal de crase.
- (A) Conte Jr. largou o ramo farmacêutico comprometendo-se à trabalhar no ramo editorial.
  - (B) Se ele não podia opor-se à ruína econômica, por que não lucrar com ela?
  - (C) Efeitos calamitosos da Grande Depressão atingiram à milhões de americanos nos anos 30.
  - (D) O socorro financeiro da família da esposa garantia à sobrevivência de Hill.
  - (E) Vivemos um período de medo, o que levou à uma maior busca por livros de superação.

21. Leia a notícia veiculada em um jornal digital.

**0,5%**

das áreas no Brasil onde sistemas de satélite registraram desmate em 2019 têm autorização para o corte raso das árvores, segundo estudo produzido pelo MapBiomias

(www.nexojournal.com.br)

Uma frase que substitui corretamente o dado apresentado na reportagem está indicada em:

- (A) 1 em cada 2 metros quadrados onde sistemas de satélite registraram desmate em 2019 no Brasil tem autorização para o corte raso das árvores.
- (B) 5 em cada 100 metros quadrados onde sistemas de satélite registraram desmate em 2019 no Brasil têm autorização para o corte raso das árvores.
- (C) 1 em cada 200 metros quadrados onde sistemas de satélite registraram desmate em 2019 no Brasil tem autorização para o corte raso das árvores.
- (D) 0,5 em cada 1 000 metros quadrados onde sistemas de satélite registraram desmate em 2019 no Brasil tem autorização para o corte raso das árvores.
- (E) 1 em cada 5 metros quadrados onde sistemas de satélite registraram desmate em 2019 no Brasil tem autorização para o corte raso das árvores.

**R A S C U N H O**

22. Monges cistercienses desenvolveram no fim do século 13 uma escrita numérica usada em mosteiros de toda a Europa por pelo menos mais de dois séculos. Essa escrita oferecia a possibilidade de representar números com um único símbolo e era baseada nos seguintes caracteres:

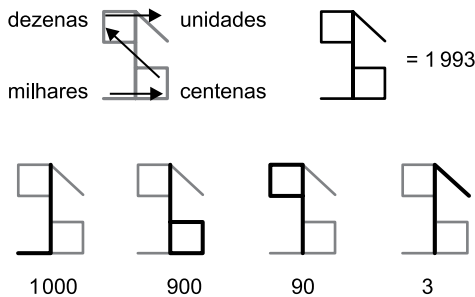
1	2	3	4	5	6	7	8	9
10	20	30	40	50	60	70	80	90
100	200	300	400	500	600	700	800	900
1000	2000	3000	4000	5000	6000	7000	8000	9000

São exemplos de números escritos com a simbologia cisterciense:

1993	4723	6859	7085	9433

(<https://www.bbc.com/portuguese>. Adaptado)

Para poder interpretar o símbolo cisterciense é preciso saber lê-lo, conforme ilustração a seguir:



(<https://www.bbc.com/portuguese>. Adaptado)

Interprete o símbolo a seguir e assinale a alternativa que indica o número que ele representa.



- (A) 4730.
- (B) 5703.
- (C) 5630.
- (D) 4603.
- (E) 4703.



23. Uma empresa está propondo a implementação de eletrificação da frota de ônibus coletivos de uma cidade. O projeto envolve a venda do ônibus elétrico e o aluguel da bateria pelo período de 10 anos, no qual a empresa se responsabiliza pelo fornecimento, manutenção e recarga da bateria. Para esse período, o projeto determina um custo de R\$1.860.000,00 por ônibus. Segundo a empresa, a grande vantagem desse projeto é que a parte desse custo, referente ao aluguel das baterias, é pago com mensalidades fixas de R\$10.000,00, que é o valor aproximado do gasto mensal com diesel dos ônibus convencionais.

Descontado o valor do aluguel da bateria, tem-se que esse projeto considera a venda do ônibus elétrico no valor de

- (A) R\$ 1.740.000,00.
- (B) R\$ 860.000,00.
- (C) R\$ 1.760.000,00.
- (D) R\$ 660.000,00.
- (E) R\$ 760.000,00.

24. Uma reportagem lançada em 2015 trazia que, segundo o Livro *Guinness* dos Recordes, o lago Maracaibo, na Venezuela, era o lugar com a mais alta concentração de relâmpagos do mundo, com 250 deles por quilômetro quadrado, todo ano. O número de tempestades atinge seu ponto mais espetacular no ápice da estação chuvosa, em outubro, quando os registros indicam uma média de 40 mil relâmpagos por dia.

Sendo assim, nesses dias de ápice, a média de relâmpagos por minuto é de, aproximadamente,

- (A) 333.
- (B) 28.
- (C) 16.
- (D) 33.
- (E) 275.

Utilize as informações a seguir para responder às questões de números **25** e **26**.

No final de 2020, uma aeronave da Força Aérea Britânica obteve novas imagens do maior *iceberg* do mundo, enquanto este flutua pelo sul do oceano Atlântico, ao leste da Argentina. Conhecido como A68a, as imagens do *iceberg* mostraram que o tamanho de sua superfície era de 4,2 mil quilômetros quadrados, um valor 30% menor do que o registrado em julho de 2017, quando o A68a se desprendeu de um bloco de gelo da Antártida.

**25.** Quando se desprendeu de um bloco de gelo da Antártida, o tamanho da superfície do *iceberg* A68a, em milhares de quilômetros quadrados, era igual a

- (A) 6,0.
- (B) 5,5.
- (C) 4,5.
- (D) 5,0.
- (E) 5,4.

**26.** Considere um campo de futebol retangular, medindo 100 metros de comprimento por 70 metros de largura. A área de 4,2 mil quilômetros quadrados ocupada pelo *iceberg* no final de 2020 equivale a quantos desses campos de futebol?

- (A) 6 000.
- (B) 600.
- (C) 600 000.
- (D) 60 000.
- (E) 6 000 000.

**27.** Um pequeno cultivador de café está estudando maneiras de agregar valor na venda do café produzido em sua propriedade e aumentar seu lucro. Até então, cada quilograma de café seco vendido retornava um lucro de R\$ 3,50 para esse produtor.

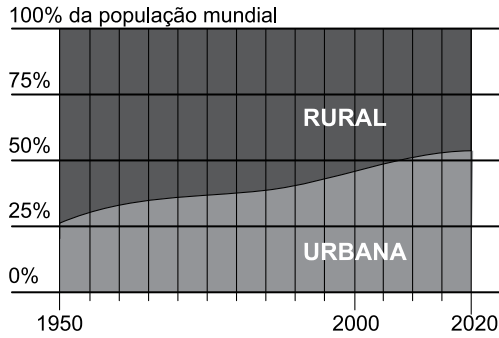
Uma alternativa encontrada foi torrar e moer o café a fim de vendê-lo em cápsulas para uso em máquinas de bebidas. Desse modo, ele venderia cada cápsula com 10 gramas de café torrado e moído por R\$1,50, sendo que o lucro corresponderia a  $\frac{3}{5}$  desse valor de venda.

Considerando que o processo de torrar e moer 1 kg de café seco elimina  $\frac{1}{4}$  dessa quantidade, a nova alternativa de venda fará com que o valor do lucro obtido por quilograma do café seco seja de

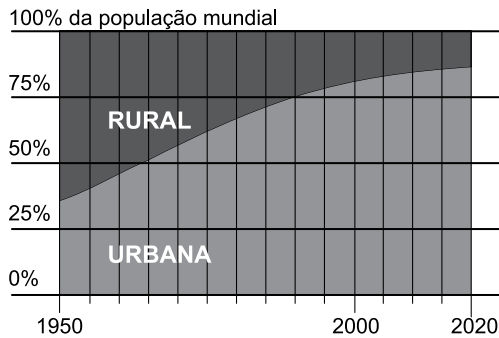
- (A) R\$ 86,50.
- (B) R\$ 67,50.
- (C) R\$ 64,00.
- (D) R\$ 90,00.
- (E) R\$ 112,50.

28. Os gráficos a seguir apresentam a distribuição da população urbana e rural no mundo e no Brasil.

PROPORÇÃO DAS POPULAÇÕES RURAL E URBANA NO MUNDO  
ENTRE 1950 E 2020



PROPORÇÃO DAS POPULAÇÕES RURAL E URBANA NO BRASIL  
ENTRE 1950 E 2020



(<https://www.nexojournal.com.br>. Adaptado)

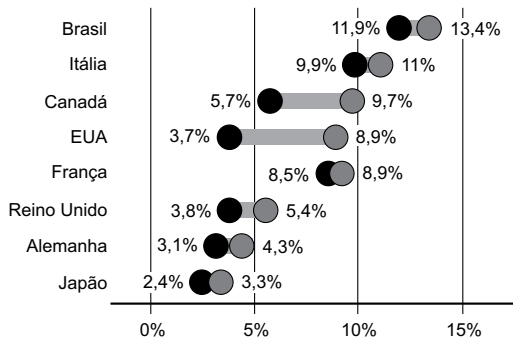
Dado que as marcações verticais relacionadas aos anos de referência estão igualmente espaçadas, ao analisar os dados apresentados, tem-se que a maioria dos habitantes do mundo passaram a viver em áreas urbanas entre os anos de \_\_\_\_\_, enquanto que, no Brasil, isso ocorreu pouco mais de \_\_\_\_\_ anos antes.

Os termos que completam, correta e respectivamente, a frase anterior são:

- (A) 2000 e 2005 ... 50
- (B) 1995 e 2000 ... 50
- (C) 2000 e 2005 ... 40
- (D) 2005 e 2010 ... 50
- (E) 2005 e 2010 ... 40

29. A pandemia da covid-19 afetou as maiores economias do mundo. Uma das maneiras de perceber isso é o aumento na taxa de desemprego em 2020 quando comparado a 2019. O gráfico a seguir mostra o quanto essa taxa aumentou para 8 países.

Variação anual na taxa de desemprego 2019 e 2020 comparados



Fonte: Fundo Monetário Internacional



<https://www.bbc.com/portuguese>

Ao analisar o gráfico, é possível identificar os três países que apresentaram as maiores variações anuais, em pontos percentuais, na taxa de desemprego, sendo que o Brasil \_\_\_\_\_ entre eles. Para esses três países, a média das variações anuais na taxa de desemprego foi igual a \_\_\_\_\_.

Os termos que completam, correta e respectivamente, a frase anterior são:

- (A) não está ... 3,6 pontos percentuais
- (B) está ... 3,5 pontos percentuais
- (C) está ... 2,2 pontos percentuais
- (D) está ... 11,3 pontos percentuais
- (E) não está ... 3,8 pontos percentuais

30. Dados do Levantamento Nacional de Informações Penitenciárias de 2014 mostram que a maioria das pessoas presas no referido ano eram homens, e que tanto para homens quanto para mulheres, o tráfico é o principal tipo de crime pelos quais essas pessoas responderam. Os dois gráficos a seguir retratam essa situação:

GRÁFICO 1

Das pessoas presas no Brasil em 2014

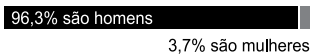
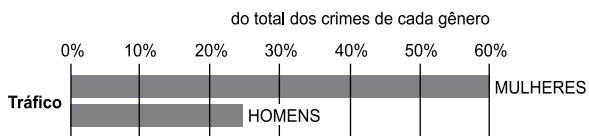


GRÁFICO 2

Os crimes pelos quais esses presos respondem são, proporcionalmente:



(www.nexojornal.com.br. Adaptado)

Segundo os gráficos apresentados, das pessoas presas no Brasil em 2014, as mulheres presas que respondem por tráfico correspondiam a

- (A) 63,70%.
- (B) 2,15%.
- (C) 60,00%.
- (D) 2,22%.
- (E) 2,12%.

31. Uma pesquisa feita com Microempreendedores Individuais (MEI) que encerraram suas atividades teve como objetivo descobrir o principal motivo dessa decisão. Os participantes da pesquisa indicaram um único motivo, sendo que os três motivos mais sinalizados foram:

- 1º motivo: conseguir um emprego
- 2º motivo: não possuir clientes
- 3º motivo: não obter retorno financeiro

Juntos, esses três motivos foram apontados por 54% dos MEI que participaram da pesquisa. Além disso, constatou-se uma diferença de 8 pontos percentuais entre os que indicaram o 1º e o 3º motivo; e que o percentual atribuído ao 2º motivo é igual a média aritmética simples do percentual atribuído ao 1º e 3º motivos.

Sendo assim, conseguir um emprego foi o principal motivo apontado por

- (A) 20% dos participantes da pesquisa.
- (B) 18% dos participantes da pesquisa.
- (C) 22% dos participantes da pesquisa.
- (D) 26% dos participantes da pesquisa.
- (E) 24% dos participantes da pesquisa.

32. Alguns métodos de estimação do tamanho de uma multidão consideram o espaço ocupado por cada pessoa presente no evento. Considere o seguinte método que classifica a multidão nas três categorias a seguir:

Categoria	Densidade
Multidões muito densas	Cada pessoa ocupa até $0,2 \text{ m}^2$
Multidões densas	Cada pessoa ocupa mais de $0,2 \text{ m}^2$ até $0,4 \text{ m}^2$
Multidões leves	Cada pessoa ocupa mais de $0,4 \text{ m}^2$ até $1 \text{ m}^2$

Em um evento que ocorreu numa famosa avenida de SP foram estimadas 200 mil pessoas por volta do meio-dia e 600 mil pessoas ao final da tarde. Considerando que o evento ocupou toda a avenida, que ela é retangular e possui 2,5 km de comprimento e 40 m de largura, para a realização dessa estimativa, as multidões presentes ao meio-dia e ao final da tarde foram classificadas, respectivamente, como

- (A) Multidões densas e Multidões densas.
- (B) Multidões leves e Multidões densas.
- (C) Multidões muito densas e Multidões muito densas.
- (D) Multidões densas e Multidões muito densas.
- (E) Multidões leves e Multidões muito densas.

33. Estudos feitos em 2018 pelo Instituto Trata Brasil, a partir de dados do Sistema Nacional de Informações sobre Saneamento (Snis), mostrou que cerca de 38% da água potável que passa por sistemas de distribuição no Brasil é desperdiçada em vazamentos durante o processo de produção, tratamento e distribuição. Também entram nessa conta desvios ilegais e furtos de água. Esse volume de água equivale a 7 mil piscinas olímpicas de água potável jogadas fora todos os dias.

Considerando que piscinas olímpicas precisam ter um comprimento de 50 metros, uma largura de 25 metros e profundidade mínima de 2 metros, o volume de água potável desperdiçada diariamente nos sistemas de distribuição no Brasil, segundo o estudo citado anteriormente, é de, no mínimo,

- (A) 6,65 milhões de litros.
  - (B) 17,5 bilhões de litros.
  - (C) 2,5 milhões de litros.
  - (D) 6,65 bilhões de litros.
  - (E) 17,5 milhões de litros.
34. Um artigo científico publicado em 2019 mostrou que o crescimento da população e as mudanças climáticas são dois fatores que pressionam o uso da terra no planeta. Na ocasião, 63,7 milhões de  $\text{km}^2$  de terra eram destinados à agricultura ou à pastagem, quase a metade do solo não coberto por gelo nas áreas continentais, que totaliza 130 milhões de  $\text{km}^2$ .

Sendo que a área destinada à pastagem supera a área direcionada à agricultura em 32,5 milhões de  $\text{km}^2$ , a área voltada para a agricultura ocupa das áreas continentais

- (A) entre 10% e 14% do solo não coberto por gelo.
  - (B) menos de 10% do solo não coberto por gelo.
  - (C) entre 14% e 18% do solo não coberto por gelo.
  - (D) mais de 22% do solo não coberto por gelo.
  - (E) entre 18% e 22% do solo não coberto por gelo.
35. Um programa de entrevistas é apresentado simultaneamente na TV aberta e por uma plataforma de vídeos, via internet. Devido a essa estratégia, os responsáveis pelo programa vendem tempos distintos de propagandas para serem veiculadas na TV aberta ou na internet, nos intervalos desse programa. Esses intervalos sempre têm mais de 2 minutos de duração, sendo que o programa é retomado simultaneamente nos dois formatos de transmissão, sem a interrupção de anúncios.

As propagandas vendidas para serem veiculadas na internet possuem 15 segundos de duração, enquanto que as da TV aberta possuem 25 segundos de duração. Assim sendo, o tempo mínimo de duração dos intervalos desse programa é de

- (A) 3 minutos e 15 segundos.
- (B) 3 minutos e 45 segundos.
- (C) 2 minutos e 30 segundos.
- (D) 2 minutos e 50 segundos.
- (E) 3 minutos.

## CONHECIMENTOS GERAIS

### HISTÓRIA GERAL

36. A “Política de Apaziguamento” é um ponto que deve ser analisado com cuidado quando se discute a questão das origens da Segunda Guerra Mundial. Na medida em que a situação internacional tornava-se mais tensa, ao longo da década de 1930, e o militarismo fascista (japonês, italiano e alemão) se agudizava, as potências ocidentais democráticas, aparentemente para evitar um conflito de maiores proporções ou adiar uma confrontação inevitável, fecharam os olhos às agressões do nazifascismo contra regiões e países vizinhos.

(Ricardo de Moura Faria, *História* – volume 3, p. 304. Adaptado)

A “Política de Apaziguamento” esteve presente

- (A) na crise da Manchúria, porque essa região chinesa foi invadida pelo Japão e, apesar dos protestos da Alemanha e da Bélgica, a diplomacia estadunidense fez uma decisiva defesa do direito japonês em expandir o seu território.
- (B) no acordo de Munique, firmado entre Alemanha, Áustria, França, Inglaterra e Itália, com a chancela dos Estados Unidos, que acabou a autonomia nacional da Polônia e incorporou a maior parte do seu território à Tchecoslováquia.
- (C) no processo de criação da Liga das Nações, porque esta entidade, com o apoio francês e inglês, defendia que os acordos assinados após a Primeira Guerra não tinham validade porque não contaram com a participação da Alemanha e da Rússia.
- (D) na Guerra Civil Espanhola, porque as forças chefiadas pelo general Franco, interessadas em derrubar um governo republicano, receberam apoio da Alemanha e da Itália, enquanto França e Inglaterra não defenderam a ordem democrática espanhola.
- (E) na crise da Renânia, região fronteiriça entre Alemanha, Bélgica e França, que foi ocupada pelos franceses, com o aval da Liga das Nações, apesar das determinações do Tratado de Versalhes que havia determinado que esse espaço pertencia à Bélgica.

37. Leia o excerto de um discurso do líder soviético Nikita Krushev, em 06 de junho de 1956.

Pode ser que vosso vizinho vos seja simpático, ou não. Não tendes a obrigação de ser seus amigos ou de visitá-los. Porém, viveis lado a lado, e que fazer se nem nós nem ele se dispõem a deixar o lugar a que estão habituados, para se fixar em outra cidade? Com muito maior razão, o mesmo ocorre nas relações entre os Estados. [...] Quer nosso vizinho vos agrade ou não, não há outra coisa a fazer senão encontrar um terreno de entendimento com ele, pois nós temos um só planeta.

(*apud* Adhemar Martins Marques *et al.*, *História do tempo presente*)

Considerando o contexto histórico dessa manifestação, é correto afirmar que o líder soviético

- (A) aceita a criação da OTAN, mas exige que o Ocidente tenha a mesma relação com o recém-fundado Pacto de Varsóvia.
- (B) considera o armamentismo dos EUA um perigo à paz mundial, decidindo dotar a URSS com armas nucleares.
- (C) avalia como positivas as ações soviéticas nos processos de libertação colonial na Ásia e na África.
- (D) sinaliza a possibilidade de um acordo em bases diferentes entre as duas superpotências.
- (E) condena a interferência dos EUA em países da Cortina de Ferro, sob a influência soviética.

### HISTÓRIA DO BRASIL

38. A convocação para as eleições, visando à composição da Assembleia Constituinte, e os novos partidos, organizações políticas de massa que surgiam, agitavam os anos que vão de 1932 a 1935. Nesse período, são perceptíveis ao menos quatro grandes tendências político-ideológicas: autoritarismo cientificista, liberalismo, esquerdismos e fascismo.

(Marcos Napolitano, *História do Brasil República: da queda da Monarquia ao fim do Estado Novo*, p. 101. Texto adaptado)

Sobre a tendência fascista, é correto afirmar que

- (A) esteve presente em vários partidos políticos, de ideologias variadas, que apoiavam medidas estatais para livrar o país da influência das grandes potências econômicas da época, como a França e a Inglaterra.
- (B) teve origem nas organizações sindicais-operárias e sua influência esteve presente, em especial, nas grandes cidades do Nordeste ao fazer a defesa de uma intervenção estatal para industrializar o Brasil.
- (C) se organizou em movimentos sociais e não em partido político, e fazia uma defesa radical das riquezas nacionais, caso do minério de ferro e do petróleo, que deveriam ser explorados pela iniciativa privada.
- (D) se organizou em um partido de abrangência nacional, o Partido Republicano Constitucional (PRC), que tinha amplo apoio das classes populares e defendia o direito inviolável da propriedade e a liberdade de expressão.
- (E) se formou a Ação Integralista Brasileira (AIB) como principal grupo, que tinha apoio da classe média e uma ideologia caracterizada pelo nacionalismo, civismo, corporativismo e catolicismo ultraconservador.

39. A primeira Constituição republicana, promulgada em fevereiro de 1891, inspirou-se no modelo norte-americano [...].

(Boris Fausto, *História concisa do Brasil*, p. 141)

Esta Constituição

- (A) criou a Justiça Eleitoral, responsável pelo processo eleitoral em todos os estados brasileiros, e a Justiça do Trabalho, a quem cabia conciliar os interesses dos setores empresariais e os trabalhadores organizados em sindicatos por categoria.
- (B) permitiu, ao menos implicitamente, aos estados exercerem diversas atribuições, como contrair empréstimos externos e organizar forças militares próprias, além do direito expresso de decretar imposto sobre a exportação de suas mercadorias.
- (C) decidiu que o Poder Executivo deveria ser exercido pelo presidente da República, com mandato de cinco anos e com direito à reeleição, desde que o candidato fosse escolhido em uma convenção partidária.
- (D) ampliou a participação política dos cidadãos, com o direito ao voto para todos os homens e mulheres maiores de 21 anos, com exceção dos cidadãos que não estudassem ou exercessem alguma atividade profissional remunerada.
- (E) concentrou as atribuições tributárias no governo central, e cabia aos municípios, a partir de recursos transferidos pela presidência da República, a organização da segurança, da saúde e da educação.

40. No dia 12 [de dezembro de 1968], o pedido chegou ao plenário, e a votação se estendeu por horas. Finalmente, confrontando os militares, a Câmara dos Deputados rejeitou o pedido de suspensão das imunidades parlamentares de Márcio Moreira Alves por 216 votos contra 141 e 12 abstenções. Celebrando o resultado, os parlamentares cantaram o Hino Nacional.

No dia seguinte, o Conselho de Segurança Nacional aprovou o Ato Institucional n. 5, tornando perenes os poderes discricionários que atribuía ao presidente da República.

(Carlos Fico, *História do Brasil contemporâneo: da morte de Vargas aos dias atuais*, p. 66)

O Ato Institucional, aprovado em dezembro de 1968, permitia ao presidente da República

- (A) cassar mandatos e suspender direitos políticos, assim como demitir ou aposentar servidores públicos.
- (B) escolher os prefeitos e os governadores de estado, além de aprovar, ou não, os orçamentos públicos em todos os níveis de poder.
- (C) indicar um senador indireto por estado e escolher os secretários estaduais de Segurança Pública.
- (D) escolher os presidentes do Senado, da Câmara dos Deputados e das Assembleias Legislativas de cada Estado.
- (E) proibir o *habeas corpus* em todas as ações penais e referendar as eleições legislativas estaduais.

41. Em fevereiro de 1978, no Rio de Janeiro, foi fundado o primeiro Comitê Brasileiro pela Anistia (CBA). E o que até então se apresentava como uma medida de justiça restaurativa se transformou numa afirmativa de direitos – a “face imprescindível das liberdades democráticas”, sublinhou a Carta de Princípios do CBA paulista, criado em maio de 1978.

Os CBAs foram a senha para o início de um movimento memorável – a campanha pela anistia ampla, geral e irrestrita –, que unificou as forças de oposição, reuniu artistas e intelectuais, ganhou a opinião pública, e transbordou para a rua em passeatas, comícios e atos públicos.

(Lília M. Schwarcz e Heloísa M. Starling, *Brasil: uma biografia*, p. 479)

A Lei da Anistia de agosto de 1979 foi

- (A) produto de uma longa negociação entre as lideranças da ARENA e do MDB e, com a forte oposição das principais centrais sindicais, resultou numa lei bem abrangente, que permitiu que os cargos políticos e administrativos exercidos antes de 1964 fossem imediatamente reassumidos.
- (B) derivada de uma emenda constitucional proposta pelos deputados e senadores do MDB, com o apoio de alguns parlamentares da ARENA, e garantiu uma anistia política a todas as forças políticas, com exceção dos militantes ligados aos grupos clandestinos de esquerda.
- (C) enviada pelo presidente da República ao Congresso e teve como resultado a volta de exilados e a libertação de presos políticos e, ao mesmo tempo, não permitiu a responsabilização individual dos coautores dos crimes praticados pelo Estado durante o regime autoritário.
- (D) de Iniciativa Popular, a partir das lideranças da OAB e da CNBB, aprovada apenas com os votos da oposição ao governo federal, permitindo a imediata liberdade de todos os presos políticos, assim como a legalização dos partidos comunistas e das centrais sindicais.
- (E) proposta pelo ministro da Justiça e aprovada depois de exaustivas negociações com os parlamentares da ARENA, que não aceitavam que as principais lideranças antes da ruptura institucional de 1964 fossem anistiadas e tivessem os seus direitos políticos reestabelecidos.



42. A produção e distribuição de uma vacina contra a covid-19 vai mudar o cenário geopolítico, segundo Thiago de Aragão, mestre em relações internacionais pela Universidade Johns Hopkins. Na avaliação dele, que também é pesquisador do *Center for Strategic and International Studies*, nos Estados Unidos, a busca por um imunizante contra o coronavírus trouxe ainda um elemento interno, em que populações criaram aversões à vacina de alguns países.

(Gilson Garret Jr. <https://exame.com>. 11.12.2020)

A primazia geopolítica sugerida no excerto, resultado da corrida pela produção e pela distribuição de vacinas contra a covid-19 e da construção de discursos identitários, encontra semelhança na

- (A) adoção do Tratado de Tordesilhas entre Portugal e Espanha.
- (B) criação de um Estado curdo entre israelenses e palestinos.
- (C) discussão territorial entre Rússia e Ucrânia pela anexação da Caxemira.
- (D) guerra ao terror proclamada pela Tríplice Aliança contra o Estado Islâmico.
- (E) disputa ideológica entre Estados Unidos e União Soviética durante a Guerra Fria.

43. Analise a charge.

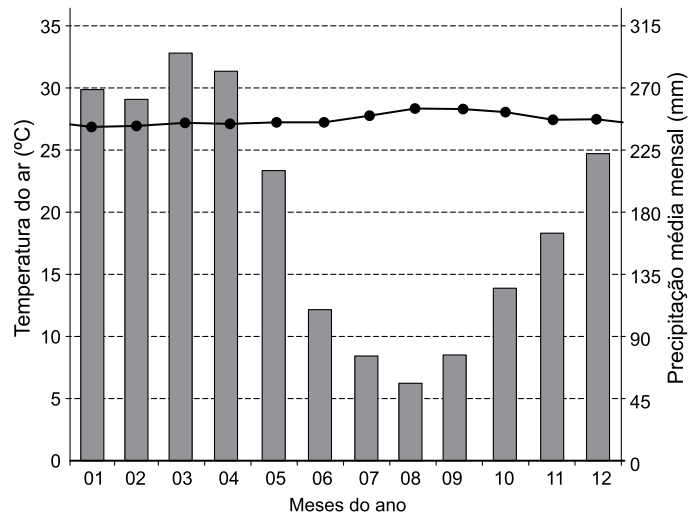


(Blog do Lute. [www.hojeemdia.com.br](http://www.hojeemdia.com.br). 20.12.2019. Adaptado)

Ironizado na charge, o efeito estufa é

- (A) o resultado da elevação do nível do mar.
- (B) a precipitação carregada de ácidos nítrico e sulfúrico.
- (C) o aquecimento anormal das águas do Oceano Pacífico.
- (D) um fenômeno natural intensificado por atividades humanas.
- (E) um fenômeno restrito às grandes cidades.

44. Examine o climograma.



(<https://pt.climate-data.org>)

Os valores anuais de temperatura do ar e de precipitação média mensal registrados no gráfico são típicos do clima

- (A) tropical semiárido, particularizado por seu verão úmido e seu inverno frio e localizado na grande área central brasileira.
- (B) equatorial úmido, influenciado pela convergência dos ventos alísios e predominante na região amazônica brasileira.
- (C) tropical, caracterizado pela ação irregular das massas de ar e restrito ao sertão nordestino e ao norte de Minas Gerais.
- (D) subtropical úmido, controlado pela ação da massa tropical continental e presente na região Sul brasileira.
- (E) litorâneo úmido, determinado pela massa tropical marítima e encontrado nas regiões Nordeste e Sudeste brasileiras.

45. Analise o mapa.



(<http://g1.globo.com>. 15.07.2011.)

No contexto dos movimentos realizados pela população brasileira em seu território, as regiões e os fluxos destacados no mapa fazem referência à

- (A) densidade demográfica.
- (B) economia informal.
- (C) imigração sazonal.
- (D) macrocefalia urbana.
- (E) migração de retorno.

46. De uns tempos pra cá, o termo “gentrificação” passou a povoar discussões sobre a ocupação humana nos bairros das cidades. Virou praxe encarar a mudança de perfil em determinadas regiões como “ocupação *hipster*”. O termo pode parecer novo, mas seus efeitos são velhos conhecidos, muito antes da banquinha de fanzines<sup>1</sup> e aquele café (que também é uma floricultura) abrirem perto de sua casa. Em São Paulo, seus efeitos podem ser vistos desde o início do século 20, com a transformação do Vale do Anhangabaú em via ou com a inauguração do Teatro Municipal e do Jardim da Luz, na região central.

(Tiago Dias. <https://tab.uol.com.br>. 10.07.2020. Adaptado.)

<sup>1</sup> Da junção em inglês das palavras *fanatic* e *magazine*, fanzines são pequenas publicações caseiras, produzidas por entusiastas de determinado assunto.

Caracteriza uma consequência do processo urbano destacado no excerto

- (A) o movimento migratório de retorno, que auxilia a reapropriação do espaço urbano por populações tradicionais.
- (B) a concentração fundiária, que amplia a posse do Estado sobre propriedades de interesse econômico estratégico.
- (C) o estímulo à formação de megalópoles, que inserem pequenas cidades na lógica da globalização.
- (D) a valorização imobiliária, que compromete a permanência de pessoas com menor renda nas áreas resignificadas.
- (E) a fragmentação dos limites municipais, que perdem sentido com a expansão da mancha urbana entre cidades vizinhas.

47. Examine o quadro.

Impactos aos solos
I. Afetam a microbiota presente no solo.
II. Aumentam a taxa de decomposição da matéria orgânica e de mineralização do solo.
III. Alteram a capacidade de infiltração do solo.
IV. Deixam o solo exposto a processos erosivos, já que sua camada protetora é retirada.

(Helivania S. dos Santos. [www.biologianet.com](http://www.biologianet.com). Adaptado.)

No Brasil, os impactos apresentados no quadro são comumente observados em áreas de cultivo em que se adota a prática

- (A) do terraceamento.
- (B) da lixiviação.
- (C) das queimadas.
- (D) das paliçadas.
- (E) do assoreamento.

#### ATUALIDADES

48. A partida entre o Paris Saint-Germain e o Istambul Basaksehir, disputada em 08 de dezembro de 2020, no *Parc des Princes*, em Paris, pela Liga dos Campeões foi interrompida [...]. Os atletas deixaram o gramado, numa atitude inédita na competição. Houve tentativa da União das Federações Europeias de Futebol (UEFA) de reiniciar a partida, que acabou suspensa.

(<https://bit.ly/36tNjGH>. Acessado em 31.01.2021. Adaptado)

A interrupção da partida de futebol citada no excerto foi motivada

- (A) pelo combate a práticas racistas.
- (B) pela intolerância religiosa entre turcos e franceses.
- (C) pela ausência de público nos estádios.
- (D) pela negligência parisiense no combate à covid-19.
- (E) pelas restrições à entrada de imigrantes na França.

## NOÇÕES BÁSICAS DE INFORMÁTICA

49. As principais praças do país ficaram lotadas na noite de domingo, 26 de outubro de 2020, depois que os eleitores deram amplo apoio ao plano de descartar a atual Constituição em favor de uma nova Carta que será escrita pelos cidadãos.

Na praça, foco de gigantescos e muitas vezes violentos protestos no ano passado, fogos de artifício foram lançados em meio a uma multidão de dezenas de milhares de pessoas gritando em uníssono a palavra “renascimento”.

Com mais de três quartos dos votos apurados, 78,12% dos eleitores optaram por uma nova Constituição. Muitos manifestaram esperanças de que um novo texto vai moderar um viés amplamente capitalista com garantias de mais direitos iguais na saúde, aposentadorias e educação.

(<https://bit.ly/39zb2aE>. Acessado em 31.01.2021. Adaptado)

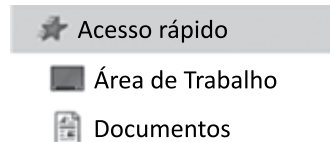
O excerto trata

- (A) da Argentina.
- (B) do Chile.
- (C) da Venezuela.
- (D) do Peru.
- (E) da Bolívia.

50. No início de fevereiro de 2021, no tocante à tragédia ocorrida em Brumadinho em janeiro de 2019, a Vale

- (A) anunciou novas diretrizes da empresa no país, que apontam para a ampliação de investimentos na produção de derivados de minério de ferro e o abandono progressivo do extrativismo mineral.
- (B) foi condenada pela Justiça Federal a indenizar os municípios da Bacia do Paraopeba em R\$ 27 bilhões, que devem ser destinados a obras de saneamento básico, saúde e educação, além de financiar projetos de recuperação ambiental.
- (C) criou a Fundação Vale, entidade mantida com recursos próprios e que tem o objetivo de viabilizar projetos de desenvolvimento econômico-social nos espaços atingidos pelo rompimento de barragens em áreas de extrativismo mineral.
- (D) fez um acordo no valor de R\$ 37,68 bilhões com o governo de Minas, o Ministério Público de Minas Gerais e outras instituições, com o intuito de amenizar os impactos do rompimento da barragem de Córrego do Feijão.
- (E) se comprometeu a encerrar a exploração de minério de ferro nas regiões brasileiras que necessitem da construção de barragens de rejeitos e a desenvolver novas técnicas de obtenção de recursos minerais com o mínimo de impacto ambiental.

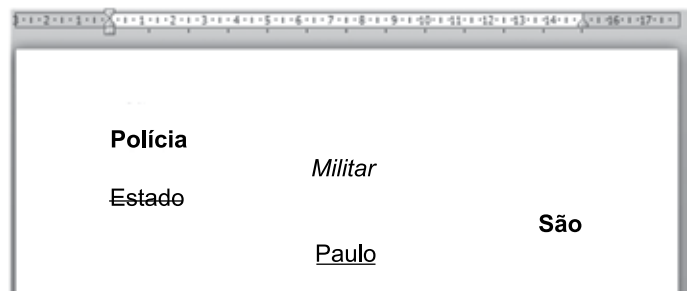
51. Um usuário, por meio do Explorador de Arquivos do MS-Windows 10, ambos em configuração original, e com as permissões necessárias, abre a pasta raiz de um pendrive conectado a seu computador. Em seguida, clica com o botão principal do mouse sobre um dos arquivos da pasta e, mantendo o botão pressionado, arrasta o arquivo selecionado para cima da posição Área de Trabalho, na seção de Acesso rápido (conforme a imagem a seguir), soltando o botão do mouse.



A operação descrita no enunciado resultará em

- (A) enviar o arquivo selecionado para a Lixeira.
- (B) excluir o arquivo selecionado.
- (C) exibir o conteúdo do arquivo na Área de Trabalho.
- (D) mover o arquivo selecionado para a Área de Trabalho.
- (E) copiar o arquivo selecionado para a Área de Trabalho.

52. Observe a imagem a seguir retirada do MS-Word 2010, em sua configuração padrão, que mostra 5 palavras digitadas em 5 parágrafos distintos. Não foram digitados caracteres brancos e todo o texto possui o mesmo tipo de letra e o mesmo tamanho de fonte.



Assinale a alternativa que apresenta uma correlação correta entre a formatação de Fonte e o alinhamento de Parágrafo aplicados à respectiva palavra, de acordo com o que se vê na imagem.

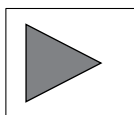
- (A) Militar: negrito e centralizado.
- (B) São: negrito e alinhado à esquerda.
- (C) Estado: tachado e justificado.
- (D) Polícia: sublinhado e alinhado à esquerda.
- (E) Paulo: sublinhado e justificado.

53. Observe a imagem a seguir, que apresenta uma planilha elaborada por meio do MS-Excel 2010, em sua configuração padrão.

	A	B	C
1	2	5	5
2	2	4	6
3	3	3	2
4			

O resultado apresentado pela fórmula =MAIOR(A1:C3;3) após ser aplicada à célula C4 será

- (A) 5
  - (B) 2
  - (C) 3
  - (D) 4
  - (E) 6
54. Um usuário escolheu um botão de ação, exibido na imagem a seguir, e o inseriu em um dos *slides* de sua apresentação elaborada por meio do MS-PowerPoint 2010, em sua configuração original.



Assinale a alternativa que apresenta o *hiperlink* padrão associado ao botão de ação exibido.

- (A) Finalizar apresentação.
  - (B) Primeiro slide.
  - (C) Próximo slide.
  - (D) Slide Anterior.
  - (E) Último slide.
55. Um soldado deseja abrir uma nova guia na janela ativa do Google Chrome versão 87, em sua configuração padrão.

O atalho por teclado que permite executar a ação descrita no enunciado é

- (A) Ctrl + G
- (B) Ctrl + J
- (C) Ctrl + N
- (D) Ctrl + T
- (E) Ctrl + F

## NOÇÕES DE ADMINISTRAÇÃO PÚBLICA

56. É de fundamental importância o conhecimento por parte dos agentes do Estado dos direitos e garantias fundamentais previstos na Constituição Federal. Neste contexto, é correto afirmar, sobre esse tema, com base na Constituição Federal de 1988, que:

- (A) todos podem reunir-se pacificamente, sem armas, em locais abertos ao público, desde que obtenham previamente autorização da autoridade competente.
- (B) não é permitido a ninguém ingressar na casa alheia sem o consentimento do morador, exceto se em decorrência de determinação judicial ou nos casos de flagrante delito, desastre ou para prestar socorro.
- (C) ninguém será obrigado a fazer ou deixar de fazer alguma coisa senão em virtude de ordem expressa de autoridade pública competente.
- (D) é inviolável o sigilo da correspondência e das comunicações telefônicas, salvo por ordem da autoridade policial, para fins de investigação criminal.
- (E) é plena a liberdade de associação, não podendo o Estado negar o registro de associações civis em decorrência do seu objeto social.

57. Sobre os direitos políticos, com base na Constituição Federal de 1988, é correto afirmar que

- (A) podem alistar-se como eleitores os estrangeiros, desde que vivam no país por, no mínimo, 4 (quatro) anos sem interrupção.
- (B) o conjunto dos inalistáveis é igual ao conjunto dos inelegíveis.
- (C) o alistamento eleitoral e o voto são obrigatórios para os maiores de dezesseis anos.
- (D) os analfabetos são inalistáveis.
- (E) a idade mínima para elegibilidade ao cargo de Governador de Estado é de 30 (trinta) anos.

58. Secretário Municipal de Saúde, no exercício de sua função pública, requisita para si e para sua esposa dose de medicamento escasso e cuja distribuição é controlada, sem cumprirem os requisitos de priorização estabelecidos em plano nacional amplamente divulgado. Nesta situação hipotética, além de eventuais ilícitos civis, penais e administrativos, é correto afirmar que o Secretário violou os seguintes princípios da Administração Pública expressamente previstos no texto constitucional:

- (A) efetividade e vinculação ao instrumento convocatório.
- (B) eficácia e moralidade.
- (C) legalidade e publicidade.
- (D) pessoalidade e legalidade.
- (E) moralidade e impessoalidade.

59. É correto afirmar sobre a Polícia Militar, com base na Constituição do Estado de São Paulo, que

- (A) a remoção de integrante da carreira de soldado da Polícia Militar somente poderá ocorrer mediante pedido do interessado ou manifestação favorável da Casa Militar.
- (B) ao Corpo de Bombeiros, além das atribuições definidas em lei, incumbe a execução de atividades de defesa civil.
- (C) lhe incumbe, ressalvada a competência da União, as funções de polícia judiciária e a apuração de infrações penais.
- (D) o Comandante-Geral da Polícia Militar será nomeado dentre oficiais da ativa ou da reserva, ocupantes dos dois últimos postos do Quadro de Oficiais Policiais Militares.
- (E) aos soldados é assegurada independência funcional pela livre convicção nos atos de polícia ostensiva, cabendo-lhes definir discricionariamente o procedimento mais apropriado em cada situação.

60. O acesso à informação detida pelos órgãos públicos é um dos direitos mais relevantes para o controle social da Administração Pública. Sobre esse tema, é correto afirmar, com base na Lei Federal nº 12.527/2011, que

- (A) as informações ou documentos que versem sobre condutas que impliquem violação dos direitos humanos praticada por agentes públicos ou a mando de autoridades públicas não poderão ser objeto de restrição de acesso.
- (B) esta lei não se aplica à pessoa física ou à entidade privada que detiver informações em virtude de vínculo de qualquer natureza com o poder público.
- (C) é dever dos órgãos e entidades públicas promover, sempre mediante requerimento, a divulgação em local de fácil acesso de informações de interesse coletivo ou geral por eles produzidas ou custodiadas.
- (D) as informações que, no interesse dos seus titulares, devam ser mantidas sob sigilo, poderão receber classificação como "ultrassecreta", "secreta" ou "reservada", a depender do grau de confidencialidade desejado.
- (E) os órgãos públicos não respondem pelos danos causados em decorrência da divulgação não autorizada de informações pessoais em caso de culpa ou dolo de agente público responsável pelo sigilo

# REDAÇÃO

## TEXTO 1

O empreendedorismo está relacionado a construir, com as próprias mãos, a carreira. A função principal de um empreendedor é a de abrir uma empresa com o objetivo de desenvolvê-la e gerar lucros. Nesse contexto, a ambição de muitos empreendedores, ao criarem um negócio, é o motor principal para a geração de novos empregos e de novas oportunidades de trabalho. Em outras palavras, uma vida melhor para muitas famílias pode começar com a vontade de uma única pessoa em criar um novo produto.

(Nicole Martins Ferreira. "O que é empreendedorismo? Definições e significados". [www.oberlo.com.br](http://www.oberlo.com.br), 04.09.2020. Adaptado)

## TEXTO 2

Segundo o Instituto Brasileiro de Geografia e Estatística (IBGE), em uma pesquisa divulgada com dados até 2018, mais de 70% das empresas fundadas no país fechavam as portas em menos de dez anos de atividade. Na prática, cerca de uma em cada cinco empresas fecharam as portas em menos de um ano em operação, ou seja, 18,5% do total. Com o passar do tempo, a taxa de sobrevivência das companhias no país diminui paulatinamente. Com cinco anos em operação, cerca de metade das empresas no Brasil já encerraram as atividades.

(Alessandra Saraiva. "Maioria das empresas no país não dura 10 anos, e 1 de 5 fecha após 1 ano". <https://valor.globo.com>, 22.10.2020. Adaptado)

## TEXTO 3

Paulo Feldmann, professor de economia da Universidade de São Paulo (USP), destaca que uma das maneiras para solucionar parte da crise econômica é transformar o trabalhador desempregado em microempreendedor. Essa foi a alternativa encontrada por Cristiane Martins que, aos 39 anos, se define como microempreendedora, já que vende doces e salgados produzidos por ela. A nova ocupação surgiu depois de vivenciar a dificuldade decorrente da falta de vagas no mercado de trabalho.

Outro exemplo é o de Nathália Albuquerque que, após ficar desocupada, adquiriu uma máquina para as personalizações de camisetas e, por mês, tem lucro que varia de R\$ 1 mil a R\$ 1,5 mil. Segundo ela, além do retorno financeiro, trabalhar com isso significa liberdade, pois ela não depende de ninguém para ter salário e trabalha na hora em que quiser.

(Augusto Fernandes, Maria E. Cardim. "Criatividade contra a crise". [www.correiobraziliense.com.br](http://www.correiobraziliense.com.br), 26.05.2019. Adaptado)

## TEXTO 4

Toda vez que alguém é demitido do lugar onde trabalhava durante anos, logo vem aquele velho conselho: "por que você não pega esse dinheiro que recebeu e abre o próprio negócio?". Apesar de ser inegável o potencial da ação empreendedora para gerar emprego, é preciso contrapor a visão de muitos de que ela por si só é capaz de resolver todos os problemas desse campo.

Seguindo uma vertente mais tradicional do empreendedor voltado a atender clientes, se considerado o capital inicial necessário para a abertura de uma pequena empresa, seja uma padaria ou uma franquia, o empreendedorismo não é uma solução para todos e só poderá sê-la para pouquíssimos.

Numa segunda vertente em que o empreendedor presta serviços a outra empresa, substituindo uma rígida relação patrão-empregado, o *freelancer* tem a possibilidade de trabalhar para múltiplos patrões. Todavia uma inserção precária nesse mercado reserva aos *freelancers* trabalhos por ordenados baixíssimos ou nulos e inexistência de garantias trabalhistas, como férias remuneradas e aposentadoria. Além disso, é fácil trocar profissionais em trabalhos operacionais que são abundantes.

(Gustavo Barreto. "Por que o empreendedorismo talvez não seja a solução dos nossos problemas". <https://papodehomem.com.br>, 07.03.2016. Adaptado)

Com base nos textos apresentados e em seus próprios conhecimentos, escreva um texto dissertativo-argumentativo, empregando a norma-padrão da língua portuguesa, sobre o tema:

## O EMPREENDEDORISMO PODE SER UMA SOLUÇÃO EFICAZ PARA O DESEMPREGO?









**POLÍCIA MILITAR DO ESTADO DE SÃO PAULO**  
**DIRETORIA DE PESSOAL**

Concurso Público

16.05.2021

**001. PROVA OBJETIVA – PARTE I**

Soldado PM de 2ª classe

**VERSÃO 3**

1 - B	2 - D	3 - D	4 - E	5 - E	6 - A	7 - C	8 - E	9 - B	10 - D
11 - C	12 - A	13 - C	14 - E	15 - A	16 - B	17 - D	18 - E	19 - A	20 - B
21 - C	22 - E	23 - D	24 - B	25 - A	26 - C	27 - B	28 - E	29 - A	30 - D
31 - C	32 - E	33 - B	34 - A	35 - C	36 - D	37 - D	38 - E	39 - B	40 - A
41 - C	42 - E	43 - D	44 - B	45 - E	46 - D	47 - C	48 - A	49 - B	50 - D
51 - E	52 - C	53 - A	54 - C	55 - D	56 - B	57 - E	58 - E	59 - B	60 - A